

ENEM 2009 - Prova resolvida

Química

01. A atmosfera terrestre é composta pelos gases nitrogênio (N_2) e oxigênio (O_2), que somam cerca de 99 %, e por gases traços, entre eles o gás carbônico (CO_2), vapor de água (H_2O), metano (CH_4), ozônio (O_3) e o óxido nitroso (N_2O), que compõem o restante 1 % do ar que respiramos.

Os gases traços, por serem constituídos por pelo menos três átomos, conseguem absorver o calor irradiado pela Terra, aquecendo o planeta. Esse fenômeno, que acontece há bilhões de anos, é chamado de efeito estufa. A partir da Revolução Industrial (século XIX), a concentração de gases traços na atmosfera, em particular o CO_2 , tem aumentado significativamente, o que resultou no aumento da temperatura em escala global. Mais recentemente, outro fator tornou-se diretamente envolvido no aumento da concentração de CO_2 na atmosfera: o desmatamento.

BROWN, I. F.; ALECHANDRE, A. S. Conceitos básicos sobre clima, carbono, florestas e comunidades. A.G. Moreira & S. Schwartzman. *As mudanças climáticas globais e os ecossistemas brasileiros*. Brasília: Instituto de Pesquisa Ambiental da Amazônia, 2000 (adaptado).

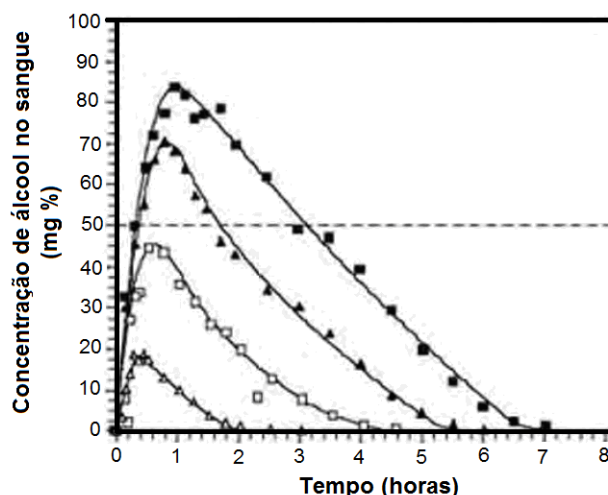
Considerando o texto, uma alternativa viável para combater o efeito estufa é

- reduzir o calor irradiado pela Terra mediante a substituição da produção primária pela industrialização refrigerada.
- promover a queima da biomassa vegetal, responsável pelo aumento do efeito estufa devido à produção de CH_4 .
- reduzir o desmatamento, mantendo-se, assim, o potencial da vegetação em absorver o CO_2 da atmosfera.
- aumentar a concentração atmosférica de H_2O , molécula capaz de absorver grande quantidade de calor.
- remover moléculas orgânicas polares da atmosfera, diminuindo a capacidade delas de reter calor.

Resolução: Alternativa C

Considerando o texto, uma alternativa viável para combater o efeito estufa é reduzir o desmatamento, mantendo-se, assim, o potencial da vegetação em absorver o CO_2 da atmosfera. Este processo também é conhecido como fotossíntese e neste caso se levaria em consideração apenas a vegetação terrestre.

02. Analise a figura



Disponível em <http://www.alcoologia.net>. Acesso em: 15 jul. 2009 (adaptado).

Supondo que seja necessário dar um título para essa figura, a alternativa que melhor traduziria o processo representado seria:

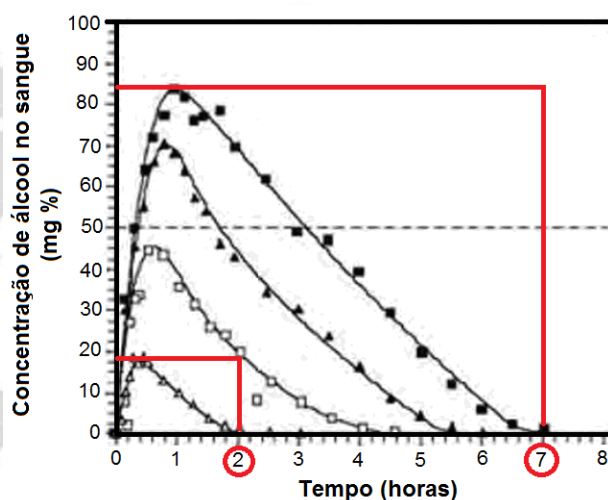
- a) Concentração média de álcool no sangue ao longo do dia.
- b) Variação da frequência da ingestão de álcool ao longo das horas.
- c) Concentração mínima de álcool no sangue a partir de diferentes dosagens.
- d) Estimativa de tempo necessário para metabolizar diferentes quantidades de álcool.
- e) Representação gráfica da distribuição de frequência de álcool em determinada hora do dia.

Resolução:

Alternativa D

O processo pode representado seria uma estimativa do tempo necessário para o organismo metabolizar diversas concentrações de álcool.

Percebe-se que quanto maior a concentração de álcool no sangue, maior o tempo necessário para a metabolização.



Disponível em <http://www.alcoologia.net>. Acesso em: 15 jul. 2009 (adaptado).

03. O ciclo biogeoquímico do carbono compreende diversos compartimentos, entre os quais a Terra, a atmosfera e os oceanos, e diversos processos que permitem a transferência de compostos entre esses reservatórios. Os estoques de carbono armazenados na forma de recursos não renováveis, por exemplo, o petróleo, são limitados, sendo de grande relevância que se perceba a importância da substituição de combustíveis fósseis por combustíveis de fontes renováveis.

A utilização de combustíveis fósseis interfere no ciclo do carbono, pois provoca

- a) aumento da porcentagem de carbono contido na Terra.
- b) redução na taxa de fotossíntese dos vegetais superiores.
- c) aumento da produção de carboidratos de origem vegetal.
- d) aumento na quantidade de carbono presente na atmosfera.
- e) redução da quantidade global de carbono armazenado nos oceanos.

Resolução:

Alternativa D

A utilização de combustíveis fósseis interfere no ciclo do carbono, pois provoca aumento na quantidade de carbono presente na atmosfera.

04. A fotossíntese é importante para a vida na Terra.

Nos cloroplastos dos organismos fotossintetizantes, a energia solar é convertida em energia química que, juntamente com água e gás carbônico (CO₂), é utilizada para a síntese de compostos orgânicos (carboidratos). A fotossíntese é o único processo de importância biológica capaz de realizar essa conversão. Todos os organismos, incluindo os produtores, aproveitam a energia armazenada nos carboidratos para impulsionar os processos celulares, liberando CO₂ para a atmosfera e água para a célula por meio da respiração celular. Além disso, grande fração dos recursos energéticos do planeta, produzidos tanto no presente (biomassa) como em tempos remotos (combustível fóssil), é resultante da atividade fotossintética.

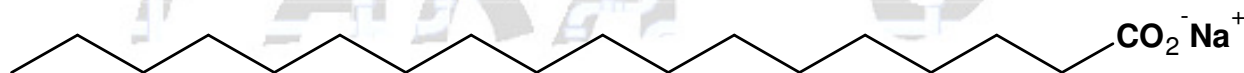
As informações sobre obtenção e transformação dos recursos naturais por meio dos processos vitais de fotossíntese e respiração, descritas no texto, permitem concluir que

- o CO₂ e a água são moléculas de alto teor energético.
- os carboidratos convertem energia solar em energia química.
- a vida na Terra depende, em última análise, da energia proveniente do Sol.
- o processo respiratório é responsável pela retirada de carbono da atmosfera.
- a produção de biomassa e de combustível fóssil, por si, é responsável pelo aumento de CO₂ atmosférico.

Resolução:
Alternativa C


As informações sobre obtenção e transformação dos recursos naturais por meio dos processos vitais de fotossíntese e respiração, descritas no texto, permitem concluir que a vida na Terra depende, em última análise, da energia proveniente do Sol, seja ela obtida diretamente ou não.

05. Sabões são sais de ácidos carboxílicos de cadeia longa utilizados com a finalidade de facilitar, durante processos de lavagem, a remoção de substâncias de baixa solubilidade em água, por exemplo, óleos e gorduras. A figura a seguir representa a estrutura de uma molécula de sabão.



Sal de ácido carboxílico

Em solução, os ânions do sabão podem hidrolisar a água e, desse modo, formar o ácido carboxílico correspondente. Por exemplo, para o estearato de sódio, é estabelecido o seguinte equilíbrio:



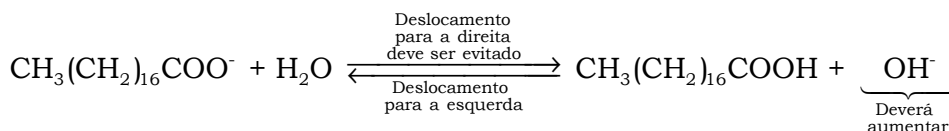
Uma vez que o ácido carboxílico formado é pouco solúvel em água e menos eficiente na remoção de gorduras, o pH do meio deve ser controlado de maneira a evitar que o equilíbrio acima seja deslocado para a direita.

Com base nas informações do texto, é correto concluir que os sabões atuam de maneira

- mais eficiente em pH básico.
- mais eficiente em pH ácido.
- mais eficiente em pH neutro.
- eficiente em qualquer faixa de pH.
- mais eficiente em pH ácido ou neutro.

Resolução:
Alternativa A

O pH do meio deve ser controlado de maneira a evitar que o equilíbrio acima seja deslocado para a direita.



Conseqüentemente a concentração de ânions hidróxido (OH⁻) deverá aumentar, ou seja, o meio deverá ser básico. Isto significa que os sabões atuam de maneira mais eficiente em pH básico.

06. Para que apresente condutividade elétrica adequada a muitas aplicações, o cobre bruto obtido por métodos térmicos é purificado eletroliticamente. Nesse processo, o cobre bruto impuro constitui o ânodo da célula, que está imerso em uma solução de CuSO₄. À medida que o cobre impuro é oxidado no ânodo, íons Cu²⁺ da solução são depositados na forma pura no cátodo. Quanto às impurezas metálicas, algumas são oxidadas, passando à solução, enquanto outras simplesmente se desprendem do ânodo e se sedimentam abaixo dele. As impurezas sedimentadas são posteriormente processadas, e sua comercialização gera receita que ajuda a cobrir os custos do processo. A série eletroquímica a seguir lista o cobre e alguns metais presentes como impurezas no cobre bruto de acordo com suas forças redutoras relativas.

Ouro	↓ Força redutora
Platina	
Prata	
Cobre	
Chumbo	
Níquel	
Zinco	

Entre as impurezas metálicas que constam na série apresentada, as que se sedimentam abaixo do ânodo de cobre são

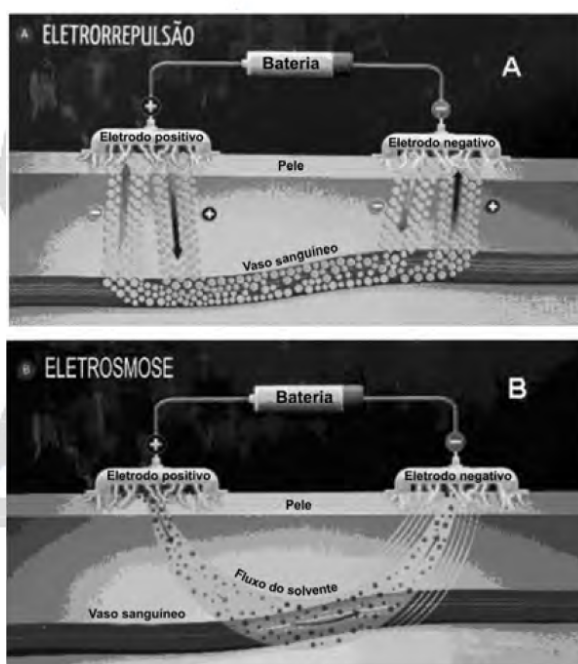
- a) Au, Pt, Ag, Zn, Ni e Pb.
- b) Au, Pt e Ag.
- c) Zn, Ni e Pb.
- d) Au e Zn.
- e) Ag e Pb.

Resolução:
Alternativa B

Neste caso a força redutora é a capacidade de um metal provocar a redução de outro. Para isto acontecer este metal deverá perder elétrons com mais facilidade do que o outro e assim fornecerá os elétrons necessários para ocorrer a redução da outra espécie.

Entre as impurezas metálicas que constam na série apresentada, as que se sedimentam abaixo do ânodo de cobre, ou seja, tem **menor** força redutora são: ouro, platina e prata.

07. Um medicamento, após ser ingerido, atinge a corrente sanguínea e espalha-se pelo organismo, mas, como suas moléculas “não sabem” onde é que está o problema, podem atuar em locais diferentes do local “alvo” e desencadear efeitos além daqueles desejados. Não seria perfeito se as moléculas dos medicamentos soubessem exatamente onde está o problema e fossem apenas até aquele local exercer sua ação? A técnica conhecida como iontoforese, indolor e não invasiva, promete isso. Como mostram as figuras, essa nova técnica baseia-se na aplicação de uma corrente elétrica de baixa intensidade sobre a pele do paciente, permitindo que fármacos permeiem membranas biológicas e alcancem a corrente sanguínea, sem passar pelo estômago. Muitos pacientes relatam apenas um formigamento no local de aplicação. O objetivo da corrente elétrica é formar poros que permitam a passagem do fármaco de interesse. A corrente elétrica é distribuída por eletrodos, positivo e negativo, por meio de uma solução aplicada sobre a pele. Se a molécula do medicamento tiver carga elétrica positiva ou negativa, ao entrar em contato com o eletrodo de carga de mesmo sinal, ela será repelida e forçada a entrar na pele (eletrorrepulsão - A). Se for neutra, a molécula será forçada a entrar na pele juntamente com o fluxo de solvente fisiológico que se forma entre os eletrodos (eletrosmose - B).



GRATIERI, T; GELFUSO, G. M.; LOPES, R. F. V. Medicação do futuro-iontoforese facilita entrada de fármacos no organismo. **Ciência Hoje**, vol 44, no 259, maio 2009 (adaptado).

De acordo com as informações contidas no texto e nas figuras, o uso da iontoforese

- a) provoca ferimento na pele do paciente ao serem introduzidos os eletrodos, rompendo o epitélio.
- b) aumenta o risco de estresse nos pacientes, causado pela aplicação da corrente elétrica.
- c) inibe o mecanismo de ação dos medicamentos no tecido-alvo, pois estes passam a entrar por meio da pele.
- d) diminui o efeito colateral dos medicamentos, se comparados com aqueles em que a ingestão se faz por via oral.
- e) deve ser eficaz para medicamentos constituídos de moléculas polares e ineficaz, se essas forem apolares.

Resolução:
Alternativa D

De acordo com o texto se a molécula do medicamento tiver carga elétrica positiva ou negativa, ao entrar em contato com o eletrodo de carga de mesmo sinal, ela será repelida e forçada a entrar na pele (eletrorrepulsão - A). Se for neutra, a molécula será forçada a entrar na pele juntamente com o fluxo de solvente fisiológico que se forma entre os eletrodos (eletrosmose - B).

Percebe-se pelo texto que a iontoforese não é invasiva e diminui os efeitos colaterais como a dor e azia.

08. Cerca de 1 % do lixo urbano é constituído por resíduos sólidos contendo elementos tóxicos. Entre esses elementos estão metais pesados como o cádmio, o chumbo e o mercúrio, componentes de pilhas e baterias, que são perigosos à saúde humana e ao meio ambiente.

Quando descartadas em lixos comuns, pilhas e baterias, vão para aterros sanitários ou lixões a céu aberto, e o vazamento de seus componentes contamina o solo, os rios e o lençol freático, atingindo a flora e a fauna. Por serem bioacumulativos e não biodegradáveis, esses metais chegam de forma acumulada aos seres humanos, por meio da cadeia alimentar. A legislação vigente (Resolução CONAMA no 257/1999) regulamenta o destino de pilhas e baterias após seu esgotamento energético e determina aos fabricantes e/ou importadores a quantidade máxima permitida desses metais em cada tipo de pilha/bateria, porém o problema ainda persiste.

Disponível em: <http://www.mma.gov.br>. Acesso em: 11 jul. 2009 (adaptado).

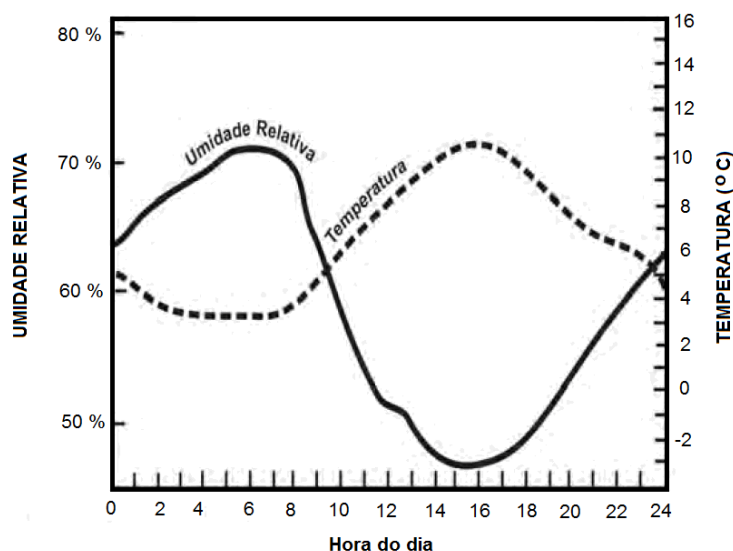
Uma medida que poderia contribuir para acabar definitivamente com o problema da poluição ambiental por metais pesados relatado no texto seria

- a) deixar de consumir aparelhos elétricos que utilizem pilha ou bateria como fonte de energia.
- b) usar apenas pilhas ou baterias recarregáveis e de vida útil longa e evitar ingerir alimentos contaminados, especialmente peixes.
- c) devolver pilhas e baterias, após o esgotamento da energia armazenada, à rede de assistência técnica especializada para repasse a fabricantes e/ou importadores.
- d) criar nas cidades, especialmente naquelas com mais de 100 mil habitantes, pontos estratégicos de coleta de baterias e pilhas, para posterior repasse a fabricantes e/ou importadores.
- e) exigir que fabricantes invistam em pesquisa para a substituição desses metais tóxicos por substâncias menos nocivas ao homem e ao ambiente, e que não sejam bioacumulativas.

Resolução:
Alternativa E

Uma medida que poderia contribuir para acabar definitivamente com o problema da poluição ambiental por metais pesados relatado no texto seria exigir que fabricantes invistam em pesquisa para a substituição desses metais tóxicos por substâncias menos nocivas ao homem e ao ambiente, e que não sejam bioacumulativas ou a reciclagem obrigatória para evitar o descarte descontrolado.

09. Umidade relativa do ar é o termo usado para descrever a quantidade de vapor de água contido na atmosfera. Ela é definida pela razão entre o conteúdo real de umidade de uma parcela de ar e a quantidade de umidade que a mesma parcela de ar pode armazenar na mesma temperatura e pressão quando está saturada de vapor, isto é, com 100 % de umidade relativa. O gráfico representa a relação entre a umidade relativa do ar e sua temperatura ao longo de um período de 24 horas em um determinado local.

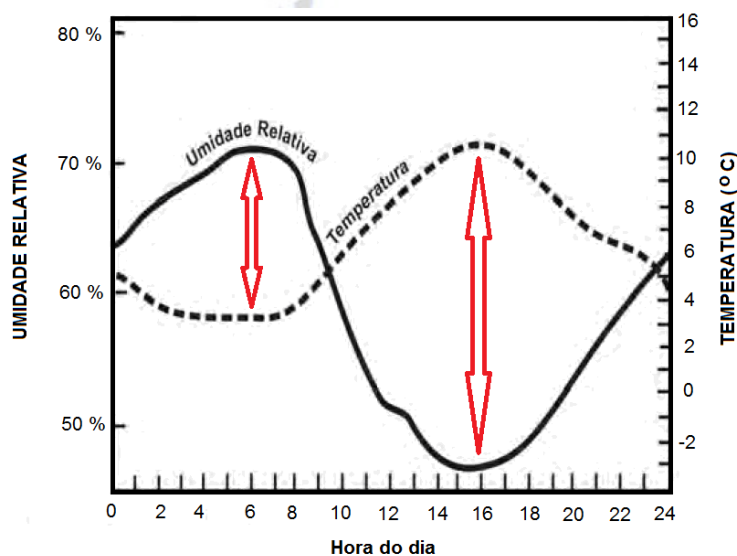


Considerando-se as informações do texto e do gráfico, conclui-se que

- a) a insolação é um fator que provoca variação da umidade relativa do ar.
- b) o ar vai adquirindo maior quantidade de vapor de água à medida que se aquece.
- c) a presença de umidade relativa do ar é diretamente proporcional à temperatura do ar.
- d) a umidade relativa do ar indica, em termos absolutos, a quantidade de vapor de água existente na atmosfera.
- e) a variação da umidade do ar se verifica no verão, e não no inverno, quando as temperaturas permanecem baixas.

Resolução:
Alternativa A

Percebe-se pelo gráfico que a insolação provoca a mudança de temperatura e, conseqüentemente, a variação da umidade relativa do ar.



10. O processo de industrialização tem gerado sérios problemas de ordem ambiental, econômica e social, entre os quais se pode citar a chuva ácida. Os ácidos usualmente presentes em maiores proporções na água da chuva são o H_2CO_3 , formado pela reação do CO_2 atmosférico com a água, o HNO_3 , o HNO_2 , o H_2SO_4 e o H_2SO_3 . Esses quatro últimos são formados principalmente a partir da reação da água com os óxidos de nitrogênio e de enxofre gerados pela queima de combustíveis fósseis.

A formação de chuva mais ou menos ácida depende não só da concentração do ácido formado, como também do tipo de ácido. Essa pode ser uma informação útil na elaboração de estratégias para minimizar esse problema ambiental. Se consideradas concentrações idênticas, quais dos ácidos citados no texto conferem maior acidez às águas das chuvas?

- a) HNO_3 e HNO_2 .
- b) H_2SO_4 e H_2SO_3 .
- c) H_2SO_3 e HNO_2 .
- d) H_2SO_4 e HNO_3 .
- e) H_2CO_3 e H_2SO_3 .

Resolução:
Alternativa D

Os ácidos citados no texto e conferem maior acidez às águas das chuvas são os ácidos sulfúrico e nítrico, pois são ácidos fortes.

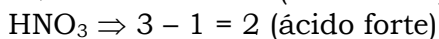
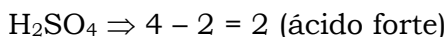
Uma maneira de saber que estes ácidos são fortes é lembrando que:

$D = \text{quantidade de átomos de oxigênio} - \text{quantidade de átomos de hidrogênios ionizáveis}$.

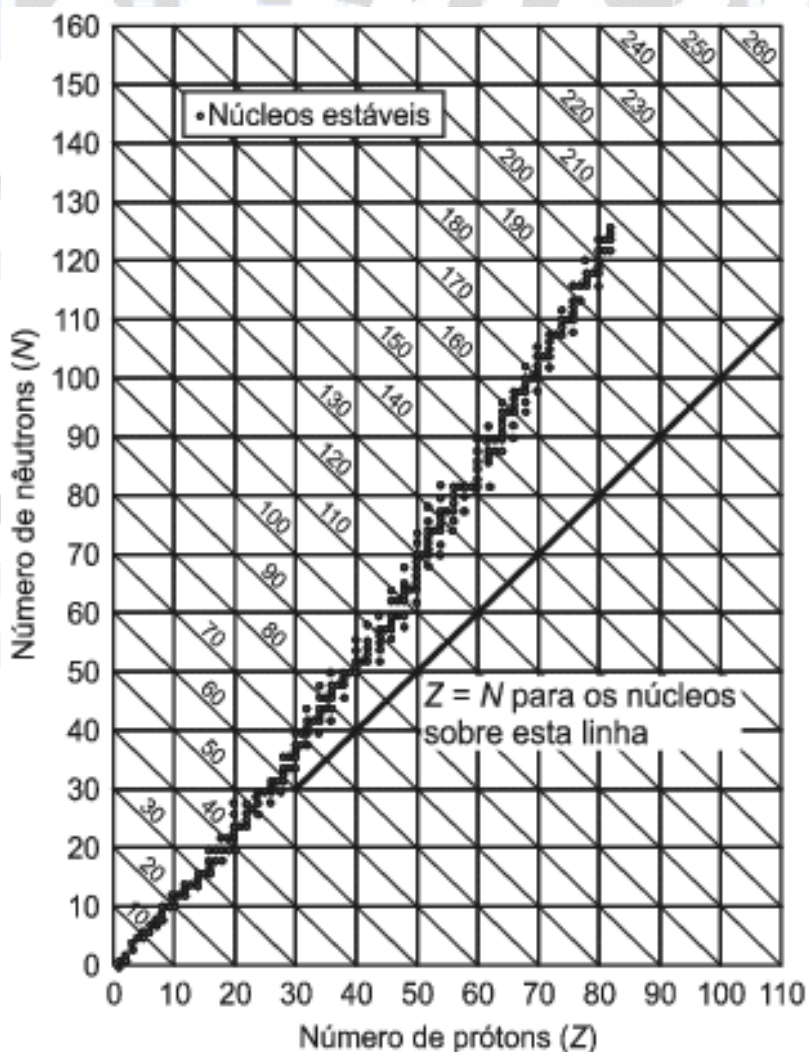
Conforme o valor de **D** encontrado, teremos a seguinte classificação:

Oxiácidos	Valor de D
Fracos	0
Semifortes ou moderados	1
Fortes	2 ou 3

Assim:



11. Os núcleos dos átomos são constituídos de prótons e nêutrons, sendo ambos os principais responsáveis pela sua massa. Nota-se que, na maioria dos núcleos, essas partículas não estão presentes na mesma proporção. O gráfico mostra a quantidade de nêutrons (N) em função da quantidade de prótons (Z) para os núcleos estáveis conhecidos.



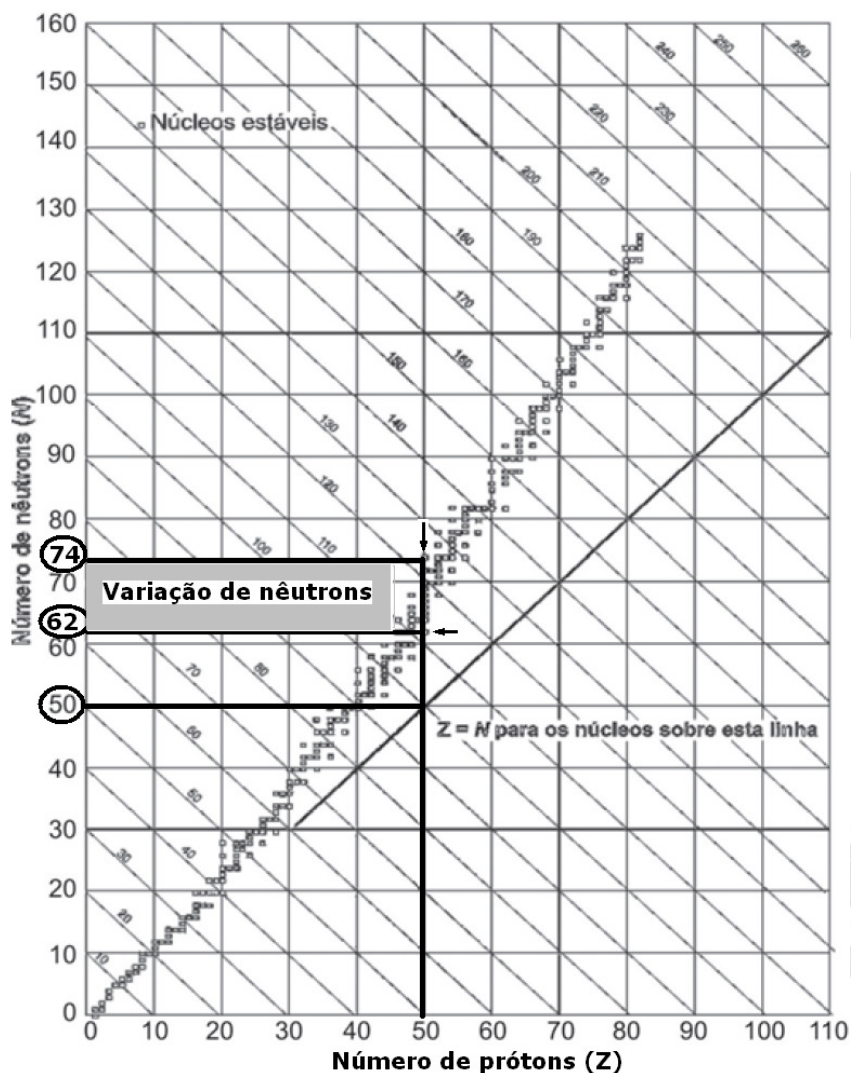
KAPLAN, I. Física Nuclear. Rio de Janeiro: Guanabara Dois, 1978 (adaptado).

O antimônio é um elemento químico que possui 50 prótons e possui vários isótopos — átomos que só se diferem pelo número de nêutrons. De acordo com o gráfico, os isótopos estáveis do antimônio possuem

- a) entre 12 e 24 nêutrons a menos que o número de prótons.
- b) exatamente o mesmo número de prótons e nêutrons.
- c) entre 0 e 12 nêutrons a mais que o número de prótons.
- d) entre 12 e 24 nêutrons a mais que o número de prótons.
- e) entre 0 e 12 nêutrons a menos que o número de prótons.

Resolução:
Alternativa D

Observe o gráfico:



De acordo com o gráfico, os isótopos estáveis do antimônio possuem entre 12 e 24 nêutrons a mais que o número de prótons.

12. Considere um equipamento capaz de emitir radiação eletromagnética com comprimento de onda bem menor que a da radiação ultravioleta. Suponha que a radiação emitida por esse equipamento foi apontada para um tipo específico de filme fotográfico e entre o equipamento e o filme foi posicionado o pescoço de um indivíduo. Quanto mais exposto à radiação, mais escuro se torna o filme após a revelação. Após acionar o equipamento e revelar o filme, evidenciou-se a imagem mostrada na figura a seguir.



Dentre os fenômenos decorrentes da interação entre a radiação e os átomos do indivíduo que permitem a obtenção desta imagem inclui-se a

- a) absorção da radiação eletromagnética e a consequente ionização dos átomos de cálcio, que se transformam em átomos de fósforo.
- b) maior absorção da radiação eletromagnética pelos átomos de cálcio que por outros tipos de átomos.
- c) maior absorção da radiação eletromagnética pelos átomos de carbono que por átomos de cálcio.
- d) maior refração ao atravessar os átomos de carbono que os átomos de cálcio.
- e) maior ionização de moléculas de água que de átomos de carbono.

Resolução:
Alternativa B

Como a base da estruturas ósseas é o elemento cálcio, dentre os fenômenos decorrentes da interação entre a radiação e os átomos do indivíduo que permitem a obtenção desta imagem inclui-se a maior absorção da radiação eletromagnética pelos átomos de cálcio que por outros tipos de átomos.

13. O lixo orgânico de casa – constituído de restos de verduras, frutas, legumes, cascas de ovo, aparas de grama, entre outros –, se for depositado nos lixões, pode contribuir para o aparecimento de animais e de odores indesejáveis.

Entretanto, sua reciclagem gera um excelente adubo orgânico, que pode ser usado no cultivo de hortaliças, frutíferas e plantas ornamentais. A produção do adubo ou composto orgânico se dá por meio da compostagem, um processo simples que requer alguns cuidados especiais. O material que é acumulado diariamente em recipientes próprios deve ser revirado com auxílio de ferramentas adequadas, semanalmente, de forma a homogeneizá-lo. É preciso também umedecê-lo periodicamente. O material de restos de capina pode ser intercalado entre uma camada e outra de lixo da cozinha. Por meio desse método, o adubo orgânico estará pronto em aproximadamente dois a três meses.

Como usar o lixo orgânico em casa? **Ciência Hoje**, v. 42, jun. 2008 (adaptado).

Suponha que uma pessoa, desejosa de fazer seu próprio adubo orgânico, tenha seguido o procedimento descrito no texto, exceto no que se refere ao umedecimento periódico do composto.

Nessa situação,

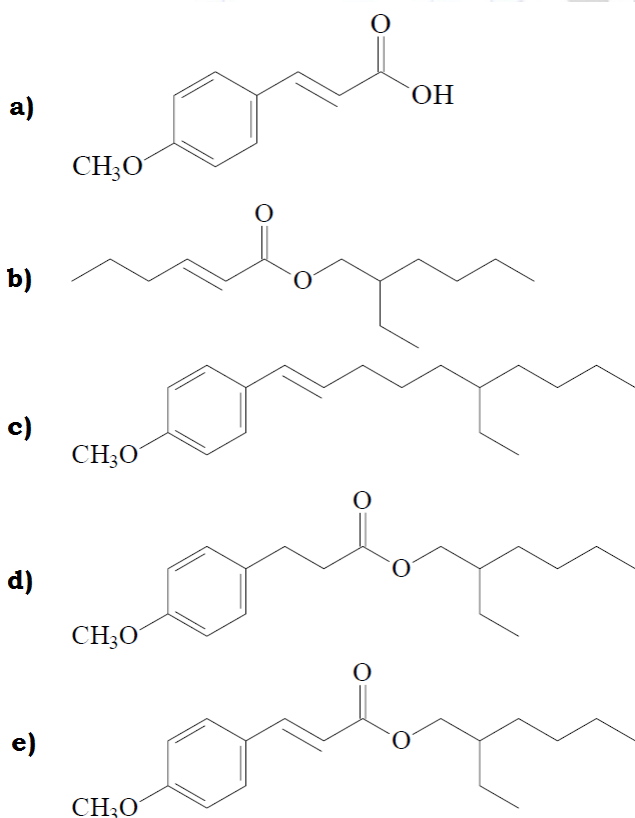
- o processo de compostagem iria produzir intenso mau cheiro.
- o adubo formado seria pobre em matéria orgânica que não foi transformada em composto.
- a falta de água no composto vai impedir que microrganismos decomponham a matéria orgânica.
- a falta de água no composto iria elevar a temperatura da mistura, o que resultaria na perda de nutrientes essenciais.
- apenas microrganismos que independem de oxigênio poderiam agir sobre a matéria orgânica e transformá-la em adubo.

Resolução:
Alternativa C

Á água é essencial para o processo de compostagem, pois os microorganismos decompositores necessitam dela para se reproduzirem e decomponham a matéria orgânica.

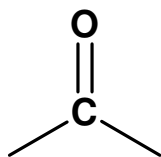
14. O uso de protetores solares em situações de grande exposição aos raios solares como, por exemplo, nas praias, é de grande importância para a saúde. As moléculas ativas de um protetor apresentam, usualmente, anéis aromáticos conjugados com grupos carbonila, pois esses sistemas são capazes de absorver a radiação ultravioleta mais nociva aos seres humanos. A conjugação é definida como a ocorrência de alternância entre ligações simples e duplas em uma molécula. Outra propriedade das moléculas em questão é apresentar, em uma de suas extremidades, uma parte apolar responsável por reduzir a solubilidade do composto em água, o que impede sua rápida remoção quando do contato com a água.

De acordo com as considerações do texto, qual das moléculas apresentadas a seguir é a mais adequada para funcionar como molécula ativa de protetores solares?



Resolução:
Alternativa E

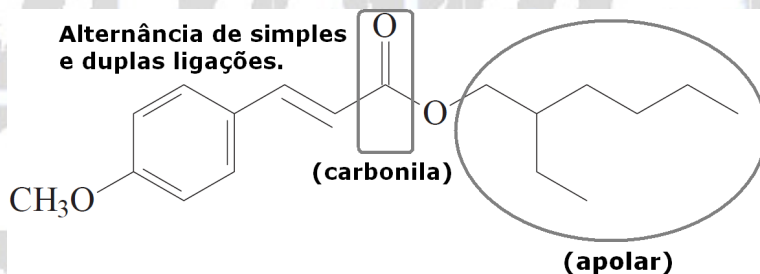
De acordo com o texto as moléculas ativas de um protetor apresentam, usualmente, anéis aromáticos conjugados com grupos carbonila:



Esses sistemas são capazes de absorver a radiação ultravioleta mais nociva aos seres humanos. A conjugação é definida como a ocorrência de alternância entre ligações simples e duplas em uma molécula.

Outra propriedade das moléculas em questão é apresentar em uma de suas extremidades, uma parte apolar responsável por reduzir a solubilidade do composto em água, o que impede sua rápida remoção quando do contato com a água.

A molécula mais adequada é:



15. Na manipulação em escala nanométrica, os átomos revelam características peculiares, podendo apresentar tolerância à temperatura, reatividade química, condutividade elétrica, ou mesmo exibir força de intensidade extraordinária. Essas características explicam o interesse industrial pelos nanomateriais que estão sendo muito pesquisados em diversas áreas, desde o desenvolvimento de cosméticos, tintas e tecidos, até o de terapias contra o câncer.

LACAVAL, Z. G. M; MORAIS, P. C. Nanobiotecnologia e Saúde. Disponível em: <http://www.comciencia.br> (adaptado).

A utilização de nanopartículas na indústria e na medicina requer estudos mais detalhados, pois

- as partículas, quanto menores, mais potentes e radiativas se tornam.
- as partículas podem ser manipuladas, mas não caracterizadas com a atual tecnologia.
- as propriedades biológicas das partículas somente podem ser testadas em microrganismos.
- as partículas podem atravessar poros e canais celulares, o que poderia causar impactos desconhecidos aos seres vivos e, até mesmo, aos ecossistemas.
- o organismo humano apresenta imunidade contra partículas tão pequenas, já que apresentam a mesma dimensão das bactérias (um bilionésimo de metro).

Resolução:
Alternativa D

A ordem de grandeza do diâmetro de um átomo é de 10^{-10} m (1 Angstrom), ou seja, 10^{-1} nm, ainda é impossível para a ciência prever o comportamento de partículas tão pequenas.

A utilização de nanopartículas na indústria e na medicina requer estudos mais detalhados, pois as partículas podem atravessar poros e canais celulares, o que poderia causar impactos desconhecidos aos seres vivos e, até mesmo, aos ecossistemas.

16. Nas últimas décadas, o efeito estufa tem-se intensificado de maneira preocupante, sendo esse efeito muitas vezes atribuído à intensa liberação de CO₂ durante a queima de combustíveis fósseis para geração de energia. O quadro traz as entalpias-padrão de combustão a 25 °C (ΔH°_{25}) do metano, do butano e do octano.

composto	fórmula molecular	massa molar (g/mol)	ΔH°_{25} (kJ/mol)
metano	CH ₄	16	- 890
butano	C ₄ H ₁₀	58	- 2.878
Octano	C ₈ H ₁₈	114	- 5.471

À medida que aumenta a consciência sobre os impactos ambientais relacionados ao uso da energia, cresce a importância de se criar políticas de incentivo ao uso de combustíveis mais eficientes. Nesse sentido, considerando-se que o metano, o butano e o octano sejam representativos do gás natural, do gás liquefeito de petróleo (GLP) e da gasolina, respectivamente, então, a partir dos dados fornecidos, é possível concluir que, do ponto de vista da quantidade de calor obtido por mol de CO₂ gerado, a ordem crescente desses três combustíveis é

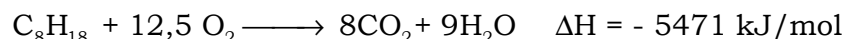
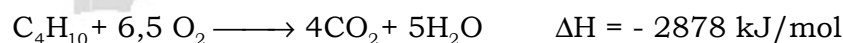
- a) gasolina, GLP e gás natural.
- b) gás natural, gasolina e GLP.
- c) gasolina, gás natural e GLP.
- d) gás natural, GLP e gasolina.
- e) GLP, gás natural e gasolina.

Resolução:
Alternativa A

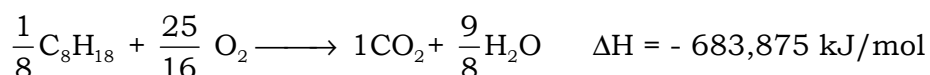
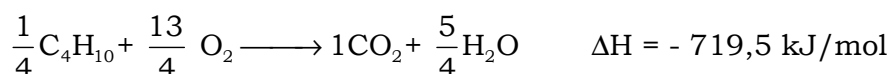
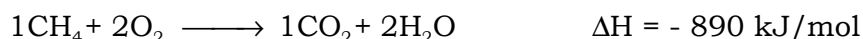
De acordo com a tabela:

composto	fórmula molecular	massa molar (g/mol)	ΔH°_{25} (kJ/mol)
metano	CH ₄	16	- 890
butano	C ₄ H ₁₀	58	- 2.878
Octano	C ₈ H ₁₈	114	- 5.471

Teremos:



Como a comparação deve ser feita para 1 mol de CO₂ liberado por cada combustível devemos dividir a segunda equação por dois e a terceira por oito e então comparar os respectivos “novos” ΔH obtidos:



Lembrando que o sinal negativo significa energia liberada, a ordem crescente de liberação será: 683,875 kJ < 719,5 kJ < 890 kJ.

Ou seja, gasolina, GLP e gás natural.

17. O álcool hidratado utilizado como combustível veicular é obtido por meio da destilação fracionada de soluções aquosas geradas a partir da fermentação de biomassa. Durante a destilação, o teor de etanol da mistura é aumentado, até o limite de 96 % em massa.

Considere que, em uma usina de produção de etanol, 800 kg de uma mistura etanol/água com concentração 20 % em massa de etanol foram destilados, sendo obtidos 100 kg de álcool hidratado 96 % em massa de etanol. A partir desses dados, é correto concluir que a destilação em questão gerou um resíduo com uma concentração de etanol em massa

- a) de 0 %.
- b) de 8,0 %.
- c) entre 8,4 % e 8,6 %.
- d) entre 9,0 % e 9,2 %.
- e) entre 13 % e 14 %.

Resolução:
Alternativa D

De acordo com os dados do enunciado, teremos:

$$\begin{array}{l} 800 \text{ kg (mistura)} \text{ ————— } 100 \% \\ m(\text{etanol}) \text{ ————— } 20 \% \\ m(\text{etanol}) = 160 \text{ kg} \end{array}$$

Conclusão:

$$\begin{array}{l} m(\text{etanol}) = 160 \text{ kg} \\ m(\text{água}) = 640 \text{ kg} \end{array}$$

De acordo com o enunciado foram obtidos 100 kg de álcool hidratado 96 %, ou seja, 96 kg de etanol e 4 kg de água.

$$\begin{array}{l} \text{Massa de etanol} = 160 \text{ kg} - 96 \text{ kg} = 64 \text{ kg (resíduo)} \\ \text{Massa de água} = 640 \text{ kg} - 4 \text{ kg} = 636 \text{ kg (resíduo)} \\ \text{Massa total} = 64 \text{ kg} + 636 \text{ kg} = 700 \text{ kg (resíduo)} \end{array}$$

$$\begin{array}{l} 700 \text{ kg} \text{ ————— } 100 \% \\ 64 \text{ kg} \text{ ————— } p \\ p = 9,14 \% \end{array}$$