

1ª QUESTÃO

ITEM: ÚNICO

(VALOR: 1)

ENUNCIADO: De um ponto exterior E a um círculo (O) qualquer traçam-se duas tangentes t e t' a esse círculo, e os pontos de tangência são respectivamente P e P'. O ângulo $\widehat{P'EP}$ mede 140° . De P traça-se a corda PA cujo arco mede 10° no sentido do maior arco PP' sobre o círculo. De A traça-se a corda AB cujo arco mede 30° , no mesmo sentido do arco PA. Pede-se:

- O ângulo $\widehat{EPP'}$;
- O ângulo $\widehat{BP'E}$;
- O número de lados do polígono inscrito no círculo (O) cujo lado é a corda BP.

SOLUÇÃO

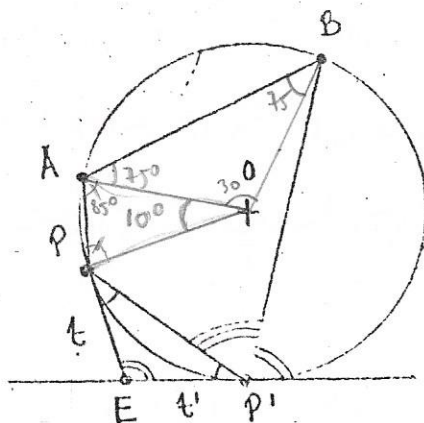
$$a) \widehat{EPP'} = \frac{180 - 140}{2} = 20^\circ$$

$$b) \widehat{BP'E} = 180 - \left\{ \frac{1}{2} [360 - (40 + 10 + 30)] + 20 \right\} + 20 = 40^\circ$$

$\rightarrow 180 - 160 + 20 = 40^\circ$

$$c) n = \frac{360}{10 + 30} = 9$$

eneágono



2ª QUESTÃO

ITEM: ÚNICO

(VALOR: 1)

ENUNCIADO: Traçam-se dois círculos de raios r e centros em O e O' ($OO' = r$) que se cortam em I e J . Com centro em I e raio $2r$ traça-se um arco de círculo que tangencia (O) em A e (O') em A' . Com centro em J e raio $2r$ traça-se um arco de círculo que tangencia (O) em B e (O') em B' . Em (O) o diâmetro OO' tem a outra extremidade em C ; em (O') o diâmetro OO' tem a outra extremidade em C' .

Os arcos AA' , $A'C'B'$, $B'B$ e BCA foram uma oval com quatro centros.

Pede-se a área desta oval em função de r .

SOLUÇÃO

$$S_1 = \frac{\pi r^2}{6}$$

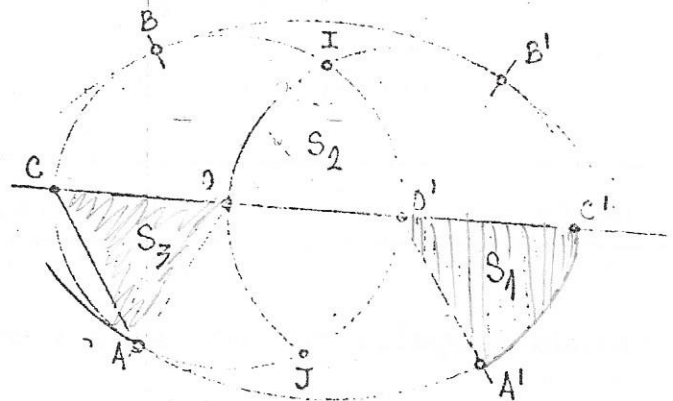
$$S_2 = \frac{\pi (2r)^2}{6} = \frac{2\pi r^2}{3}$$

$$S_3 = \frac{1}{2} \cdot r \cdot \frac{r\sqrt{3}}{2} = \frac{\sqrt{3}}{4} r^2$$

$$S_{\text{oval}} = 2 \left(\frac{2\pi r^2}{3} - \frac{\sqrt{3}}{4} r^2 \right) + 4 \times \frac{\pi r^2}{6}$$

$$= 2 \times \frac{8\pi - 3\sqrt{3}}{12} r^2 + \frac{2}{3} \pi r^2 =$$

$$= \frac{8\pi + 4\pi - 3\sqrt{3}}{6} r^2 = \frac{1}{2} (4\pi - \sqrt{3}) r^2$$



3ª QUESTÃO

ITEM: ÚNICO

(VALOR: 1)

ENUNCIADO: Determine todos os arcos X tais que:

$$\tan 3X = \tan 2X + \tan X$$

SOLUÇÃO

$$\tan 3X = \frac{\tan 2x + \tan x}{1 + \tan 2x \cdot \tan x}$$

(-)

$$1 + \tan 2x \cdot \tan x = 1$$

$$\tan 2x \cdot \tan x = 0$$

$$\tan 2x = \frac{2 \tan x}{1 + \tan^2 x}$$

$$\left\{ \begin{array}{l} \frac{2 \tan^2 x}{1 + \tan^2 x} = 0 \\ \tan x = 0 \end{array} \right. \Rightarrow \tan x = 0$$

$$x = \arctan 0$$

$$x = K\pi$$

$$K = 0, 1, 2, 3, \dots$$

4ª QUESTÃO

ITEM: ÚNICO

(VALOR: 1)

ENUNCIADO: Prove que para todo arco X cada uma das relações abaixo é verdadeira:

$$\sin X + \sin \left(X + \frac{2\pi}{3} \right) + \sin \left(X + \frac{4\pi}{3} \right) = 0$$

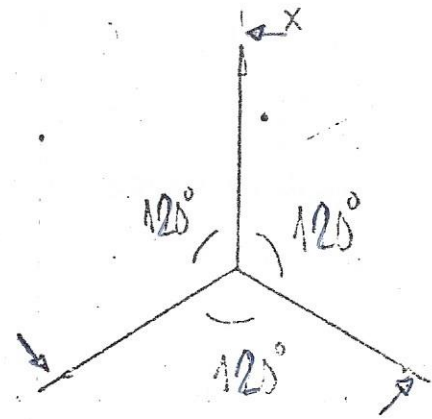
$$\cos X + \cos \left(X + \frac{2\pi}{3} \right) + \cos \left(X + \frac{4\pi}{3} \right) = 0$$

4.^a QUESTÃO
(Continuação)ITEM: ÚNICO
(Continuação)

(VALOR: 1)

SOLUÇÃO

1.^a Solução: Ambas operações são verdadeiras porque os três arcos são iguais e defasada de 120° constituindo 3 vetores que se anulam (fasores).

2.^a Solução:

$$\operatorname{sen}\left(x + \frac{2\pi}{3}\right) = -\operatorname{sen}\left(x - \frac{\pi}{3}\right); \operatorname{sen}\left(x + \frac{4\pi}{3}\right) = -\operatorname{sen}\left(x + \frac{\pi}{3}\right)$$

$$\operatorname{sen} x + \dots = \operatorname{sen} x - \operatorname{sen} x \cdot \cos \frac{\pi}{3} - \operatorname{sen} \frac{\pi}{3} \cdot \cos x -$$

$$- \operatorname{sen} x \cdot \cos \frac{\pi}{3} + \operatorname{sen} \frac{\pi}{3} \cdot \cos x = \operatorname{sen} x - \operatorname{sen} x = 0$$

$$\cos\left(x + \frac{2\pi}{3}\right) = -\cos\left(x - \frac{\pi}{3}\right) = -\cos x \cdot \cos \frac{\pi}{3} + \operatorname{sen} x \cdot \operatorname{sen} \frac{\pi}{3}$$

$$\cos\left(x + \frac{4\pi}{3}\right) = -\cos\left(x + \frac{\pi}{3}\right) = -\cos x \cdot \cos \frac{\pi}{3} - \operatorname{sen} x \cdot \operatorname{sen} \frac{\pi}{3}$$

$$\cos x + \dots = \cos x - \cos x = 0$$

5.^a QUESTÃO

ITEM: ÚNICO

(VALOR: 1)

ENUNCIADO: Seja ABCD um quadrilátero convexo. Traçam-se as bissetrizes internas dos ângulos \hat{A} , \hat{B} , \hat{C} e \hat{D} que se denominam, respectivamente, t_A , t_B , t_C e t_D e que determinam os pontos

$$M = t_A \cap t_B \quad ; \quad N = t_B \cap t_C$$

$$P = t_C \cap t_D \quad ; \quad Q = t_A \cap t_D$$

5.^a QUESTÃO
(Continuação)

ITEM: ÚNICO
(Continuação)

(VALOR: 1)

Prove que:

- 1) O quadrilátero MNPQ é inscritível.
- 2) As retas AB, CD e NQ são concorrentes em um ponto U, bem como as retas AD, BC e MP em um outro ponto V.

OBS.: \cap significa interseção.

SOLUÇÃO

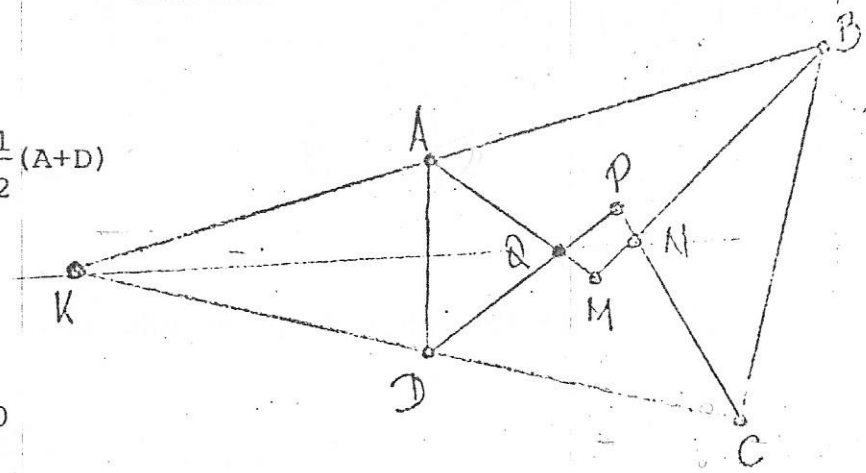
Temos

$$\hat{Q} = 180 - (180 - \frac{A}{2} - \frac{D}{2}) = \frac{1}{2}(A+D)$$

$$\hat{N} = \frac{1}{2}(B+C)$$

$$\hat{Q} + \hat{N} = \frac{1}{2}(A+B+C+D) = 180$$

logo é inscritível.



Prolongando-se AB e DC tendo um ponto K, e a bissetriz de K contém Q, encontro das bissetrizes de A e D. E também contém N, por que nesse ponto são encontradas bissetrizes de B e C.

Raciocínio análogo para AD, BC e MP.

6.^a QUESTÃO

ITEM: ÚNICO

(VALOR: 1)

ENUNCIADO: Sejam A e B dois pontos do espaço que se projetam ortogonalmente sobre um plano π em A' e B'. Dá-se

$$AA' = a ; \quad BB' = b ; \quad A'B' = 2d$$

Seja M um ponto de π tal que $\hat{AMA}' = \hat{BMB}'$.

6.^a QUESTÃO
(Continuação)

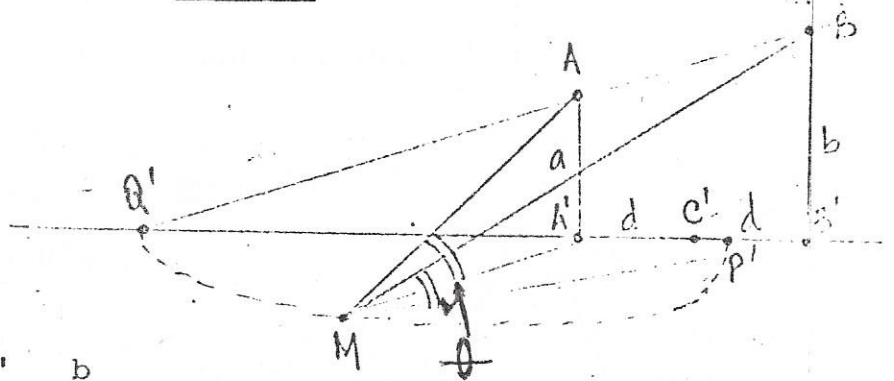
ITEM: ÚNICO
(Continuação)

(VALOR: 1)

Ache o lugar geométrico do ponto M e as distâncias a C' (ponto médio de A'B') em função de a, b e d, dos pontos em que o lugar geométrico do ponto M corta a reta que contém o segmento A'B'.

SOLUÇÃO

$$AM \cdot A' = BM \cdot B'$$



$$\tan \theta = \frac{a}{MA'} = \frac{b}{MB'} \dots \frac{MB'}{MA'} = \frac{b}{a}$$

Logo o L.G. de M é pois o círculo de Apolônio, sobre A'B'.

$$\frac{P'B'}{P'A'} = \frac{b}{a} \dots b \cdot a$$

$$\frac{2d - A'P'}{A'P'} = \frac{b}{a} \dots \frac{2d}{A'P'} = \frac{a+b}{a} \dots A'P' = \frac{2ad}{a+b}$$

$$\frac{Q'B'}{Q'A'} = \frac{b}{a} \dots \frac{2d + Q'A'}{Q'A'} = \frac{b}{a} \dots \frac{2d}{Q'A'} = \frac{b-a}{a} \dots$$

$$Q'A' = \frac{2ad}{b-a}$$

7.^a QUESTÃO

ITEM: ÚNICO

(VALOR: 1)

ENUNCIADO: Seja (I) um icosaedro regular de aresta a. Secciona-se o icosaedro por todos os planos tais que destaquem de cada vértice de (I) uma pirâmide regular, cujo vértice é um vértice de (I) e cujas arestas laterais são arestas de (I) medindo $a/3$.

7.^a QUESTÃO
(Continuação)

ITEM: ÚNICO
(Continuação)

(VALOR: 1)

Retiradas estas pirâmides resulta um poliedro (P) do qual se pede:

- 1) Número e natureza de suas faces.
- 2) Número e natureza de seus ângulos poliedros.
- 3) Número de suas arestas e de suas diagonais.

SOLUÇÃO

Poliedro de Leonardo da Vinci

- (1) 12 faces pentagonais ✓
20 faces hexagonais ✓

- (2) 60 triedros ✓

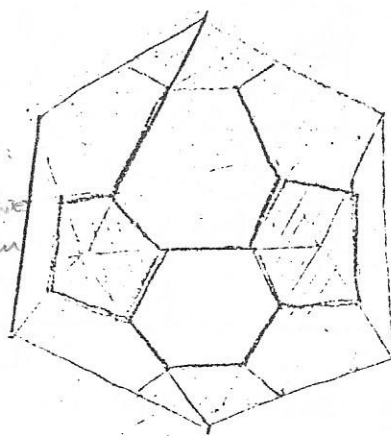
- (3) 90 arestas ✓
1440 diagonais ✓

TIRANDO 12 VÉRTICES:
FICAM 12 PENTÁGONOS
E DE CADA 2 ADJACENTES
SEPARA HEXÁGONOS UM
EM CADA FACE.

$$V_m \cdot m = 2A$$

$$60 \cdot m = 90 \cdot 2$$

$$m = 3$$



$$F = 32$$

$$f_5 = 12$$

$$f_6 = 20$$

$$60 + 120 = 2 \cdot A$$

$$A = 90$$

$$V + 32 = 92$$

$$V = 60$$

$$D = \frac{60 \cdot 59}{2} - 90 - \frac{5(5-3) \cdot 12}{2} - \frac{6(6-3) \cdot 20}{2}$$

$$= 1440 \text{ diagonais}$$

8.^a QUESTÃO

ITEM: ÚNICO

(VALOR: 1)

ENUNCIADO: Um cone de revolução tem ângulo de abertura 2α ; faz-se uma seção parabólica (determinando uma parábola (P)) por um plano que dista d de V, vértice do cone.

Pede-se em função de d e α o comprimento da corda focal perpendicular ao eixo da parábola (P).

8.^a QUESTÃO
(Continuação)ITEM: ÚNICO
(Continuação)

(VALOR: 1)

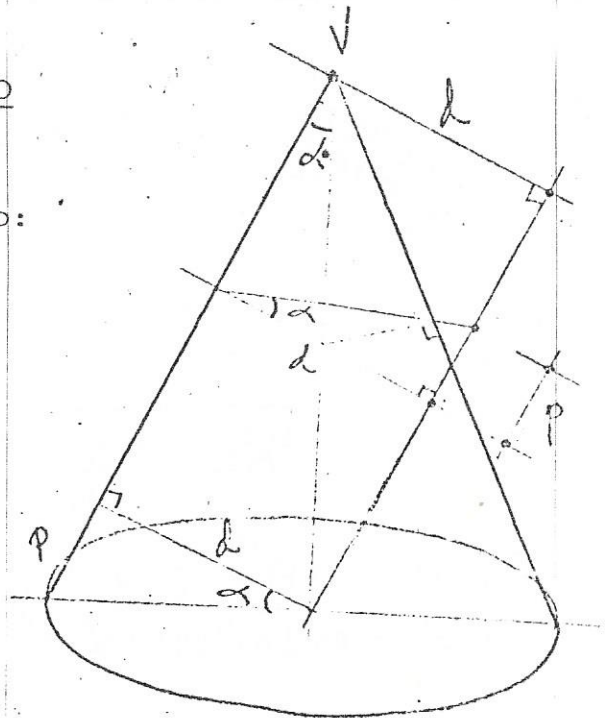
SOLUÇÃO

Podemos estabelecer a seguinte relação:

$$\frac{P}{d} = \tan \alpha$$

donde $P = d \tan \alpha$

$$\text{ou } 2P = 2d \tan \alpha$$

9.^a QUESTÃO

ITEM: ÚNICO

(VALOR: 1)

ENUNCIADO: Em um triângulo qualquer ABC são dados: o lado \underline{a} , a altura \underline{h} e a bissetriz interna \underline{l} relativas a esse lado.

Determine os lados \underline{b} e \underline{c} assim como os ângulos \vec{A} , \vec{B} e \vec{C} em função de \underline{a} , \underline{h} e \underline{l} .

SOLUÇÃO

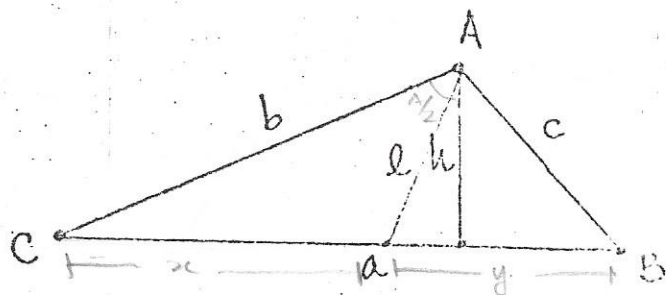
Temos

$$\underline{l} = \frac{2bc}{b+c} \cos \frac{A}{2} \quad \text{e}$$

$$h = \frac{bc}{a} \sin A \quad \text{ou} \quad bc = \frac{ah}{\sin A}$$

e para um triângulo qualquer:

$$\begin{aligned} a^2 &= b^2 + c^2 - 2bc \cos A = \\ &= b^2 + c^2 - 2bc \left(2 \cos^2 \frac{A}{2} - 1 \right) = \end{aligned}$$



$$\frac{x}{b} = \frac{y}{c} \rightarrow \frac{x}{y} = \frac{b}{c} \rightarrow \frac{2xy}{a} = \frac{b+c}{b}$$

$$\rightarrow x = \frac{ab}{b+c} \quad \text{e} \quad y = \frac{ac}{b+c}$$

$$\rightarrow \underline{l} \sin \frac{A}{2} = \frac{ab \cdot bc \sin A}{b+c \cdot a}$$

$$\rightarrow \underline{l} = \frac{2bc \cos \frac{A}{2}}{b+c}$$

9ª QUESTÃO
(Continuação)ITEM: ÚNICO
(Continuação)

(VALOR: 1)

$$= (b+c)^2 - 4bc \cos^2 \frac{A}{2}$$

$$\text{daí } bc \cos^2 \frac{A}{2} = \frac{ah}{2} \cot \frac{A}{2} \quad e$$

$$b+c = \frac{ah}{l} \csc \frac{A}{2}$$

$$\text{Logo tiramos a relação } \cot \frac{A}{2} = \frac{l^2 \pm \sqrt{l^4 - a^2 h^2 + a^2 l^2}}{ah}$$

$$\text{para } \cot \frac{A}{2} \neq 0. \rightarrow \text{como } 0^\circ < A < 180^\circ. \begin{cases} 0^\circ < A < 90^\circ \rightarrow (+) \rightarrow \text{ctg} > 0 \\ 90^\circ < A < 180^\circ \rightarrow (+) \rightarrow \text{ctg} < 0 \end{cases}$$

Tendo-se $\cot \frac{A}{2}$ obtêm-se $\sin A$ e $\cos A$ aplicando as fórmulas:

$$\sin A = \frac{2 \cot \frac{A}{2}}{1 + \cot^2 \frac{A}{2}}$$

$$\cos A = \frac{\cot^2 \frac{A}{2} - 1}{\cot^2 \frac{A}{2} + 1}$$

e daí tem-se A .

$$\text{Pode-se também obter } \csc \frac{A}{2} = 1 + \cot^2 \frac{A}{2}$$

e daí tem-se b e c no sistema

$$\begin{cases} bc = \frac{ah}{\sin A} \\ b+c = \frac{ah}{l} \csc \frac{A}{2} \end{cases} \quad x^2 - \frac{ah}{l} \csc \frac{A}{2} x + \frac{ah}{\sin A} = 0 \quad \text{raízes: } \underline{b} \text{ e } \underline{c}$$

e daí os ângulos B e C para relações

$$b^2 = a^2 + c^2 - 2ac \cos B$$

$$c^2 = a^2 + b^2 - 2ab \cos C$$

onde temos os $\cos B$ e $\cos C$ e daí os ângulos.

10ª QUESTÃO

ITEM: ÚNICO

(VALOR: 1)

ENUNCIADO: Dá-se uma pirâmide quadrangular regular (P) cujo lado da base se mede l , e cujo apótema mede $7l$.

Um plano passando por uma das arestas da base divide a área total dessa pirâmide em duas partes equivalentes.

Determine a posição desse plano e o volume do prisma que ele determinou.

SOLUÇÃO

Seja $VM' = x$, temos

$$S_{VAB} = \frac{7}{2} l^2$$

e a área total será

$$S = 4 \cdot \frac{7}{2} l^2 + l^2 = 15 l^2$$

A área lateral da pirâmide ($VA'B'CD$)

$$A_{VCD} + V_{CB'} + V_{DA'} + V_{A'B'} = \frac{1}{2} (l^2 + 14 l^2) = \frac{15}{2} l^2$$

$$V_{CD} = \frac{7}{2} l^2 ; \quad V_{A'B'} = \frac{x^2}{14} ; \quad V_{CB'} = \frac{x l}{2} ?$$

$$\text{daí } \frac{15}{2} l^2 = \frac{7}{2} l^2 + \frac{x^2}{14} + \frac{2 x l}{2}$$

$$4 l^2 = \frac{x^2}{14} + x l \dots x^2 + 14 l x - 56 l^2 = 0$$

Temos ainda

$$x = l (\sqrt{105} - 7)$$

$$H^2 = V_0^2 = 49 l^2 - \frac{l^2}{4} \dots H = \frac{l}{2} \sqrt{195} \quad e$$

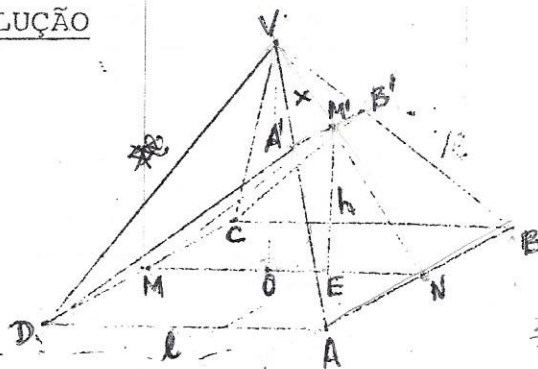
$$h = H \frac{NM'}{NV} = \frac{l}{2} \sqrt{195} \cdot \frac{7 l - x}{7 l} = \frac{l}{14} \sqrt{195} (14 - \sqrt{105})$$

Então o volume do tronco de prisma formado ($A'B'ABCD$) será

$$V = S_{(MM'N)} \cdot \frac{A'B' + AB + CD}{3} = \frac{l}{2} \cdot \frac{\sqrt{195}}{2} \cdot \frac{(14 - \sqrt{105}) l}{7}$$

$$\frac{l}{7} (\sqrt{105} - 7) + l + l = \frac{\sqrt{195}}{28} (14 - \sqrt{105}) l^2 \cdot \frac{l}{2\pi} \cdot (105 + 7) =$$

$$\approx 0,5 \cdot 3,75 \cdot 0,82 l^3 = 1,54 l^3$$



$$\frac{x}{7l} = \frac{k}{l}$$

$$x = 7k$$

$$\rightarrow \frac{k \cdot x}{2} = \frac{x^2}{14}$$

$$\frac{H^2}{2} = \frac{l}{2}$$

$$\frac{-14l \pm \sqrt{196l^2 - 4(-56l^2)}}{2}$$

$$\frac{-14l \pm \sqrt{420l^2}}{2}$$

$$\frac{-7l \pm \sqrt{105} \cdot l}{2}$$