

1ª QUESTÃO

ITEM ÚNICO

Valor: 1,0

ENUNCIADO: Determine todas as soluções da equação trigonométrica:

$$\text{sen } 9x + \text{sen } 5x + 2 \text{sen}^2 x = 1$$

SOLUÇÃO

$$2 \text{sen } \frac{9x + 5x}{2} \cos \frac{9x - 5x}{2} + 2 \text{sen}^2 x = 1$$

$$2 \text{sen } 7x \cos 2x - \underbrace{(1 - 2 \text{sen}^2 x)}_{\cos 2x} = 0$$

$$\cos 2x [2 \text{sen } 7x - 1] = 0$$

$$\left\{ \begin{array}{l} \cos 2x = 0 \rightarrow 2x = (2k + 1)\frac{\pi}{2} \rightarrow x_1 = \frac{k\pi}{2} + \frac{\pi}{4}; \quad k = 0, 1, 2, \dots \\ \text{sen } 7x = \frac{1}{2} \rightarrow \begin{cases} 7x = 2k\pi + \frac{\pi}{6} \rightarrow x_2 = \frac{2k\pi}{7} + \frac{\pi}{42}; \quad k = 0, 1, 2, \dots \\ 7x = 2k\pi + \frac{5\pi}{6} \rightarrow x_3 = \frac{2k\pi}{7} + \frac{5\pi}{42}; \quad k = 0, 1, 2, \dots \end{cases} \end{array} \right.$$

RESPOSTA

$$x_1 = \frac{k\pi}{2} + \frac{\pi}{4}; \quad k = 0, 1, 2, \dots$$

$$x_2 = \frac{2k\pi}{7} + \frac{\pi}{42}; \quad k = 0, 1, 2, \dots$$

$$x_3 = \frac{2k\pi}{7} + \frac{5\pi}{42}; \quad k = 0, 1, 2, \dots$$

2ª QUESTÃO

ITEM ÚNICO

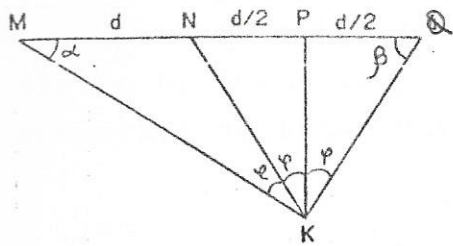
Valor: 1,0

ENUNCIADO: Seja o segmento de reta \overline{MQ} e os pontos N e P sobre \overline{MQ} , na ordem M, N, P, Q. Considere um ponto K não situado sobre a reta suporte de \overline{MQ} . Suponha que:

$$\overline{MN} = \overline{NP} = \overline{PQ} = d, \quad \text{e}, \quad \widehat{MKN} = \widehat{NKP} = \widehat{PKQ}$$

Determine o valor numérico da relação $\frac{h}{d}$, sendo h a distância do ponto K a reta suporte de \overline{MQ} .

SOLUÇÃO



$$\Delta MKN \quad \frac{\text{sen } \gamma}{d} = \frac{\text{sen } \alpha}{KN} \quad \dots \quad \frac{\text{sen } \gamma}{\text{sen } 2\gamma} \times \frac{3}{2} = \frac{KP}{KN}$$

$$\Delta MKP \quad \frac{\text{sen } 2\gamma}{3 \cdot d/2} = \frac{\text{sen } \alpha}{KP}$$

$$\Delta PKQ \quad \frac{\text{sen } \gamma}{d/2} = \frac{\text{sen } \beta}{KP}$$

$$\frac{\text{sen } 2\gamma}{\text{sen } \gamma} \times \frac{1}{2} = \frac{KP}{KN} \quad \frac{\text{sen } \gamma}{\text{sen } 2\gamma} \times \frac{3}{2} = \frac{\text{sen } 2\gamma}{\text{sen } \gamma} \times \frac{1}{2}$$

$$\Delta NKQ \quad \frac{\text{sen } 2\gamma}{d} = \frac{\text{sen } \beta}{KN}$$

$$\frac{\text{sen } \gamma}{2 \text{sen } \gamma \text{cos } \gamma} \times 3 = \frac{2 \text{sen } \gamma \text{cos } \gamma}{\text{sen } \gamma} \quad 4 \text{cos}^2 \gamma = 3 \quad \text{cos } \gamma = \pm \frac{\sqrt{3}}{2} \quad \gamma = 30^\circ$$

$$\Delta MKQ \text{ retângulo } \alpha + \beta = 90^\circ$$

$$\text{sen } \alpha = \frac{KN \times \frac{1}{2}}{d} \quad \frac{\text{sen } \alpha}{\text{sen } \beta} = \frac{\text{sen } \alpha}{\text{cos } \alpha} = \tan \alpha = \frac{1}{\sqrt{3}} \quad \alpha = 30^\circ$$

$$\text{sen } \beta = \frac{KN \times \frac{\sqrt{3}}{2}}{d}$$

$$\text{Logo o } \Delta MKP \text{ é retângulo } KP = h = \frac{3d}{2} \tan \alpha = \frac{3d}{2} \times \frac{1}{\sqrt{3}}$$

$$h = \sqrt{3} \times \frac{d}{2}$$

Logo a relação pedida é

$$\frac{h}{d} = \frac{\sqrt{3}}{2}$$

3ª QUESTÃO

Valor: 1,0

ENUNCIADO: Considere um triângulo ABC, tal que

$$\hat{B} - \hat{C} = \frac{\pi}{2}$$

ITEM A - (0,5 pontos)

Os lados \overline{AC} , \overline{AB} e \overline{BC} do triângulo ABC não são conhecidos, mas é conhecido o valor de m, sendo

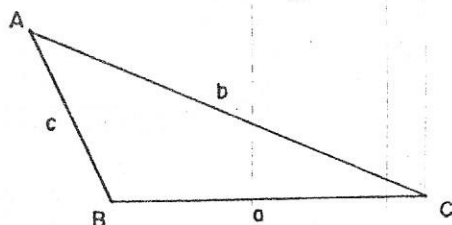
$$m = \frac{\overline{AC} + \overline{AB}}{\overline{BC}}$$

Calcule $\text{sen } A$, $\text{sen } B$ e $\text{sen } C$, em função de m.

ITEM B - (0,5 pontos)

Calcule o ângulo que a altura do triângulo ABC, traçada a partir de A, forma com o raio \overline{OA} da circunferência de centro O, circunscrita ao triângulo ABC.

SOLUÇÃO

ITEM A

$$m = \frac{b + c}{a}$$

Pela lei dos senos,

$$\frac{a}{\text{sen } A} = \frac{b}{\text{sen } B} = \frac{c}{\text{sen } C}$$

então

$$\frac{a}{\text{sen } A} = \frac{b + c}{\text{sen } B + \text{sen } C}$$

mas

$$\text{sen } B + \text{sen } C = 2 \text{sen } \frac{1}{2} (B + C) \cos \frac{1}{2} (B - C)$$

então

$$\text{sen } B + \text{sen } C = \sqrt{2} \text{sen } \frac{B + C}{2}$$

mas

$$B + C = 180 - A \quad \frac{B + C}{2} = 90 - \frac{A}{2}$$

também

$$\text{sen} \left(90 - \frac{A}{2} \right) = \cos \frac{A}{2}$$

então

$$\text{sen } B + \text{sen } C = \sqrt{2} \cos \frac{A}{2}$$

donde

$$\frac{a}{\text{sen } A} = \frac{b + c}{\sqrt{2} \cos \frac{A}{2}}$$

ou

$$\frac{\sqrt{2} \cos \frac{A}{2}}{\text{sen } A} = \frac{b + c}{a} = m$$

elevando ao quadrado,

$$\frac{\cos^2 \frac{A}{2}}{\text{sen}^2 A} = \frac{m^2}{2}$$

mas

$$\cos^2 \frac{A}{2} = \frac{1 + \cos A}{2}$$

donde

$$\frac{1 + \cos A}{1 - \cos^2 A} = m^2$$

$$\frac{1 + \cos A}{(1 + \cos A)(1 - \cos A)} = m^2$$

simplificando,

$$1 - \cos A = \frac{1}{m^2}$$

ou

$$\cos A = 1 - \frac{1}{m^2}$$

ou

$$\boxed{\text{sen } A = \frac{\sqrt{2m^2 - 1}}{m^2}}$$

temos que

$$\text{sen } B + \text{sen } C = 2 \cos \frac{A}{2} \cos 45^\circ = \sqrt{2} \cos \frac{A}{2}$$

$$\text{sen } B - \text{sen } C = 2 \text{sen } 45^\circ \text{sen } \frac{A}{2} = \sqrt{2} \text{sen } \frac{A}{2}$$

mas

$$\cos \frac{A}{2} = \frac{\sqrt{2m^2 - 1}}{\sqrt{2} m} \quad \therefore \quad \cos^2 \frac{A}{2} = \frac{2m^2 - 1}{2 m^2}$$

$$\text{sen}^2 \frac{A}{2} = 1 - \frac{2m^2 - 1}{2 m^2} = \frac{2m^2 - 2m^2 + 1}{2 m^2} = \frac{1}{2 m^2}$$

$$\text{sen } \frac{A}{2} = \sqrt{\frac{1}{2m^2}} = \frac{\sqrt{2}}{2m}$$

Substituindo

$$\text{sen } B + \text{sen } C = \frac{\sqrt{2m^2 - 1}}{m}$$

$$\text{sen } B - \text{Sen } C = \frac{1}{m}$$

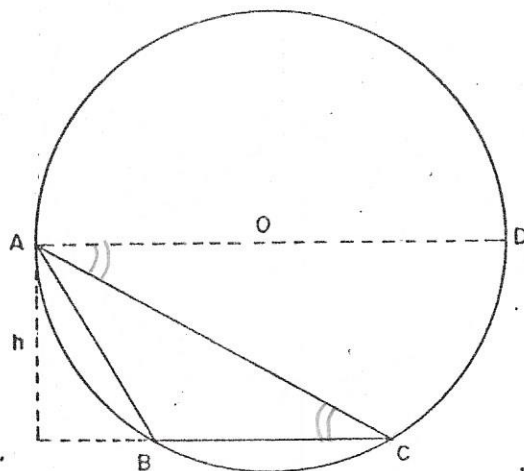
então

$$\boxed{\text{sen } B = \frac{1 + \sqrt{2m^2 - 1}}{2m}}$$

$$\text{sen } A = \sqrt{1 - \cos A} = \sqrt{\frac{m^4}{m^4} - \frac{m^4 - 2m^2 + 1}{m^4}} = \frac{\sqrt{2m^2 - 1}}{m^2}$$

$$\text{sen } C = \frac{-1 + \sqrt{2m^2 - 1}}{2m}$$

ITEM B



Circunscryendo-se uma circunferência ao triângulo ABC, temos

$$B = \frac{\widehat{ADC}}{2}$$

$$C = \frac{\widehat{AB}}{2}$$

$$\text{mas } B - C = \frac{\widehat{ADC}}{2} - \frac{\widehat{AB}}{2} = 90^\circ$$

então,

$$\widehat{ADC} - \widehat{AB} = 180^\circ$$

como, por construção, $\overline{AD} \parallel \overline{BC}$,

vem:

$$\widehat{AB} = \widehat{DC}$$

ou

$$\widehat{ADC} - \widehat{DC} = 180^\circ$$

então AD é um diâmetro do círculo circunscrito ao triângulo. Como a altura (h) é perpendicular ao lado \overline{BC} e \overline{AD} é paralela a \overline{BC} , então (h) é perpendicular a \overline{AD} , sendo então, perpendicular ao raio \overline{OA} .

4ª QUESTÃO

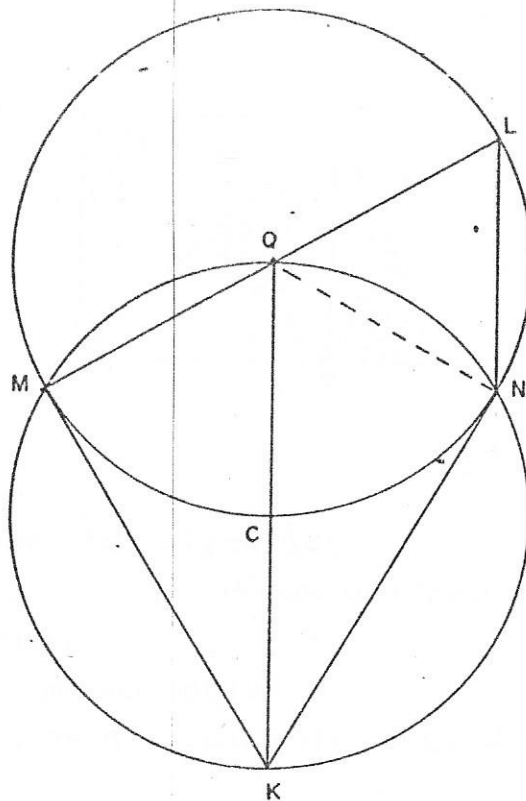
ITEM ÚNICO

Valor: 1,0

ENUNCIADO: A figura abaixo mostra duas circunferências, ambas de raio R, as quais se interceptam nos pontos M e N.

Uma circunferência tem centro em C; a outra tem centro em Q, sendo \overline{KQ} um diâmetro da circunferência de centro C, tal que $\widehat{MQ} = \widehat{QN}$.

Calcule a área do quadrilátero KMLN em função de R.



SOLUÇÃO

A área do quadrilátero é igual à soma das áreas do triângulo LQN e do quadrilátero KMQN:

$$S_{KMLN} = S_{KMQN} + S_{LQN} \quad \dots (1)$$

Mas, $S_{KMQN} = 2 S_{KMQ} = 2 \times \frac{\overline{MK} \times \overline{MQ}}{2} \quad \dots (2)$

Como, $\overline{MQ} = R \rightarrow \overline{MK} = \sqrt{4R^2 - R^2} = R\sqrt{3}$. Logo: $S_{KMQN} = R^2\sqrt{3} \quad \dots (3)$

ΔLQN é equilátero $\rightarrow S_{LQN} = \frac{R^2\sqrt{3}}{4}$

$$\therefore S_{KMQN} = R^2\sqrt{3} + \frac{R^2\sqrt{3}}{4} = \frac{5\sqrt{3}}{4} R^2$$

5ª QUESTÃO

ITEM ÚNICO

Valor: 1,0

ENUNCIADO: Seja um QUADRADO QACB, de centro I, e um ponto P de posição variável situado sobre a diagonal \overline{AB} , tal que $P \neq I$.

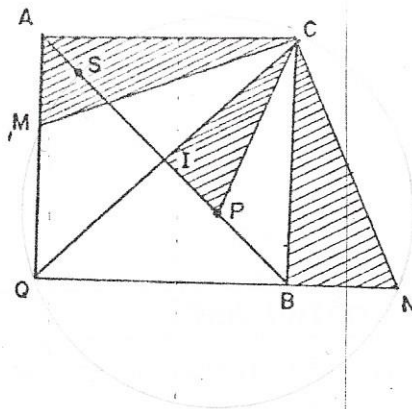
Com centro em P e raio \overline{PQ} traça-se uma circunferência que corta \overline{QA} (ou seu prolongamento) em M e \overline{QB} (ou seu prolongamento) em N.

Considere os triângulos CMA, CNB e CPI e calcule os valores numéricos das relações

$$r_1 = \frac{\overline{AM}}{\overline{BN}}, \quad e \quad r_2 = \frac{\overline{AM}}{\overline{IP}}$$

e do ângulo formado por \overline{CP} e \overline{MN} .

SOLUÇÃO



Os três triângulos são retângulos

- CMA em A, pois os lados de um quadrado formam um ângulo de 90° , quando adjacentes
- CNB em B, pelo mesmo motivo
- CPI em I, pois as diagonais de um quadrado são perpendiculares entre si

$$\overline{AC} = \overline{BC}$$

Por construção QMCN é inscritível, logo $\hat{M} = \hat{N}$
então

$$\Delta CMA = \Delta CNB$$

logo

$$\overline{AM} = \overline{BN}$$

donde

$$\boxed{r_1 = 1}$$

$$\widehat{IPC} = \widehat{SC} = \frac{\widehat{QC}}{2}$$

mas

$$\hat{N} = \frac{\widehat{QC}}{2}$$

donde

$$\widehat{IPC} = \hat{N}$$

logo

$$\Delta CPI \sim \Delta CMA$$

donde

$$\frac{\overline{MC}}{\overline{PC}} = \frac{\overline{AM}}{\overline{IP}} = \frac{\overline{AC}}{\overline{IC}} = r_2$$

interior
= ΔACM

Mas \overline{AC} é um lado do quadrado e \overline{IC} metade de uma diagonal, donde

$$\overline{IC} = \frac{\overline{AC}\sqrt{2}}{2}$$

$$r_2 = \frac{\overline{AC}}{\frac{\overline{AC}\sqrt{2}}{2}} = \frac{2}{\sqrt{2}}$$

$$r_2 = \sqrt{2}$$

6ª QUESTÃO

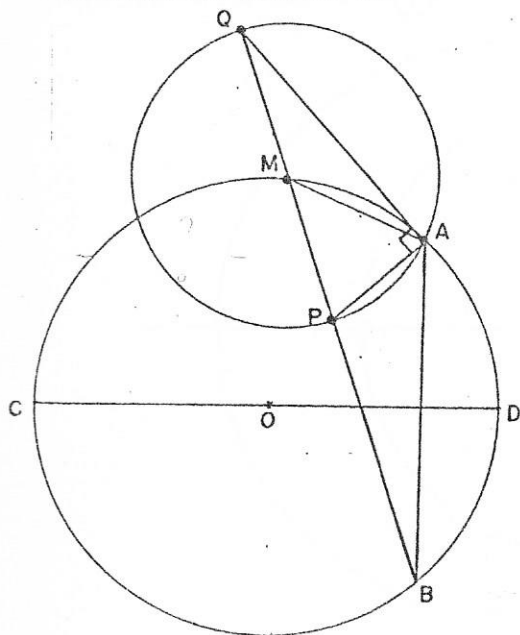
ITEM ÚNICO

Valor: 1,0

ENUNCIADO: Considere uma circunferência K de centro O e raio R, e uma corda fixa \overline{AB} .

Seja M um ponto variável da circunferência K. Uma reta que passa por B e M corta a circunferência C, de centro em M e raio \overline{MA} , nos pontos P e Q.

Determine o LUGAR GEOMÉTRICO de P e Q, quando M descreve a circunferência K.



SOLUÇÃO

$$\textcircled{1} \text{ O } \widehat{AQB} \text{ sobre C mede } \frac{\widehat{AP}}{2}.$$

Temos:

$$\widehat{AP} = \widehat{AMP} = \widehat{AMB} = \frac{\widehat{ADB}}{2} \text{ sobre K}$$

$$\text{Logo } \widehat{AQB} = \frac{\widehat{ADB}}{4} = \text{const.}$$

quando M \in \widehat{ACB} sobre K

Logo \widehat{AQB} sendo const. Q descreve o segmento capaz de \overline{AB} sob o ângulo $\frac{\widehat{ADB}}{4}$.

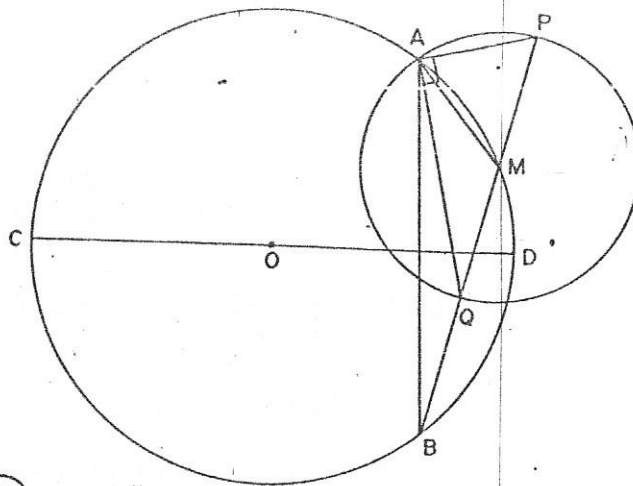
$$\textcircled{2} \widehat{APB} = 180 - \widehat{APQ} = 180 - (90 - \widehat{AQB}) = 90 + \widehat{AQB} = 90 + \frac{\widehat{ADB}}{4} \text{ quando M } \in \widehat{ACB} \text{ sobre K. P descreve o segmento capaz de } \overline{AB} \text{ sob o ângulo } 90 + \frac{\widehat{ADB}}{4}.$$

$$\textcircled{3} \text{ Se M } \in \widehat{ADB} \text{ temos: } \widehat{AQB} = 180 - \widehat{AQP} = 180 - (90 - \widehat{APB}) = 90 + \widehat{APB} = 90 + \frac{\widehat{AMQ}}{2} = 90 + \frac{\widehat{ACB}}{4}$$

Logo:

$$\widehat{AQB} = 90 + \frac{360 - \widehat{ADB}}{4} = 180 - \frac{\widehat{ADB}}{4}.$$

O ponto Q descreve o segmento capaz de \overline{AB} sob o ângulo $180 - \frac{\widehat{ADB}}{4}$.

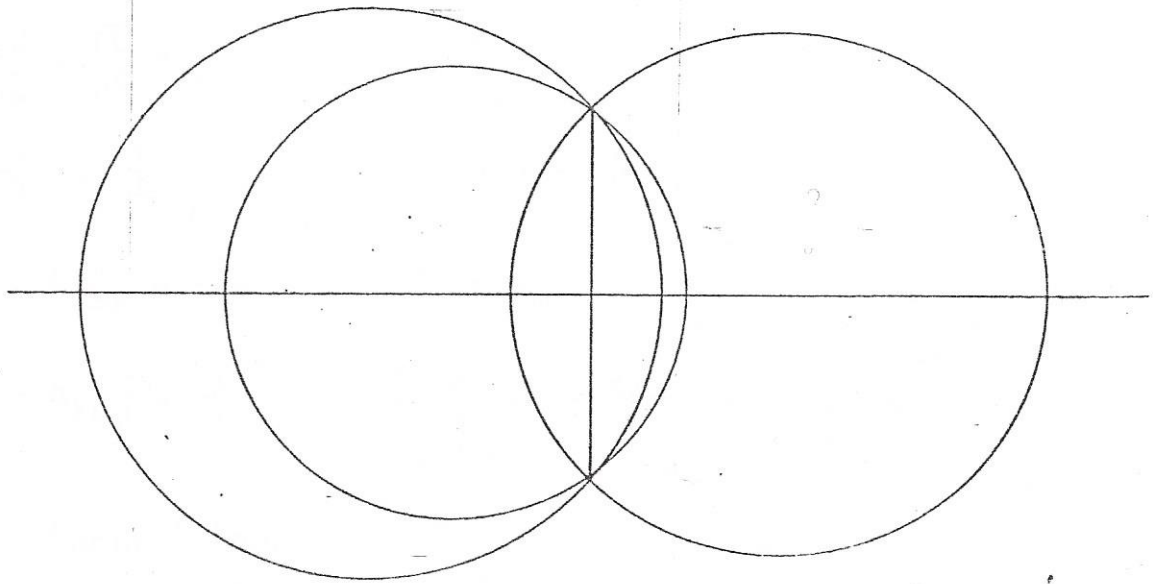


(4) Se $M \in \widehat{ADB}$ então

$$\widehat{APB} = \frac{\widehat{AMB}}{2} = \frac{\widehat{ACB}}{4} = 90 - \frac{\widehat{ADB}}{4}$$

P descreve o segmento capaz de \overline{AB} sob o ângulo $90 - \frac{\widehat{ADB}}{4}$.

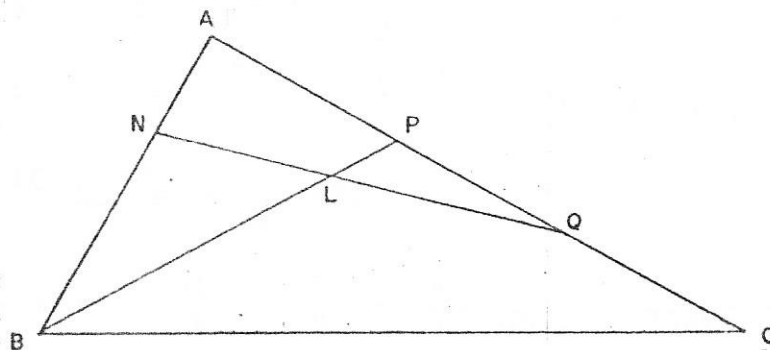
Observemos que os arcos de (1) e (3) completam uma circunferência, assim com os de (2) e (4).



7ª QUESTÃO

ITEM ÚNICO

Valor: 1,0



Na figura acima é dado um triângulo ABC, retângulo em A, cujos lados têm as seguintes medidas:

$$\overline{AB} = 1$$

$$\overline{BC} = 2$$

Sabe-se que $\overline{AP} = \overline{PQ} = \overline{QC}$

$$\text{e que } \overline{AN} = \frac{\overline{NB}}{2}$$

Calcule a área do triângulo LPQ.

SOLUÇÃO

Δ ABP cortado pela transversal NLQ

$$\frac{\overline{NA}}{\overline{NB}} \cdot \frac{\overline{LB}}{\overline{LP}} \cdot \frac{\overline{QP}}{\overline{QA}} = 1 \quad \rightarrow \quad \frac{1}{2} \cdot \frac{4}{1} \cdot \frac{1}{2} = 1$$

$$\therefore \frac{\overline{LB}}{\overline{LP}} = 4 \quad \rightarrow \quad \overline{LP} = \frac{1}{4} \overline{LB}$$

Δ ANQ cortado por BLP:

$$\frac{\overline{BA}}{\overline{BN}} \cdot \frac{\overline{LN}}{\overline{LQ}} \cdot \frac{\overline{PQ}}{\overline{PA}} = 1$$

$$\frac{3}{2} \cdot \frac{2}{3} \cdot \frac{1}{1} = 1 \quad \rightarrow \quad \overline{LN} = \frac{2}{3} \overline{LQ}$$

$$S_{ABP} = \frac{1}{2} \cdot 1 \cdot \frac{\sqrt{3}}{3} = \frac{\sqrt{3}}{6}$$

$$S_{ANQ} = \frac{1}{2} \cdot \frac{1}{3} \cdot \frac{2}{3} \sqrt{3} = \frac{\sqrt{3}}{9}$$

$$\begin{cases} \frac{\sqrt{3}}{6} = S_{ANLP} + S_{BNL} \\ \frac{\sqrt{3}}{9} = S_{ANLP} + S_{PLQ} \end{cases}$$

$$\therefore \frac{\sqrt{3}}{6} - \frac{\sqrt{3}}{9} = S_{BNL} - S_{PLQ} \quad \dots (1)$$

$$S_{BNL} = \frac{\overline{NL} \cdot \overline{BL}}{2} \operatorname{sen} \alpha = \frac{4 \overline{LP} \cdot \frac{2}{3} \overline{LQ}}{2} \operatorname{sen} \alpha = \frac{8}{3} S_{PLQ} \quad \dots (2)$$

$$S_{PLQ} = \frac{\overline{LP} \cdot \overline{LQ}}{2} \operatorname{sen} \alpha \quad \dots (3)$$

$$(3) \text{ e } (2) \text{ em } (1) \rightarrow \frac{\sqrt{3}}{6} - \frac{\sqrt{3}}{9} = \frac{8}{3} S_{PLQ} - S_{PLQ} = \frac{5}{3} S_{PLQ}$$

$$S_{PLQ} = \frac{3}{5} \sqrt{3} \left(\frac{1}{6} - \frac{1}{9} \right) = \frac{\sqrt{3}}{30}$$

8ª QUESTÃO

ITEM ÚNICO

Valor: 1,0

ENUNCIADO: Considere um cubo K de aresta a. Suponha que L é o ponto em que as diagonais do cubo K se interceptam e que M é o ponto médio de uma aresta do cubo K.

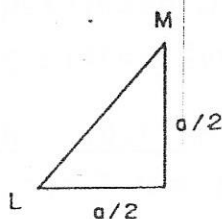
Com centro em L e raio \overline{LM} é construída uma esfera E.

Um plano tangente à esfera E e perpendicular a uma diagonal do cubo K, destaca do cubo K uma pirâmide P.

Calcule o volume da pirâmide P, em função de a.

SOLUÇÃO

Raio da Esfera E:



$$\overline{LM}^2 = \frac{a^2}{4} + \frac{a^2}{4} = \frac{a^2}{2}$$

$$\therefore \overline{LM} = \frac{a}{\sqrt{2}} = \frac{a\sqrt{2}}{2}$$

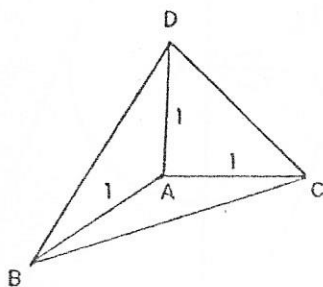
Metade da Diagonal do Cubo: (diagonal d)

$$\frac{d^2}{4} = \frac{a^2}{4} + \frac{2a^2}{4} = \frac{3a^2}{4} \rightarrow d = a\sqrt{3} \rightarrow \frac{d}{2} = \frac{a\sqrt{3}}{2}$$

Altura da Pirâmide Destacada:

$$h = \frac{d}{2} - \overline{LM} = \frac{a\sqrt{3}}{2} - \frac{a\sqrt{2}}{2} = \frac{a}{2} (\sqrt{3} - \sqrt{2})$$

Altura de uma Pirâmide de Arestas Laterais Unitárias:
(com triedro triretângulo)



$$V' = \frac{1}{3} \cdot \frac{1 \times 1}{2} \times 1 = \frac{1}{6} \dots \text{(Base ABD, altura } \overline{AC})$$

$$V' = \frac{1}{3} \cdot \frac{1^2 \sqrt{3}}{2} \times h' = \frac{1}{6} \dots \text{(Base BCD, altura } h')$$

$$\therefore h' = \frac{\sqrt{3}}{3}$$

Semelhança entre a Pirâmide Destacada e a de Volume V' :

$$\frac{V}{V'} = \frac{h^3}{h'^3} \therefore V = V' \left(\frac{h}{h'} \right)^3$$

$$\therefore V = \frac{1}{6} \times \left[\frac{\frac{a}{2} (\sqrt{3} - \sqrt{2})}{\frac{\sqrt{3}}{3}} \right]^3 = \frac{1}{6} \cdot \frac{a^3}{8} \cdot \frac{3^3}{3\sqrt{3}} (\sqrt{3} - \sqrt{2})^3$$

$$V = \frac{9a^3}{48\sqrt{3}} [3\sqrt{3} - 3^2\sqrt{2} + 3 \times 2\sqrt{3} - 2\sqrt{2}]$$

$$V = \frac{9\sqrt{3} a^3}{3 \times 48} [9\sqrt{3} - 11\sqrt{2}] \quad \dots \quad V = \frac{a^3\sqrt{3}}{16} [9\sqrt{3} - 11\sqrt{2}]$$

9ª QUESTÃO

Valor: 1,0

ENUNCIADO: Considere um CONE DE REVOLUÇÃO, cujo eixo forma com uma geratriz o ângulo α .

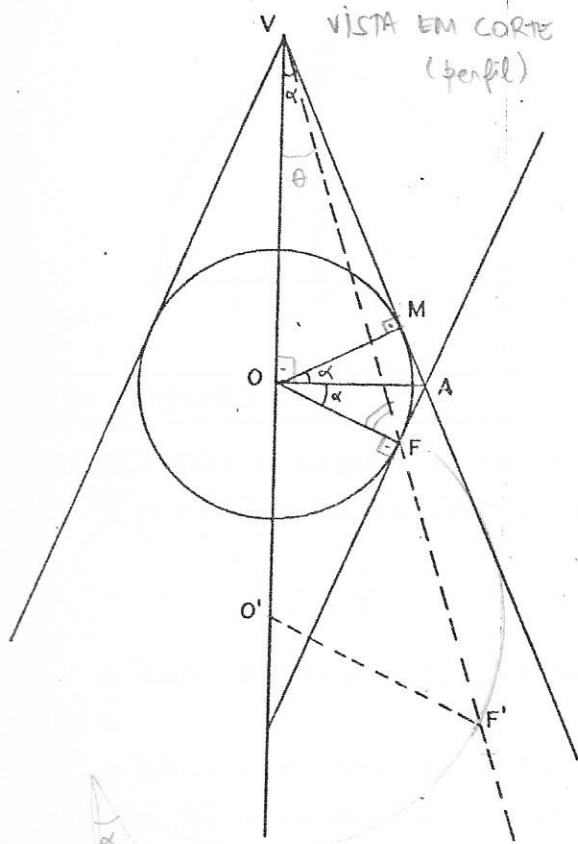
ITEM A - (0,5 pontos)

Determine o LUGAR GEOMÉTRICO dos focos de todas as parábolas, seções planas deste cone.

ITEM B - (0,5 pontos)

Seja P uma parábola, seção do cone dado, cujo vértice dista d do VÉRTICE DO CONE.

Calcule, em função de d e de α , a área do SEGMENTO PARABÓLICO de P, compreendido entre P e uma corda que é perpendicular ao eixo de P e que encontra o EIXO DO CONE.



SOLUÇÃO

1) $\widehat{VOF} = 90 + \alpha$ é const.

$VM = m$

$VO \cos \alpha = m \therefore \frac{OF}{m} = \operatorname{tg} \alpha$

$\cos \alpha = \frac{m}{VO}$

$\operatorname{tg} \alpha = \frac{OF}{m}$

$\frac{VO}{OF} = \operatorname{sen} \alpha = \frac{OF}{VO}$

$\operatorname{tg} \alpha \cdot \cos \alpha = \frac{OF}{VO} = \operatorname{sen} \alpha$

Os ΔVOF são semelhantes pois:

$\frac{VO}{OF} = \frac{VO'}{O'F'}$

ΔVOF e $\Delta VO'F'$

ou $\frac{VO}{VO'} = \frac{OF}{OF'}$

→ são homotéticos de centro V. Logo F descreve uma reta passando por V e quando ela gira em torno do eixo gera um cone de revolução que é o lugar geométrico. Calculemos o ângulo desse cone que chamaremos de θ .

Tomando $VO = 1$

Lei dos senos no

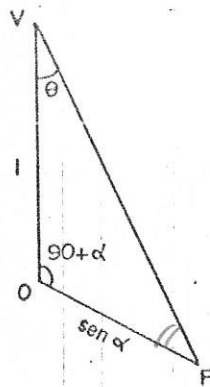
$OF = \operatorname{sen} \alpha$

ΔVOF

$\frac{\operatorname{sen} \theta}{\operatorname{sen} \alpha} = \frac{\operatorname{sen}(180-90-\alpha-\theta)}{1}$

OF

VO



$$\frac{\text{sen } \theta}{\text{sen } \alpha} = \cos (\alpha + \theta)$$

$$\text{sen } \theta = \text{sen } \alpha [\cos \alpha \cos \theta - \text{sen } \alpha \text{sen } \theta]$$

$$\text{sen } \theta = \text{sen } \alpha \cos \alpha \cos \theta - \text{sen}^2 \alpha \text{sen } \theta$$

$$\text{sen } \theta (1 + \text{sen}^2 \alpha) = \text{sen } \alpha \cos \alpha \cos \theta$$

$$\text{tg } \theta = \frac{\text{sen } \alpha \cos \alpha}{1 + \text{sen}^2 \alpha} = \frac{\text{sen}^2 \alpha}{3 - \cos^2 \alpha} ?$$

2) Se $VA = d$ temos $VA = V'A$ (losango)

$$VV' = 2d \cos \alpha$$

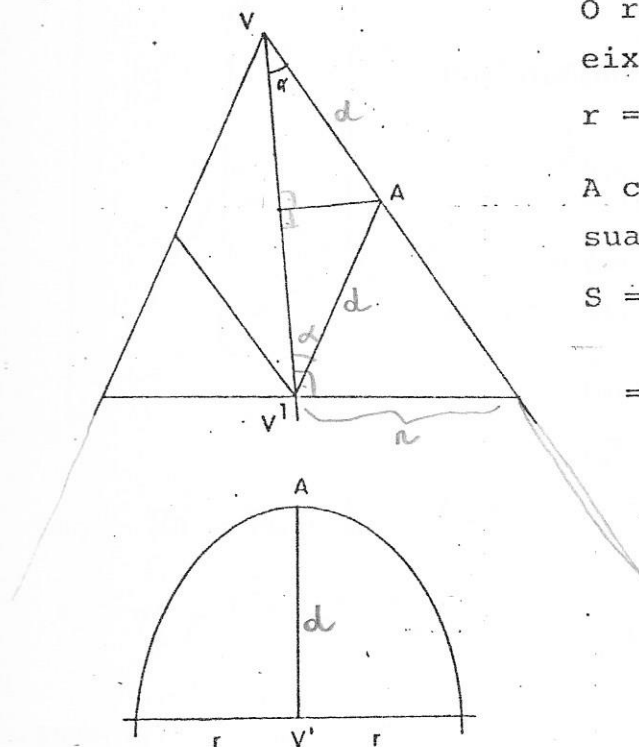
O raio do cone seção perpendicular no eixo por V' é:

$$r = VV' \text{tg } \alpha = 2d \text{sen } \alpha$$

A corda do segmento parabólico é $2r$; sua área é:

$$S = \frac{2}{3} AV' \cdot 2r = \frac{4}{3} AV' \cdot r =$$

$$= \frac{4}{3} d \cdot 2d \text{sen } \alpha = \frac{8}{3} d^2 \text{sen } \alpha$$



10ª QUESTÃO

Valor: 1,0

ENUNCIADO: A figura a seguir mostra um PRISMA em que uma seção re-
ta é o triângulo retângulo isósceles ABC, no qual

$$\hat{A} = \frac{\pi}{2}, \text{ e } \overline{AB} = b.$$

A base superior do PRISMA é o triângulo equilátero MNP, de la-
do a.

A base inferior do PRISMA é o triângulo RST, sendo E o ponto mē-
dio de \overline{RT} e sendo $\overline{SE} = b$, por construção.

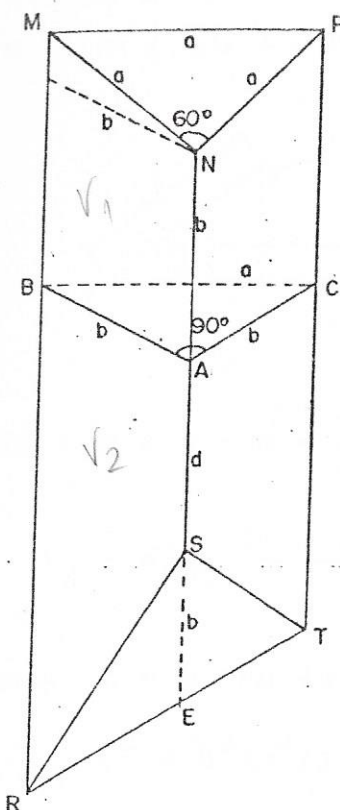
A menor distância entre as bases se encontra sobre a aresta
 $\overline{NS} = \overline{NA} + \overline{AS}$, sendo, por construção, $\overline{NA} = b$.

O comprimento $\overline{AS} = d$ é escolhido de tal forma que o volume V_1 ,
do SEMI-PRISMA superior BACMPN, seja igual ao volume V_2 , do SEMI-
PRISMA inferior BACRST.

Calcule:

ITEM A - (0,5 pontos): V_1 em função de b .

ITEM B - (0,5 pontos): d em função de b .



SOLUÇÃO

ITEM A

ΔABC = seção reta do prisma

$$\therefore V_1 = S_{ABC} \frac{\overline{MB} + \overline{NA} + \overline{PC}}{3} \quad (1)$$

Dos dados do problema:

$$S_{ABC} = \frac{b^2}{2} \quad \text{e} \quad \overline{NA} = b \quad (2)$$

Inclinações de \overline{NM} e \overline{NP} , em relação a AB e AC , respectivamente, são iguais, concluímos:

$$\overline{MB} = \overline{PC} = b + \sqrt{a^2 - b^2}$$

$$\overline{MP} = \overline{BC} = a = b\sqrt{2}$$

Logo: $\overline{MB} = \overline{PC} = b + \sqrt{2b^2 - b^2} = 2b \quad (3) \quad \therefore (2) \text{ e } (3) \text{ em } (1):$

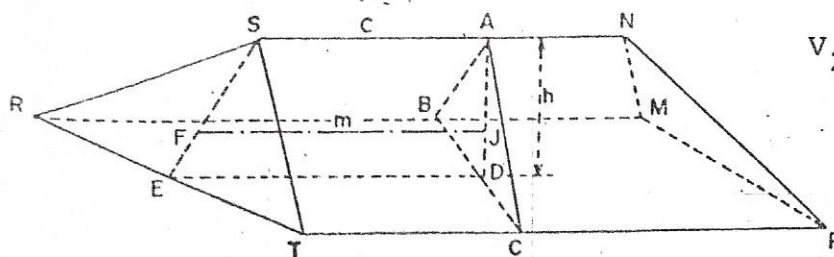
$$\therefore V_1 = \frac{b^2}{2} \cdot \frac{2b + b + 2b}{3} = \frac{5b^3}{6} \quad \therefore \boxed{V_1 = \frac{5b^3}{6} = 0,833 b^3}$$

ITEM B

$$V_2 = S_{ABC} \frac{\overline{BR} + \overline{CT} + \overline{d}}{3} \quad (4)$$

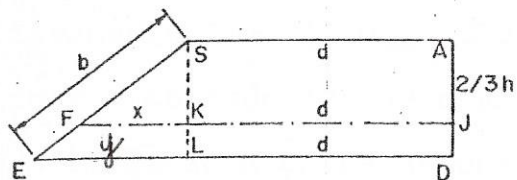
Mas, nos triângulos que possuem um lado sobre cada face do prisma as medianas baixadas do vértice situado na aresta \overline{NS} pertencem, obrigatoriamente, ao plano definido por \overline{NS} e ponto E , pois, no quadrilátero $RBCT: \overline{RB} // \overline{ED} // \overline{TC} \quad \therefore \overline{AD} = \overline{DC} = \frac{a}{2}$

Logo: $\frac{\overline{BR} + \overline{CT}}{2} = \overline{DE} \quad \therefore$ substituindo em (4):



$$V_2 = S_{ABC} \frac{2\overline{DE} + d}{3} \quad (5)$$

Mas se $\overline{FJ} = m$ é a reta que liga os pontos de interseção das medianas de cada triângulo base (ΔABC e ΔRST), isto é: $\overline{AJ} = \frac{2}{3}\overline{AD} = \frac{2}{3}h$ e $\overline{SF} = \frac{2}{3}\overline{SE}$, então, temos no quadrilátero SADE:



$$m = d + x$$

$$\overline{DE} = d + y$$

$$\frac{x}{y} = \frac{2h/3}{h} \quad \therefore \quad x = \frac{2}{3}y$$

$$m = d + \frac{2}{3}y \quad \therefore \quad d = m - \frac{2}{3}y$$

$$\overline{DE} = d + y = m - \frac{2}{3}y + y = m + y/3 \quad \text{Substituindo em (5):}$$

$$V_2 = S_{ABC} \frac{2m + 2y/3 + m - 2/3y}{3}$$

$$V_2 = S_{ABC} \cdot m \quad (6)$$

$$\text{Mas } h = b \operatorname{sen} 45 = \frac{b\sqrt{2}}{2}$$

$$y^2 = b^2 - b^2/2 = b^2/2 \quad \therefore \quad y = b/\sqrt{2} \quad \therefore \quad x = \frac{2}{3}y = \frac{2}{3} \frac{b}{\sqrt{2}} = \frac{b\sqrt{2}}{3}$$

$$m = d + x = d + \frac{b\sqrt{2}}{3} \quad (7)$$

$$(7) \text{ em } (6) \quad \therefore \quad V_2 = \frac{b^2}{2} \left(d + \frac{b\sqrt{2}}{3} \right) \quad \text{Para que } V_2 = V_1:$$

$$\frac{5b^3}{6} = \frac{b^2}{6} (3d + b\sqrt{2}) \quad \therefore \quad 5b = 3d + b\sqrt{2} \quad \therefore \quad d = \frac{b}{3}(5 - \sqrt{2}) = 1,20b$$

$$d = \frac{b}{3} (5 - \sqrt{2})$$