

1a. QUESTÃO - ITEM ÚNICO (0,5 pontos)

ENUNCIADO: Determinar os valores do arco x que satisfazem a equação:

$$\operatorname{sen} x = \sqrt{3} (\sec x - \cos x)$$

SOLUÇÃO:

$$\operatorname{sen} x = \sqrt{3} \left(\frac{1}{\cos x} - \cos x \right) \quad \cos x \neq 0$$

$$\operatorname{sen} x \cos x = \sqrt{3} \operatorname{sen}^2 x$$

$$\operatorname{sen} x (\cos x - \sqrt{3} \operatorname{sen} x) = 0 \quad (1)$$

De (1):

$$\operatorname{sen} x = 0 \quad \Rightarrow \quad x = k\pi, \quad k \in \mathbb{Z}$$

$$\cos x - \sqrt{3} \operatorname{sen} x = 0 \quad \Rightarrow \quad \operatorname{tg} x = \frac{\sqrt{3}}{3} \quad \Rightarrow \quad x = k\pi + \frac{\pi}{6}, \quad k \in \mathbb{Z}$$

RESPOSTA:

$$x = k\pi$$

$$x = k\pi + \frac{\pi}{6}, \quad k \in \mathbb{Z}$$

2a. QUESTÃO - ITEM ÚNICO (0,5 pontos)

ENUNCIADO: Calcular o lado c dos triângulos que tenham:

$$\underline{a} = 4 \text{ cm}$$

$$\underline{b} = 4(1 + \sqrt{3}) \text{ cm}$$

$$\underline{A} = 15^\circ$$

SOLUÇÃO:

$$\frac{b}{\operatorname{sen} B} = \frac{a}{\operatorname{sen} A} \quad \Rightarrow \quad \operatorname{sen} B = \frac{b \operatorname{sen} A}{a}$$

$$\operatorname{sen} B = \operatorname{sen} 15^\circ = \operatorname{sen} (45^\circ - 30^\circ) = \frac{\sqrt{2}}{4} (\sqrt{3} - 1)$$

$$\operatorname{sen} B = (1 + \sqrt{3}) \frac{\sqrt{2}}{4} (\sqrt{3} - 1) = \frac{\sqrt{2}}{2}$$

$$B_1 = 45^\circ \quad e \quad B = 180 - 45 = 135^\circ$$

$$C_1 = 180 - (15 + 45) = 120^\circ$$

$$C_2 = 130 - (15 + 135) = 30^\circ$$

$$C_1 = \frac{4 \operatorname{sen} 120^\circ}{\operatorname{sen} 15^\circ} = \frac{4(\sqrt{3}/2)}{(\sqrt{2}/4)(\sqrt{3}-1)} = 2\sqrt{6}(1+\sqrt{3})$$

$$C_2 = \frac{4 \operatorname{sen} 30^\circ}{\operatorname{sen} 15^\circ} = \frac{4(1/2)}{(\sqrt{2}/4)(\sqrt{3}-1)} = 2\sqrt{2}(1+\sqrt{3})$$

RESPOSTA:

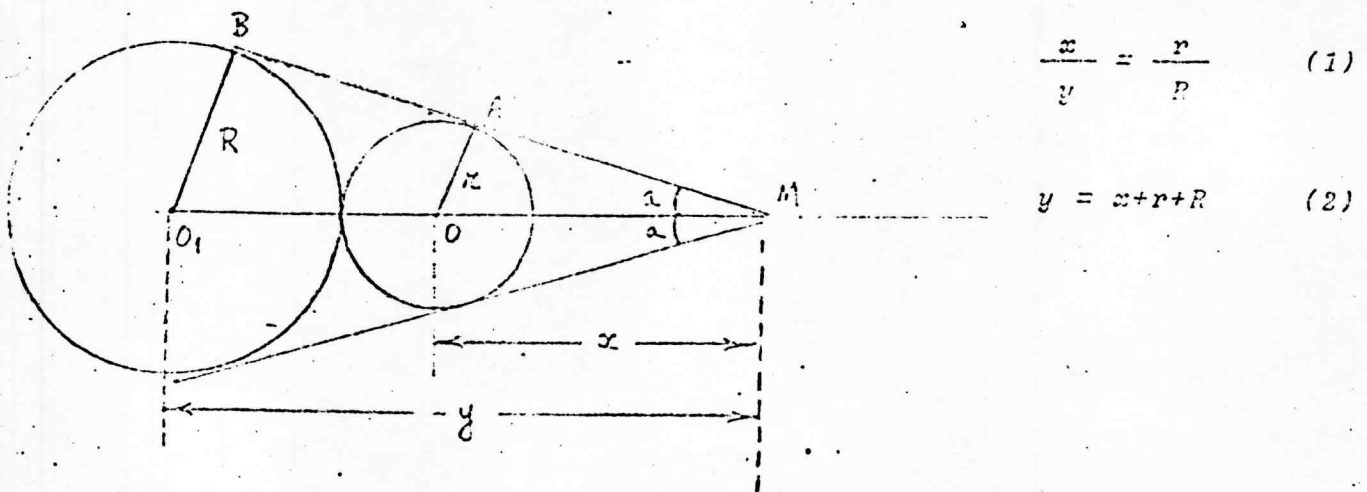
$$C_1 = 2\sqrt{6}(1+\sqrt{3})$$

$$C_2 = 2\sqrt{2}(1+\sqrt{3})$$

3a. QUESTÃO - ITEM ÚNICO (0,5 pontos)

ENUNCIADO: Dois círculos tangentes entre si têm raios \underline{R} e \underline{r} , sendo $\underline{R} > \underline{r}$. As tangentes exteriores comuns a esses dois círculos formam um ângulo 2α .

Esprimir \underline{R} em função de \underline{r} e da tangente de $\alpha/2$.



$$\frac{x}{y} = \frac{r}{R} \quad (1)$$

$$y = x + r + R \quad (2)$$

Eliminando y entre as equações (1) e (2):

$$\frac{x}{r} = \frac{R + r}{R - r} \quad (3)$$

$$\text{Do } \triangle \text{ MOA: } \frac{x}{r} = \frac{1}{\text{sen } a} \quad (4)$$

Eliminando x entre as equações (3) e (4):

$$\text{sen } a = \frac{R - r}{R + r} \quad \Rightarrow \quad R = \frac{1 + \text{sen } a}{1 - \text{sen } a}$$

$$\text{Utilizando a identidade } \text{sen } a = \frac{2 \text{tg}(a/2)}{1 + \text{tg}^2(a/2)},$$

obtemos sucessivamente:

$$R = r \frac{1 + \frac{2 \text{tg}(a/2)}{1 + \text{tg}^2(a/2)}}{1 - \frac{2 \text{tg}(a/2)}{1 + \text{tg}^2(a/2)}} = r \frac{[1 + \text{tg}(a/2)]^2}{[1 - \text{tg}(a/2)]^2}$$

$$R = r \left[\frac{\text{tg}(r/4) + \text{tg}(a/2)}{1 - \text{tg}(r/4) \text{tg}(a/2)} \right]^2$$

RESPOSTA:

$$R = r \text{tg}^2 \frac{\pi}{4} \frac{a}{2}$$

4a. QUESTÃO - ÍTEM ÚNICO (0,5 pontos)

ENUNCIADO: Demonstrar que um triângulo ABC, no qual os ângulos B e C verificam a relação

$$\frac{\text{Sen}^2 B}{\text{Sen}^2 C} = \frac{\text{Tan } B}{\text{Tan } C}$$

é retângulo ou isósceles.

$$\text{Sen}^2 B \text{tg } C = \text{sen}^2 C \text{tg } B \quad \Rightarrow \quad \text{Sen } B \text{ Sen } C \left(\frac{\text{sen } B}{\cos C} - \frac{\text{sen } C}{\cos B} \right) = 0$$

$$\frac{1}{2} \left(\frac{\text{sen } 2B - \text{sen } 2C}{\cos B \cos C} \right) = 0 \quad \Rightarrow \quad \text{sen } 2B - \text{sen } 2C = 0$$

$$2 \text{sen } (B - C) \cos (B + C) = 0 \quad \begin{cases} \text{sen } (B - C) = 0 & (1) \\ \cos (B + C) = 0 & (2) \end{cases}$$

De (1) $\Rightarrow B = C$ ou o triângulo ABC é isósceles

De (2) $\Rightarrow B : C = \frac{\pi}{2}$ ou o triângulo ABC é retângulo em A.

5a. QUESTÃO - ITEM ÚNICO (0,5 pontos)

ENUNCIADO: Determinar o seno e o coseno do ângulo, menor que 180° , formado pelos ponteiros de um relógio que marca 12 horas e 15 minutos.

Em uma hora o ponteiro maior percorre um arco de 2π rd e o menor um arco de $2\pi/12$ ou $\pi/6$ rd.

Assim o ângulo formado pelos ponteiros após uma hora será

$$2\pi - \frac{\pi}{6} = 11\frac{\pi}{6} \text{ rd} \quad \text{e em } 15 \text{ min} = \frac{1}{4} \text{ h} \quad \text{será}$$

$$\frac{11\pi}{24} = 82^\circ 30'$$

$$82^\circ 30' = 90^\circ - 7^\circ 30'$$

$$\text{sen } 15^\circ = \sqrt{\frac{1 - \cos 30^\circ}{2}} = \frac{1}{2} \sqrt{2 - \sqrt{3}}$$

$$\cos 15^\circ = \sqrt{1 - \text{sen}^2 15^\circ} = \frac{1}{2} \sqrt{2 + \sqrt{3}}$$

$$\text{sen } 7^\circ 30' = \sqrt{\frac{1 - \cos 15^\circ}{2}} = \sqrt{\frac{1 - \frac{\sqrt{2 + \sqrt{3}}}{2}}{2}} =$$

$$= \frac{1}{2} \sqrt{2 - \sqrt{2 + \sqrt{3}}} = \cos 82^\circ 30'$$

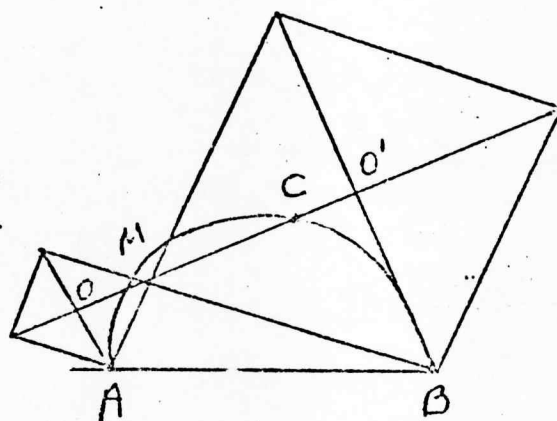
$$\cos 7^\circ 30' = \sqrt{1 - \text{sen}^2 7^\circ 30'} = \frac{1}{2} \sqrt{2 + \sqrt{2 + \sqrt{3}}} =$$

$$= \text{sen } 82^\circ 30'$$

6a. QUESTÃO - ÍTEM ÚNICO (0,5 pontos)

ENUNCIADO: Considere-se um ponto móvel M , sobre uma semicircunferência de diâmetro AB . Sobre os lados MA e MB do triângulo MAB e exteriormente a este, constroem-se os quadrados de centros O e O' . Supondo-se que M percorre a semicircunferência, pede-se:

- a) Mostrar que M , O e O' permanecem sobre uma reta e que esta passa por um ponto fixo.
 b) Determinar os lugares geométricos de O e O' .



$$a) \angle OMA = \angle O'MB = 45^\circ$$

$$\angle OMA + \angle O'MB + \angle AMB = 180^\circ$$

Logo OMO' estão em linha reta.

Seja C o 2º ponto em que OO' encontra o semi-circunlo:

$$\angle CMB = \angle O'MB = 45^\circ$$

$$\text{Logo } \widehat{BC} = 2 \times 45^\circ = 90^\circ$$

C é fixo: é o meio de AB .

b) Temos:

$$\angle COA = \angle MOA = \angle CO'B = \angle MO'B = 90^\circ$$

Logo:

O l.g. do ponto O é um semi-circulo de diâmetro AC .

O l.g. do ponto O' é um semi-circulo de diâmetro BC .

RESPOSTA:

a) o ponto fixo é C meio do AB

b) l.g. de O é um semi-circulo de diâmetro AC

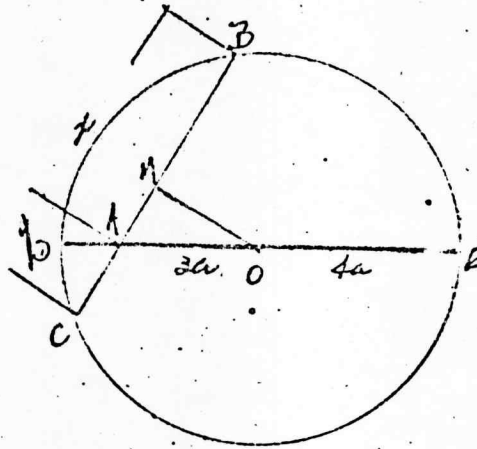
l.g. de O' é um semi-circulo de diâmetro BC

7a. QUESTÃO - ÍTEM ÚNICO (1,0 ponto)

ENUNCIADO: Seja um círculo de centro O e raio R igual a $4a$. Por um ponto A sobre um diâmetro DE , tal que OA igual a $3a$, traça-se uma corda EAC fazendo com OA um ângulo de 60° ($\angle OAB = 60^\circ$).

Pede-se:

- a) Calcular os segmentos \underline{AB} e \underline{AC} ($AB > AC$).
- b) Calcular o percurso total descrito pelo ponto M , médio da corda \underline{BC} , quando esta dá um giro de 360° em torno de \underline{A} .



a) Fazendo $AB = x$ e $AC = y$, temos:

$$1) xy = AD \times AE$$

$$2) x - y = 2 AM$$

Do triângulo AMO (retângulo em M)

$$OA = 2 AM = 3 a$$

$$\text{Assim: } xy = 7 a^2$$

$$x - y = 3 a$$

Resolvido o sistema:

$$y = AC = \frac{a}{2} (\sqrt{37} - 3)$$

$$x = AB = \frac{a}{2} (\sqrt{37} + 3)$$

- b) Quando BC gira em torno de A de 180° o ponto M descreverá um círculo de diâmetro OA . Girando de 360° percorrerá duas circunferências de círculo de mesmo diâmetro. Assim:

$$\text{Percurso } l = 2 \times \pi \times OA = 2 \times \pi \times 3a = 6 \pi a$$

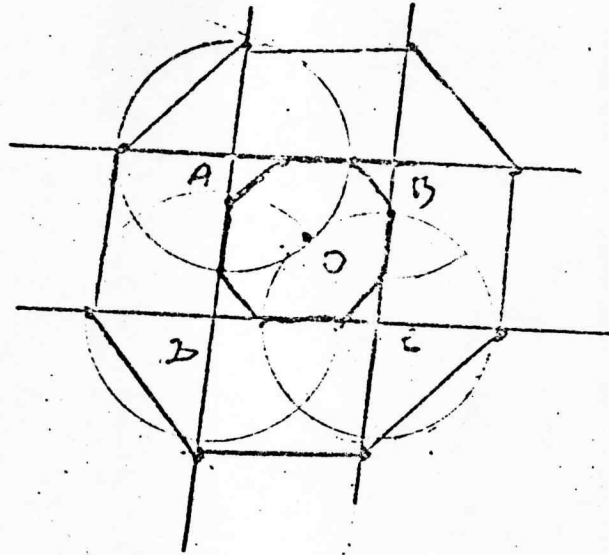
8a. QUESTÃO - ÍTEM ÚNICO (1,0 ponto)

ENUNCIADO: Um quadrado \underline{ABCD} tem lado unitário e centro \underline{O} . Sejam (A) , (B) , (C) e (D) as circunferências com centro em cada vértice e que passa por \underline{O} .

Pede-se:

- a) Identificar o polígono (P) cujos vértices são determinados por (A) , (B) , (C) e (D) sobre os lados do quadrado, calculando os seus lados e seus ângulos internos.
- b) Identificar o polígono (P') cujos vértices são determinados por (A) , (B) , (C) e (D) sobre os prolongamentos dos lados do quadrado, calculando os seus ângulos internos.

- c) Demonstrar que (P) e (P') são homotéticos e calcular as possíveis razões de homotetia.



- a) (P) é um octógono pois sobre cada lado do quadrado tem 2 vértices de (P). Os lados que têm o mesmo suporte que os lados do quadrado medem:

$$1 - 2 \left(1 - \frac{\sqrt{2}}{2}\right) = \sqrt{2} - 1$$

Os lados que não têm esta situação medem:

$$\sqrt{2 \left(1 - \frac{\sqrt{2}}{2}\right)^2} = \left(1 - \frac{\sqrt{2}}{2}\right) \sqrt{2} = \sqrt{2} - 1$$

Logo (P) é equilátero.

Mas os ângulos de (P) medem:

$$180^\circ - 45^\circ = 135^\circ$$

Logo (P) é equiângulo.

Concluimos que (P) é um octógono regular.

- b) (P') é um octógono pois cada círculo traçado determina 2 vértices de (P') sobre os prolongamentos dos lados do quadrado. 4 lados de (P') são paralelos aos lados do quadrado e com medida 1, pois os círculos traçados determinam retângulos com bases, AB, BC, CD, DA. Os outros 4 lados de (P') medem:

$$\sqrt{2 \left(\frac{\sqrt{2}}{2}\right)^2} = \sqrt{2} \cdot \frac{\sqrt{2}}{2} = 1$$

(P') é equilátero: seus ângulos medem: $45^\circ + 90^\circ = 135^\circ$ logo (P') é equiângulo.

Concluimos que (P') é um octógono regular.

- c) (P) e (P') são semelhantes (por serem octógonos regulares) e tem lados paralelos (por construção): logo (P) e (P') são homotéticos.

Como O é centro de simetria da figura, O é centro de homotético. Há 2 homotéticos que podem ser considerado uma com razão positiva e outra com razão negativa, (ambas com mesmo valor absoluto). Este valor da razão é a razão dos lados, ou seja:

$$\rho = \pm \frac{1}{\sqrt{2} - 1} = \pm (\sqrt{2} + 1).$$

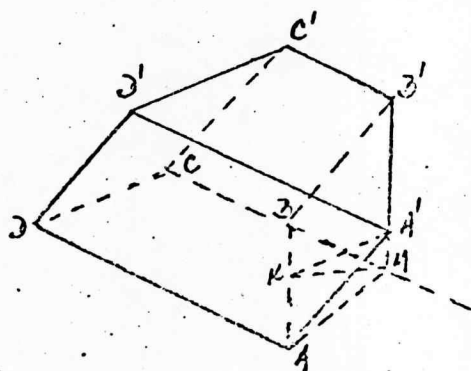
RESPOSTA:

- a) (P) é octógono regular.
 b) (P') é octógono regular.
 c) $P = \pm (\sqrt{2} + 1)$

9a. QUESTÃO - ÍTEM ÚNICO (1,0 ponto)

ENUNCIADO: A base de um prisma oblíquo é um semi-hexágono regular $ABCD$ inscrito em um círculo de diâmetro $AD = 2R$. Seja a face oposta o polígono $A'B'C'D'$. A face $ADD'A'$ é um retângulo tal que $AA' = R$ e a projeção ortogonal do vértice A sobre o plano da base está sobre o prolongamento de BC . Calcular o volume e a área total do prisma, em função de R .

OBS.: Considerando A' e não A como está no enunciado:



- Cálculo do volume

Seja M a projeção de A' sobre o plano da base.

$$\text{Volume } V = S_{ABCD} \cdot A'M$$

A base é um trapézio de bases $2R$ e R e cuja altura AM é o apôtoma do hexágono de lado $R \Rightarrow$

$$S_{ABCD} = \frac{1}{2} (2R + R) \cdot \frac{R \sqrt{3}}{2} = \frac{3R^2 \sqrt{3}}{4}$$

No triângulo retângulo AMA' (retângulo em M):

$$AA' = R$$

$$AM = \frac{R\sqrt{3}}{2}$$

$$\overline{A'M}^2 = R^2 - \frac{3R^2}{4} = \frac{R^2}{4} \Rightarrow \overline{A'M} = \frac{R}{2}$$

Assim:

$$V = \frac{3R^2\sqrt{3}}{4} \cdot \frac{R}{2} = \frac{3R^3\sqrt{3}}{8}$$

- Cálculo da área total

A área total do prisma será:

$$S_t = S_{ABCD} + S_{A'B'C'D'} + S_{ABB'A'} + S_{CDD'C'} + S_{ADD'A'} + S_{BCC'B'}$$

$$S_{ABCD} = S_{A'B'C'D'} = \frac{3R^2\sqrt{3}}{4} \quad (\text{já calculada})$$

$$S_{ADD'A'} = 2R^2 \quad \text{como retângulo de lados } 2R \text{ e } R$$

$$S_{BCC'B'} = R^2 \quad \text{como quadrado de lado } R$$

$$S_{ABB'A'} = S_{CDD'C'} = \overline{AB} \times \overline{A'K}$$

No triângulo retângulo AMB (retângulo em M), cuja altura é $MK \Rightarrow \overline{AB} \times \overline{MK} = \overline{MB} \times \overline{MA}$

$$\left. \begin{array}{l} \overline{MB} = \frac{R}{2} \\ \overline{MA} = \frac{R\sqrt{3}}{2} \end{array} \right\} \overline{MK} = \frac{R\sqrt{3}}{4}$$

No triângulo retângulo $A'MK$ (retângulo em M)

$$\overline{A'K}^2 = \overline{MA'}^2 + \overline{MK}^2 = \frac{R^2}{4} + \frac{3R^2}{16} = \frac{7R^2}{16} \Rightarrow \overline{A'K} = \frac{R\sqrt{7}}{4}$$

$$S_{ABB'A'} = S_{CDD'C'} = R \cdot \frac{R\sqrt{7}}{4} = \frac{R^2\sqrt{7}}{4}$$

$$\text{Assim: } S_t = 2 \times \frac{3R^2\sqrt{3}}{4} + 2 \cdot \frac{R^2\sqrt{7}}{4} + 2R^2 + R^2 \Rightarrow$$

$$S_t = \frac{R^2}{2} (3\sqrt{3} + \sqrt{7} + 6)$$

RESPOSTA:

$$V = \frac{3R^3\sqrt{3}}{8}$$

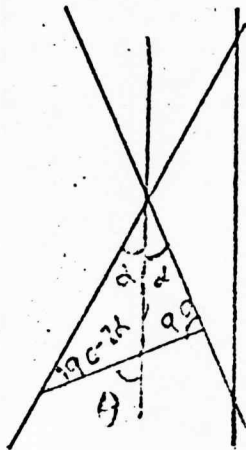
$$S_t = \frac{R^2}{2} (6 + 3\sqrt{3} + \sqrt{7})$$

10a. QUESTÃO - ÍTEM ÚNICO (1,0 ponto)

ENUNCIADO: Uma seção plana de um cone de revolução é uma elipse de excentricidade $\sqrt{3}/3$ cujo eixo maior é perpendicular a uma geratriz deste sólido.

Pede-se:

- a) Determinar o ângulo entre o eixo do cone e suas geratrizes.
 b) Considere-se sobre o mesmo cone a hipérbole H , de excentricidade máxima, cujo eixo transverso, $2a$, é igual a 10cm. Calcular no plano de H , a área da superfície compreendida entre as assíntotas e uma tangente qualquer à hipérbole.



$$a) \theta = 90 - 2\alpha + \alpha = 90 - \alpha$$

Pelo teorema de Dandelin

$$\frac{\sqrt{3}}{3} = \frac{\cos(90 - \alpha)}{\cos \alpha} = \operatorname{tg} \alpha$$

$$\operatorname{logo} \alpha = 30^\circ$$

- b) Para H ter excentricidade máxima a seção deve ser paralela ao eixo da série:

$$e = \frac{\cos 0^\circ}{\cos 30^\circ} = 2$$

$$\text{Como } 2a = 10 \text{ cm} \quad a = 5 \text{ cm}$$

$$c = 2 \times 5 \text{ cm} = 10 \text{ cm}$$

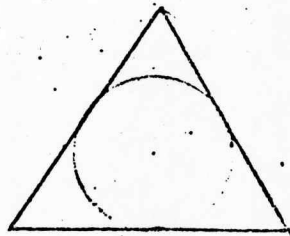

$$b = \sqrt{10^2 - 5^2} = \sqrt{75} = 5\sqrt{3} \text{ cm}$$

11a. QUESTÃO - ÍTEM ÚNICO (1,0 ponto).

ENUNCIADO: Tem-se um octaedro (O) regular, de aresta a ; seja (E) a esfera cuja superfície passa pelos pontos médios das arestas de (O).

Pede-se:

- Calcular a porção do volume de (E) exterior a (O).
- Calcular a porção do volume de (O) exterior a (E).



Se O é o centro de (O), a seção equatorial de (O) é um quadrado de centro O : o raio de

$$(E) \text{ mede: } \frac{a}{2}$$

(E) secciona as faces de (O) segundo o círculo inscrito que

$$\text{tem raio: } \frac{a\sqrt{3}}{6}$$

a distância de O a uma face é:

$$d = \sqrt{\left(\frac{a}{2}\right)^2 - \left(\frac{a\sqrt{3}}{6}\right)^2} = \frac{a\sqrt{6}}{6}$$

A (E) tem exteriormente a (O) 8 segmentos esféricos de 1 base com altura:

$$h = \frac{a}{2} - \frac{a\sqrt{6}}{6} = \frac{a}{6} (3 - \sqrt{6})$$

a) o volume de (E) exterior a (O) é:

$$\begin{aligned} V_1 &= 8 \left[\frac{\pi h^2}{3} (3R - h) \right] = 8 \left[\frac{\pi}{3} \frac{a^2}{36} (3 - \sqrt{6})^2 \left(\frac{3a}{2} - \frac{a}{6} (3 - \sqrt{6}) \right) \right] \\ &= \frac{\pi a^3}{27} (18 - 7\sqrt{6}) \end{aligned}$$

b) o volume da esfera interior a (O) é:

$$V' = \frac{4}{3} \pi R^3 - V_1 = \frac{4}{3} \pi \frac{a^3}{8} - \frac{\pi a^3}{27} (18 - 7\sqrt{6})$$

$$= \frac{\sqrt{11} a^3}{3} \left[\frac{1}{2} - \frac{1}{9} (18 - 7\sqrt{6}) \right]$$

O volume de (O) é:

$$V = \frac{a^3 \sqrt{2}}{3}$$

O volume de (O) exterior a (E) é:

$$V_2 = V - V' = \frac{a^3 \sqrt{2}}{3} - \frac{\sqrt{11} a^3}{3} \left[\frac{1}{2} - \frac{1}{9} (18 - 7\sqrt{6}) \right]$$

RESPOSTA:

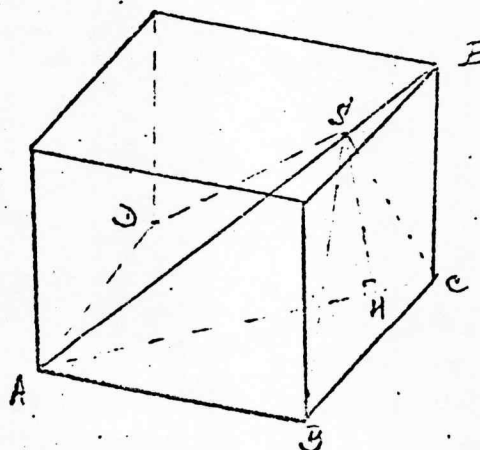
$$a) \frac{\sqrt{11} a^3}{27} (18 - 7\sqrt{6})$$

$$b) \frac{a^3}{3} \sqrt{2} - \frac{\sqrt{11} a^3}{3} \left[\frac{1}{2} - \frac{1}{9} (18 - 7\sqrt{6}) \right]$$

12a. QUESTÃO - ÍTEM ÚNICO (1,0 ponto)

ENUNCIADO: Uma pirâmide tem por base uma das faces de um cubo de aresta a e o seu vértice S está sobre uma diagonal deste cubo.

Calcular o volume da pirâmide, sabendo que a soma dos quadrados das arestas concorrentes em S é igual a $4a^2$.



$$1) \overline{SA}^2 + \overline{SB}^2 + \overline{SC}^2 + \overline{SD}^2 = 4a^2$$

$$2) \overline{SA}^2 + \overline{SC}^2 = \overline{SB}^2 + \overline{SD}^2$$

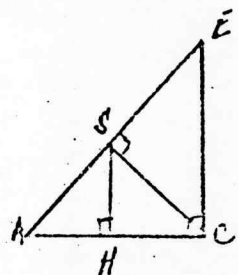
$$3) \overline{SB} = \overline{SD}$$

$$\text{De (1), (2) e (3)} \Rightarrow (4) \quad \overline{SD} = \overline{SD} = a$$

$$\text{De (1) e (4)} \Rightarrow \overline{SA}^2 + \overline{SC}^2 = 2a^2$$

$$\text{Como } \overline{AC}^2 = 2a^2 \Rightarrow \overline{SA}^2 + \overline{SC}^2 = \overline{AC}^2$$

O ângulo \widehat{ASC} é reto



$$\left\{ \begin{array}{l} \overline{AE} = a\sqrt{3} \\ \overline{AC} = a\sqrt{2} \\ \overline{CE} = a \end{array} \right.$$

$$5) \quad \overline{CE} \times \overline{AC} = \overline{AE} \times \overline{SC}$$

$$6) \quad \frac{\overline{SH}}{\overline{SC}} = \frac{\overline{SC}}{\overline{CE}}$$

$$\text{De (5) e (6)} \Rightarrow \overline{SH} = \frac{\overline{CE} \cdot \overline{AC}^2}{\overline{AE}^2} = \frac{2}{3} a$$

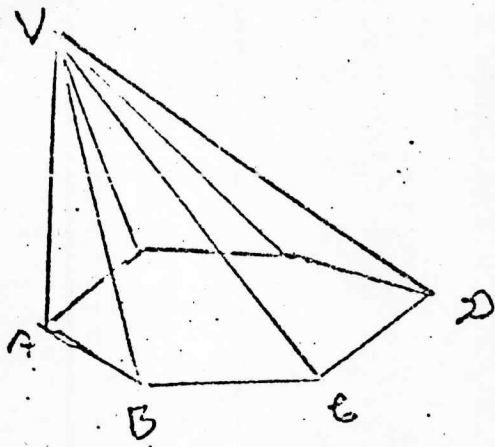
$$\text{Assim: Volume } V = \frac{1}{3} a^2 \cdot \overline{SH} \Rightarrow V = \frac{2}{9} a^3$$

RESPOSTA:

$$V = \frac{2}{9} a^3$$

13a. QUESTÃO - ÍTEM ÚNICO (1,0 ponto)

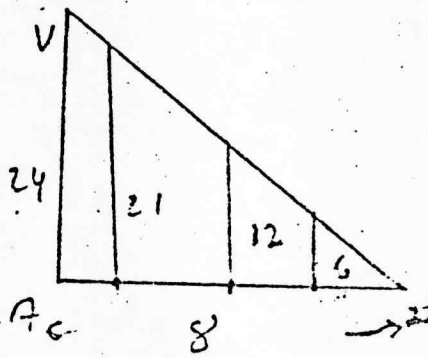
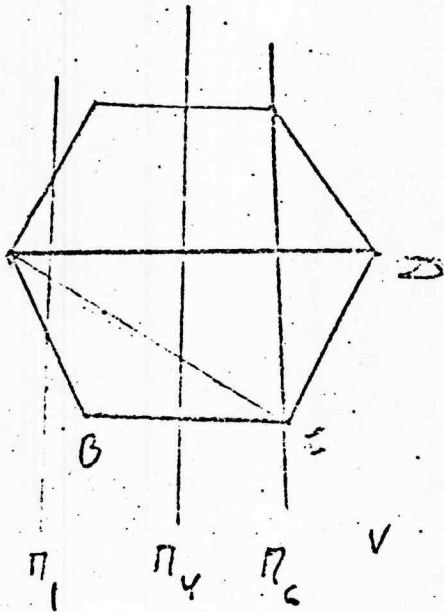
ENUNCIADO: Considere-se uma pirâmide de vértice V cuja base é um hexágono regular, $ABCDEF$, com 4 cm de lado; a aresta VA mede 24 cm e é perpendicular ao plano da base; seja e o eixo de simetria do hexágono, que passa por A ; sejam π_1 , π_4 e π_6 os planos perpendiculares a e que interceptam a pirâmide e distam respectivamente 1, 4 e 6 cm de A .
Pede-se fazer o esboço das seções determinadas na pirâmide por esses planos, indicando as distâncias dos vértices dos polígonos seções ao plano da base da pirâmide.



a) A seção por π_6 é um triângulo.
 A seção por π_4 é um pentágono.
 A seção por π_1 é um heptágono.
 Isto decorre do número de arestas de pirâmide que são cortadas.

b) No plano VAD as alturas interceptadas são:

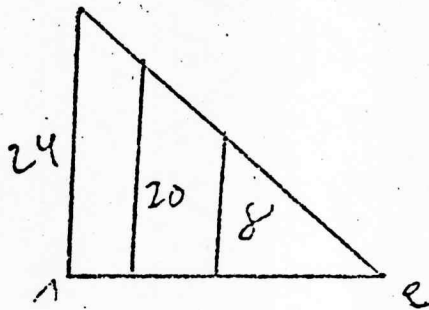
- π_1 — 21 cm
- π_4 — 12 cm
- π_6 — 6 cm



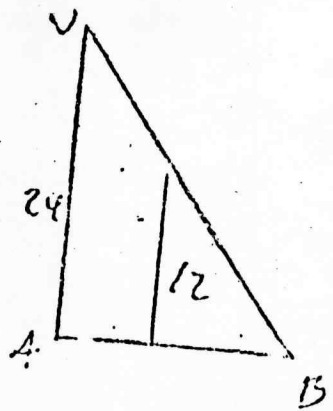
c) No plano VAC as alturas serão:

$$\pi_4 = \frac{2}{6} \times 24 = 8 \text{ cm}$$

$$\pi_1 = \frac{5}{6} \times 24 = 20 \text{ cm}$$



d) No plano VAB: a interseção por π_1 está a 12 cm de altura (meio de AB).



e) Os estôços decorrem imediatamente:

