

PROVA DE GEOMETRIA E TRIGONOMETRIA

1a. QUESTÃO:

ENUNCIADO: A área de um elipse é igual a quatro quintos da área de seu círculo principal.
 Calcule a excentricidade da elipse, sabendo-se que o arco de 2160 minutos da circunferência do círculo tem o comprimento de π centímetros.

- Respostas: A) 0,3 () D) 0,6 (x)
 B) 0,4 () E) 0,8 ()
 C) 0,5 () F) N.R.A. ()

SOLUÇÃO:

Área da elipse: $S_e = \pi ab$

Área do círculo principal: $S_c = \pi a^2$

$$\frac{S_e}{S_c} = \frac{\pi ab}{\pi a^2} = \frac{b}{a} = \frac{4}{5} \implies b = \frac{4}{5} a$$

$$\left. \begin{array}{l} \pi a \longrightarrow 180 \times 60' = 10.800' \\ \pi \longrightarrow 2.160' \end{array} \right\} \implies a = 5$$

$$b = \frac{4}{5} a = 4 \quad c = \sqrt{a^2 - b^2} = \sqrt{25 - 16} = 3$$

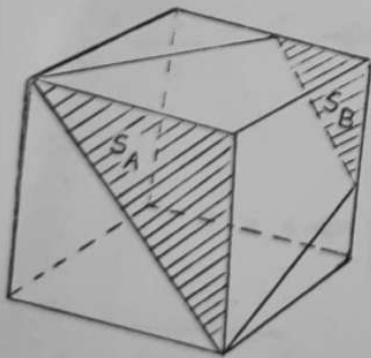
$$e = \frac{c}{a} = \frac{3}{5} = 0,6$$

2a. QUESTÃO:

ENUNCIADO: Um cubo de aresta "a" é seccionado por um plano que contém a diagonal de uma das faces e passa pelo ponto médio de uma aresta da face oposta. Calcule o volume do menor dos sólidos resultantes.

- Respostas: A) $2(a^3 - 2)$ () D) $3(a^3 - 1)$ ()
 B) $\frac{1}{3}(a^3 - 1)$ () E) $\frac{\sqrt{3}}{3}(1 - a^3)$ ()
 C) $\frac{1}{3}a^3$ () F) N.R.A. (x)

SOLUÇÃO:



$$V = \frac{a}{3} (S_A + S_B + \sqrt{S_A S_B})$$

$$S_A = \frac{a^2}{2}$$

$$S_B = \frac{a^2}{8}$$

$$V = \frac{a}{3} \left(\frac{a^2}{2} + \frac{a^2}{8} + \sqrt{\frac{a^2}{2} \cdot \frac{a^2}{8}} \right)$$

$$V = \frac{7a^3}{24}$$

3a. QUESTÃO:

ENUNCIADO: Determine os valores de x que satisfaçam a equação:

$$\arcsen(x\sqrt{3}) = \arcsen 2x - \arcsen x$$

- Respostas: A) $x = 0$ () B) $x = \pm 1$ ()
 C) $x = 0, x = \pm 1$ () D) $x = 0, x = \pm\sqrt{3}$ ()
 E) $x = 0, x = \pm 1/2$ (x) F) N.R.A.

SOLUÇÃO:

Façamos $\arcsen 2x = u \Rightarrow \text{senu} = 2x$, $\cos u = \sqrt{1 - 4x^2}$
 $\arcsen x = v \Rightarrow \text{senv} = x$, $\cos v = \sqrt{1 - x^2}$

$$\arcsen(x\sqrt{3}) = u - v$$

$$x\sqrt{3} = \text{sen}(u - v) = \text{sen} u \cos v - \text{sen} v \cos u$$

$$x\sqrt{3} = 2x\sqrt{1 - x^2} - x\sqrt{1 - 4x^2}$$

Eliminando a raiz $x = 0$, vem

$$\sqrt{3} = 2\sqrt{1 - x^2} - \sqrt{1 - 4x^2}$$

$$\sqrt{3} - 2\sqrt{1 - x^2} = -\sqrt{1 - 4x^2}$$

$$4\sqrt{3}\sqrt{1 - x^2} = -6$$

$$48(1 - x^2) = 36 \quad \therefore x = \pm 1/2$$

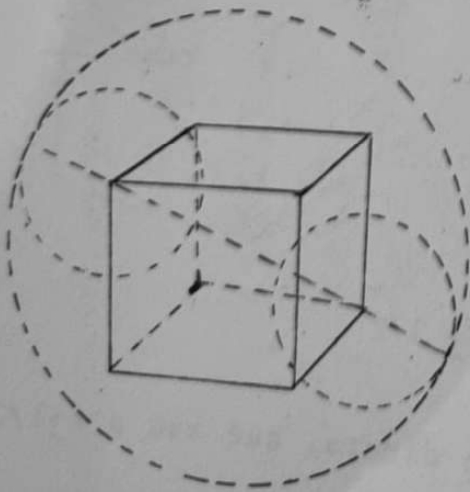
Verifica-se, por substituição direta, que $x=0$ e $x=\pm 1/2$ satisfazem a equação dada.

4a. QUESTÃO:

ENUNCIADO: Sejam 8(oito) esferas de raio "r" tangentes entre si 3 a 3 inscritas em uma esfera de raio "R". Calcule "r" em função de "R".

- Respostas:
- A) $\frac{R}{2} (\sqrt{3}-1)$ (X)
 - B) $\sqrt{3}R$ ()
 - C) $\frac{\sqrt{2}}{2}R$ ()
 - D) $\frac{R\sqrt{2}}{2} (\sqrt{3}-1)$ ()
 - E) $\frac{R\sqrt{3}}{2}$ ()
 - F) N.R.A. ()

SOLUÇÃO:



Os centros das esferas interiores estão sôbre os vêrtices de um cubo de aresta $2r$. O diâmetro da esfera envolvente é

$$2R = r + d + r = d + 2r,$$

onde $d = 2r\sqrt{3}$ é a diagonal do cubo.

Então:

$$2R = 2r\sqrt{3} + 2r$$

$$r = \frac{R}{\sqrt{3} + 1}$$

$$r = \frac{R}{2} (\sqrt{3} - 1)$$

5a. QUESTÃO:

ENUNCIADO: Determine os valores de "x" e "y" que satisfaçam as equações:

$$x + y = \pi/5$$

$$\text{sen}^2 x + \text{sen}^2 y = 1 - \cos \pi/5$$

- Respostas:
- A) $x = 0, y = \pi/5$ ()
 - B) $x = y = K\pi \pm \pi/10$ ()
 - C) $x = 2K\pi + \pi/5, y = 2K\pi - \pi/5$ ()
 - D) $x = K\pi + \pi/10, y = \pi/10 - K\pi$ (x)
 - E) $x = \pi/2 + K\pi, y = -K\pi - 3\pi/10$ ()
 - F) N. R. A. ()

SOLUÇÃO:

$$\text{sen}^2 x = \frac{1 - \cos 2x}{2}$$

$$\text{sen}^2 y = \frac{1 - \cos 2y}{2}$$

$$\text{sen}^2 x + \text{sen}^2 y = \frac{2 - \cos 2x - \cos 2y}{2} = 1 - \cos \frac{\pi}{5}$$

Daí: $\cos 2x + \cos 2y = 2 \cos \frac{\pi}{5}$

$$\cos(x+y) \cdot \cos(x-y) = \cos \frac{\pi}{5}$$

Porém $\cos(x+y) = \cos \frac{\pi}{5}$, logo $\cos(x-y) = 1$

$$x - y = 2K\pi \quad \text{e} \quad x + y = \frac{\pi}{5}$$

$$x = K\pi + \frac{\pi}{10} \quad y = \frac{\pi}{10} - K\pi$$

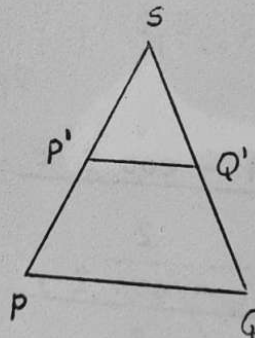
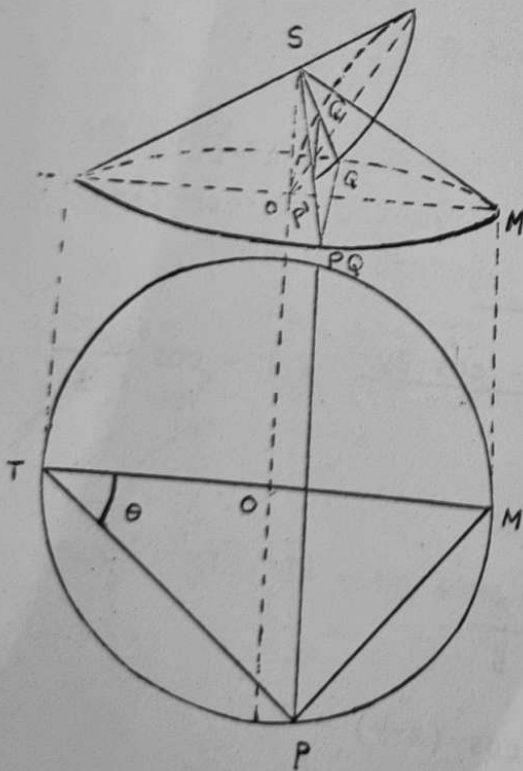
6a. QUESTÃO

ENUNCIADO: Dois cones retos C e C' que têm ângulos do vértice iguais a 120° e geratrizes respectivamente iguais a 4 e 2 metros, interceptam-se de modo que os vértices coincidem e uma geratriz de C' é a altura de C. Determine a corda máxima na base de C' contida no cone C.

Respostas:

- | | | | |
|---------------------------|-----|----------------------------|-----|
| A) $\frac{\sqrt{3}}{2}$ m | () | B) $\frac{4\sqrt{6}}{3}$ m | (x) |
| C) $3\sqrt{2}$ m | () | D) 1 m | () |
| E) $\sqrt{6}$ m | () | F) N. R. A. | () |

SOLUÇÃO:



$$\begin{aligned} \overline{SM} &= 4 \\ \overline{SO} &= \overline{SM} \cos 60^\circ = 2 \\ \overline{SP} &= \overline{SQ} = \overline{SM} = 4 \\ \overline{SQ'} &= 2 \\ \frac{\overline{P'Q'}}{\overline{PQ}} &= \frac{\overline{SQ'}}{\overline{SQ}} = \frac{2}{4} = \frac{1}{2} \end{aligned}$$

ΔPSM é equilátero, pois $\overline{SP} = \overline{SM}$ e $\widehat{PSM} = 60^\circ$. Então; $\overline{PM} = 4$

$$\overline{TM} = 2 \overline{OM} = 2 \times 4 \sin 60^\circ = 4\sqrt{3}$$

$$\overline{TP} = \sqrt{(4\sqrt{3})^2 - (4)^2} = 4\sqrt{2}$$

$$\overline{RP} = \overline{TP} \sin \theta$$

$$\sin \theta = \frac{\overline{PM}}{\overline{TM}} = \frac{4}{4\sqrt{3}} = \frac{1}{\sqrt{3}}$$

$$\overline{RP} = (4\sqrt{2}) \left(\frac{1}{\sqrt{3}} \right) = \frac{4\sqrt{6}}{3}$$

$$\overline{PQ} = 2 \times \frac{4\sqrt{6}}{3} = \frac{8\sqrt{6}}{3} \quad \overline{P'Q'} = \frac{4\sqrt{6}}{3}$$

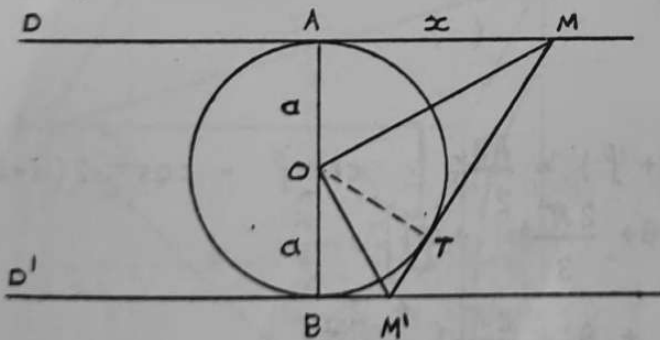
7a. QUESTÃO

ENUNCIADO: A perpendicular às retas paralelas D e D' , determina respectivamente sobre as mesmas pontos A e B , distantes de $2a$. Toma-se um ponto M sobre D tal que $\overline{AM} = x$. Traça-se por O , meio de \overline{AB} , uma perpendicular a \overline{OM} que encontra D' em M' . Calcule em função de a e x o volume gerado pelo triângulo OMM' quando gira em torno de \overline{AB} .

Respostas:

- A) $\pi (a + x)^3$ () B) $a \frac{(a^2 + x^2)}{\pi}$ ()
 C) $\frac{a^2 (a+x)}{\pi}$ () D) $\frac{\pi a}{3x^2} (a^2 + x^2)^2$ (x)
 E) $\frac{\pi}{6x} (a^2 + x^2)^2$ () F) N.R.A. ()

SOLUÇÃO:



Traça-se o círculo de diâmetro AB , que tangencia MM' em T

$$OT = a$$

$$V = 1/3 (OT \cdot S_{MM'})$$

$$\text{onde } S_{MM'} = \pi (AM + BM') \times MM'$$

$$\text{porém } AM = MT \text{ e } BM' = TM' \implies AM + BM' = MT + TM' = MM'$$

$$\text{e } S_{MM'} = \pi MM'^2$$

$$V = \frac{\pi a}{3x^2} (a^2 + x^2)^2$$

8a. QUESTÃO

ENUNCIADO: Dadas as expressões:

$$a_1 = A \operatorname{sen} (x + \theta)$$

$$a_2 = A \operatorname{sen} (x + 2\pi/3 + \theta)$$

$$a_3 = A \operatorname{sen} (x - 2\pi/3 + \theta)$$

$$b_1 = B \operatorname{sen} (x + \theta + \varphi)$$

$$b_2 = B \operatorname{sen} (x + 2\pi/3 + \theta + \varphi)$$

$$b_3 = B \operatorname{sen} (x - 2\pi/3 + \theta + \varphi)$$

Calcule $C = a_1 b_1 + a_2 b_2 + a_3 b_3$

Respostas:

A) $(3 AB/2) \cos \varphi$ (x)

B) $3 AB \operatorname{sen} (x + \theta)$ ()

C) $(3 AB/2) \cos (2x + \theta + \varphi)$ ()

D) $AB \operatorname{sen} (\varphi + \theta)$ ()

E) $(AB/2) \cos (x + \theta + \varphi)$ ()

F) N. R. A: ()

SOLUÇÃO:

$$a_1 b_1 = A \operatorname{sen} (x + \theta) B \operatorname{sen} (x + \theta + \varphi) = \frac{AB}{2} \left\{ \cos \varphi - \cos [2(x + \theta) + \varphi] \right\}$$

$$a_2 b_2 = AB \left\{ \cos \varphi - \cos \left[2 \left(x + \theta + \frac{2\pi}{3} \right) + \varphi \right] \right\}$$

$$a_3 b_3 = \frac{AB}{2} \left\{ \cos \varphi - \cos \left[2 \left(x + \theta - \frac{2\pi}{3} \right) + \varphi \right] \right\}$$

$$C = \frac{3}{2} AB \cos \varphi - \frac{AB}{2} \left\{ \cos (2x + 2\theta + \varphi) + \cos (2x + 2\theta + \frac{4\pi}{3} + \varphi) + \right.$$

$$\left. + \cos (2x + 2\theta - \frac{4\pi}{3} + \varphi) \right\} = \frac{3}{2} AB \cos \varphi - \frac{AB}{2} \left\{ \cos (2x + 2\theta + \varphi) - \frac{1}{2} \cos (2x + 2\theta + \varphi) + \frac{\sqrt{3}}{2} \operatorname{sen} (2x + 2\theta + \varphi) \right\}$$

$$C = \frac{3 AB}{2} \cos \varphi$$

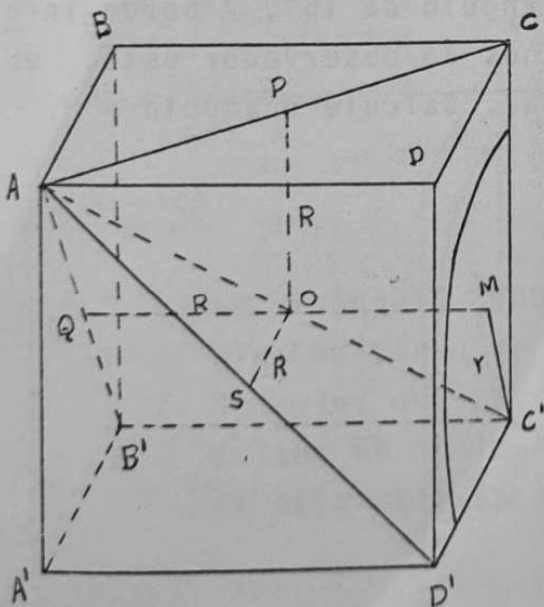
9a. QUESTÃO

ENUNCIADO: Uma esfera de raio "R" é tangente às faces de um dos triédros de um cubo de aresta "a". Um vértice do cubo pertence à superfície esférica. Calcule o raio "r" da interseção da esfera com o plano de uma das faces do cubo que cortam a esfera, em função apenas da "a" do cubo.

Resposta:

- A) $\frac{\sqrt{2}}{2} a$ () B) $(\sqrt{2} - 1)a$ ()
 C) $\frac{\sqrt{2}}{2} (\sqrt{3}-1)a$ (x) D) $(1 - \sqrt{3})a$ ()
 E) $\frac{(\sqrt{3}-1)}{2} a$ () F) N. R. A. ()

SOLUÇÃO:



O - centro da esfera de raio R
 M - centro da interseção da esfera com o plano da face do cubo.

Do $\triangle OMC'$, retângulo em M:

$$\overline{MO}^2 + \overline{MC}'^2 = \overline{OC}'^2$$

$$\overline{MO} = a - R$$

$$\overline{OC}' = R$$

$$\overline{MC}' = r$$

$$(a - R)^2 + r^2 = R^2 \implies r = \sqrt{2Ra - a^2}$$

$$\triangle APO \sim \triangle ACC' : \frac{R}{a} = \frac{\overline{AO}}{\overline{AC}'} = \frac{AO}{a\sqrt{3}} \implies \overline{AO} = R\sqrt{3}$$

Podemos escrever $\overline{AO} + \overline{OC}' = \overline{AC}'$

Ou $R\sqrt{3} + R = a\sqrt{3} \implies R = a/2(3 - \sqrt{3})$

CONTINUAÇÃO DA 9a. QUESTÃO

Substituindo (2) em (1) vem

$$r = \sqrt{\frac{2a(3 - \sqrt{3})}{2} \cdot a - a^2} = a (\sqrt{2 - \sqrt{3}})$$

$$\text{donde } r = \frac{\sqrt{2}}{2} (\sqrt{3} - 1) a$$

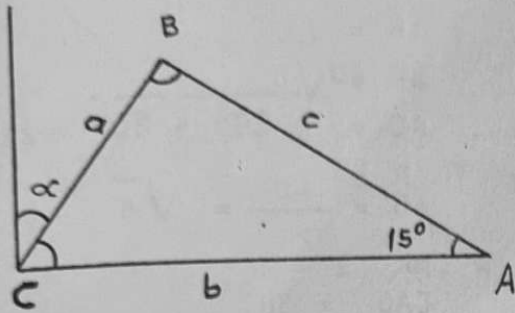
10a. QUESTÃO

ENUNCIADO: Um quadro retangular de $17 (\sqrt{6} - \sqrt{2})$ metros de altura, com sua borda inferior apoiada em uma parede vertical, faz com a mesma um ângulo α . Um observador, a $34\sqrt{2}$ metros de distância da parede, vê o quadro segundo um ângulo de 15° . A borda inferior do quadro e os olhos do observador estão em um mesmo plano horizontal. Calcule o ângulo α .

Respostas:

- A) 15° ()
- B) 30° ()
- C) 45° ()
- D) 60° (X)
- E) 75° ()
- F) N.R.A. ()

SOLUÇÃO DA 10a. QUESTÃO:



Lei dos senos:

$$\frac{a}{\sin A} = \frac{b}{\sin B}$$

$$\sin B = \frac{b \sin A}{a}$$

$$\sin A = \sin 15^\circ = \sin (45 - 30) =$$

$$= \sin 45^\circ \cos 30 - \sin 30 \cos 45 =$$

$$= \frac{\sqrt{2}}{2} \cdot \frac{\sqrt{3}}{2} - \frac{1}{2} \cdot \frac{\sqrt{2}}{2} = \frac{\sqrt{2}}{4} (\sqrt{3} - 1)$$

$$\sin B = \frac{b}{a} \sin 15 = \frac{\sqrt{2}}{2} \quad B = \begin{cases} 45^\circ \\ 135^\circ \end{cases}$$

$$\alpha = 90 - C = 90 - [180 - (135 + 15)] = 60$$

11a. QUESTÃO

ENUNCIADO: Um retângulo ABCD de lados $\overline{AB} = 3\sqrt{2}$ m e $\overline{BC} = \sqrt{6}$ m, gira em torno de um eixo, coplanar e externo ao retângulo, que passa por A e faz um ângulo de 30° com o lado \overline{AB} . Calcule a superfície total do sólido gerado pela rotação do retângulo.

Respostas:

A) $\sqrt{3}/2$ m² ()

B) $2\pi/\sqrt{3}$ m² ()

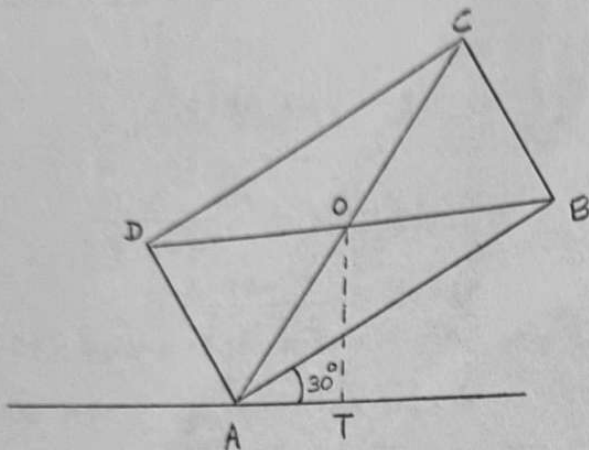
C) $12\pi(\sqrt{3}+3)$ m² (x)

D) $\pi/2(\sqrt{3}+6)$ m² ()

E) $\pi/6$ m² ()

F) N.R.A. ()

SOLUÇÃO DA 11a. QUESTÃO



$$AB = 3\sqrt{2}$$

$$BC = \sqrt{6}$$

$$AC = \sqrt{AB^2 + BC^2} = 2\sqrt{6}$$

$$AO = \frac{AC}{2} = \sqrt{6}$$

$$\widehat{CAB} = 30^\circ$$

$$AT = AO \cos 60 = \frac{\sqrt{6}}{2}$$

$$OT = \sqrt{AO^2 - AT^2} = \sqrt{6 - \frac{6}{4}} = \frac{3\sqrt{2}}{2}$$

Perímetro do retângulo: $2p = 2(3\sqrt{2} + \sqrt{6})$

Pelo Teorema de Guldin: $S = 2\pi \cdot OT \cdot 2p$

$$S = 12\pi(\sqrt{3} + 3) \text{ m}^2$$

12a. QUESTÃO.

ENUNCIADO: Determine os valores de x que satisfazem a equação:

$$7 \sin^2 x - 2\sqrt{3} \sin x \cos x - \cos^2 x = 4$$

Respostas: A) $x = k\pi + \frac{\pi}{2}$ e $x = k\pi + \frac{3\pi}{5}$ ()

B) $x = k\pi \pm \frac{2\pi}{3}$ ()

C) $x = k\pi + \pi/3$ e $x = k\pi + 5\pi/6$ ()

CONTINUAÇÃO DA 12a. QUESTÃO

$$D) \quad x = \pi \text{ e } x = k\pi - \frac{\pi}{2} \quad ()$$

$$E) \quad x = k\pi \pm \frac{\pi}{8} \quad ()$$

$$F) \quad \text{N. R. A.} \quad (x)$$

SOLUÇÃO:

$$7 \operatorname{sen}^2 x - 2\sqrt{3} \operatorname{sen} x \operatorname{cos} x - \operatorname{cos}^2 x = 4 (\operatorname{sen}^2 x + \operatorname{cos}^2 x)$$

$$3 \operatorname{sen}^2 x - 2\sqrt{3} \operatorname{sen} x \operatorname{cos} x - 5 \operatorname{cos}^2 x = 0$$

Dividindo por $\operatorname{cos}^2 x \neq 0$

$$3 \operatorname{tg}^2 x - 2\sqrt{3} \operatorname{tg} x - 5 = 0$$

$$\operatorname{tg} x = \frac{2\sqrt{3} \pm 6\sqrt{2}}{6} = \frac{\sqrt{3}}{3} \pm \sqrt{2}$$

Verifica-se que $\operatorname{cos} x = 0$ não é solução

$$\text{Então } x = \operatorname{arctg} \left(\frac{\sqrt{3}}{3} + \sqrt{2} \right)$$

$$\text{e } x = \operatorname{arctg} \left(\frac{\sqrt{3}}{3} - \sqrt{2} \right)$$

são as soluções.

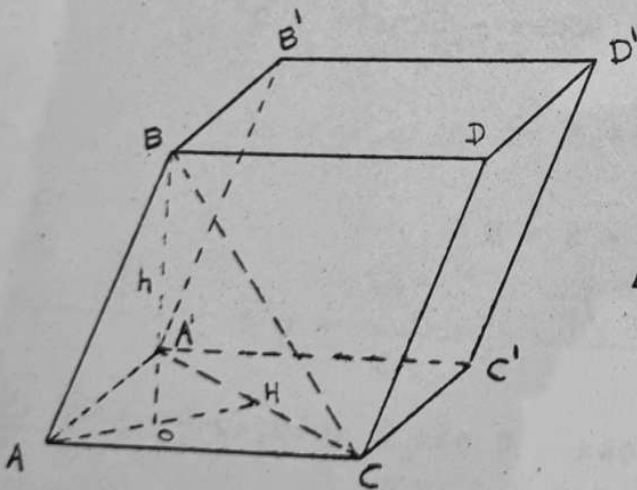
13a. QUESTÃO

ENUNCIADO: As faces de um paralelepípedo são losangos de lados iguais a $l = \sqrt{2}$ metros e diagonal menor igual ao lado. Calcule o volume do paralelepípedo.

Respostas:

- A) $\frac{\sqrt{3}}{2} \text{ m}^3$ () B) 2 m^3 (x)
 C) 3 m^3 () D) $2\sqrt{3} \text{ m}^3$ ()
 E) $2\sqrt{2} \text{ m}^3$ () F) N. R. A. ()

SOLUÇÃO:



Volume do paralelepípedo:

$$V = B \times h$$

$$B = \frac{dd'}{2}$$

$$\Delta AA'C: \overline{AH}^2 = \overline{AC}^2 - \overline{HC}^2 =$$

$$= (\sqrt{2})^2 - (\sqrt{2}/2)^2 = 3/2$$

$$\overline{AH} = \sqrt{6}/2$$

$$d' = 2\overline{AH} = \sqrt{6} \quad d = l = \sqrt{2}$$

$$B = 1/2 \sqrt{6} \sqrt{2} = \sqrt{3}$$

O tetraedro ABCA' é regular ($BC = CA' = A'B = AB = \sqrt{2}$)

$$\Delta AHC: \overline{AH} = \sqrt{\overline{AC}^2 - \overline{HC}^2} = \sqrt{2 - \frac{1}{2}} = \sqrt{\frac{3}{2}}$$

$$AO = \frac{2}{3} \overline{AH} = \frac{2}{3} \sqrt{\frac{3}{2}}$$

$$\Delta BOA: \text{h a } \overline{BO} = \sqrt{\overline{AB}^2 - \overline{AO}^2} = \sqrt{2 - \frac{2}{3}} = 2\sqrt{3}/3 \therefore V = B \cdot h$$

Finalmente: $V = 2 \text{ m}^3$

14a. QUESTÃO

ENUNCIADO: Sejam "n" circunferências de raio R, tangente entre si duas a duas e tendo seus centros sôbre os vêrtices de um polígono regular. Calcule a área exterior às circunferências e compreendida entre elas, em função de R e n.

Respostas:

A) $R^2 \left(n \operatorname{tg} \frac{\pi}{n} - \cotg \frac{\pi}{n} \right)$ ()

B) $R^2 \operatorname{tg} \frac{(n-1)\pi}{2}$ ()


C) $R^2 \left[n \cotg \frac{\pi}{n} - \frac{(n-2)\pi}{2} \right]$ (x)

D) $R^2 \left(\operatorname{sen} \frac{\pi}{n} - \cos \frac{\pi}{n} \right)$ ()

E) $R^2 \left(\operatorname{tg} \frac{\pi}{n} - \cos \frac{\pi}{n} \right)$ ()

F) N. R. A. ()

SOLUÇÃO:



Seja A a área que se deseja calcular. Temos que $A = A_p - nA_s$,

onde A_p é a área do polígono regular de n lados ($l = 2R$) e A_s é a área de um setor circular.

$$A_p = \frac{nl^2}{4} \cotg \frac{\alpha}{2}, \text{ com } l = 2R$$

$$\text{é } \alpha = \frac{2\pi}{n}$$

$$A_p = n R^2 \cotg \frac{\pi}{n}$$

CONTINUAÇÃO DA SOLUÇÃO DA 14a. QUESTÃO

$$A_s = \frac{\beta R^2}{2} \quad \beta = \left(\frac{n-2}{n}\right) \pi \quad A_s = \frac{n-2}{n} \cdot \frac{\pi R^2}{2}$$

$$A = R^2 \left[n \cotg \frac{\pi}{n} - \left(\frac{n-2}{2}\right) \pi \right]$$

15a. QUESTÃO

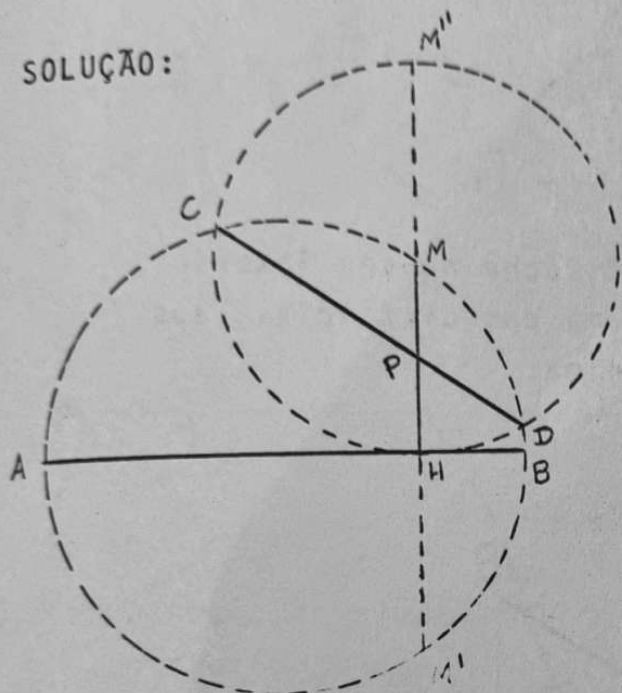
ENUNCIADO: Seja M um ponto de circunferência de círculo de diâmetro \overline{AB} e H a projeção de M sobre o diâmetro. Traçando-se um segundo círculo com centro M e raio $R = \overline{MH}$ a corda \overline{CD} comum aos dois círculos intercepta o segmento \overline{MH} em um ponto P. Determine o valor da razão $\frac{PM}{PH}$.

Respostas:

- A) $1/2$ ()
- B) $1/8$ ()
- C) 2 ()
- D) $3/2$ ()
- E) $1/4$ ()
- F) N.R.A. (x)

15a. QUESTÃO - CONTINUAÇÃO

SOLUÇÃO:



A corda CD comum aos dois círculos é o eixo radical destes círculos. Como P pertence ao eixo radical, sua potência em relação a um dos círculos é igual à potência em relação ao outro:

$$\overline{PM} \cdot \overline{PM'} = \overline{PM''} \cdot \overline{PH}$$

$$\overline{PM'} = \overline{PH} + r$$

$$\overline{PM''} = \overline{PM} + r$$

$$\overline{PM} (\overline{PH} + r) = (\overline{PM} + r) \overline{PH}$$

$$\overline{PM} = \overline{PH} \implies \frac{\overline{PM}}{\overline{PH}} = 1$$