

**PROVA DE FÍSICA DO VESTIBULAR 96/97 DO
INSTITUTO MILITAR DE ENGENHARIA (03/12/96)**

1ª Questão:

Valor : 1,0

Suponha que a velocidade de propagação v de uma onda sonora dependa somente da pressão P e da massa específica do meio μ , de acordo com a expressão:

$$v = P^x \mu^y$$

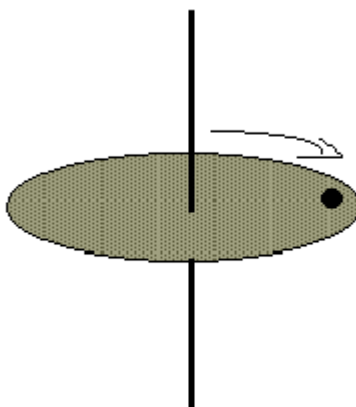
Use a equação dimensional para determinar a expressão da velocidade do som, sabendo-se que não existe constante adimensional entre estas grandezas.

2ª Questão:

Valor : 1,0

Um disco rotativo paralelo ao solo é mostrado na figura. Um inseto de massa $m = 1,0$ g está pousado no disco a 12,5 cm do eixo de rotação. Sabendo-se que o coeficiente de atrito estático do inseto com a superfície do disco é $\mu_e = 0,8$, determine qual o valor mínimo da velocidade angular, em rpm (rotações por minuto), necessário para arremessar o inseto para fora do disco.

Dado: $g = 10 \text{ m / s}^2$

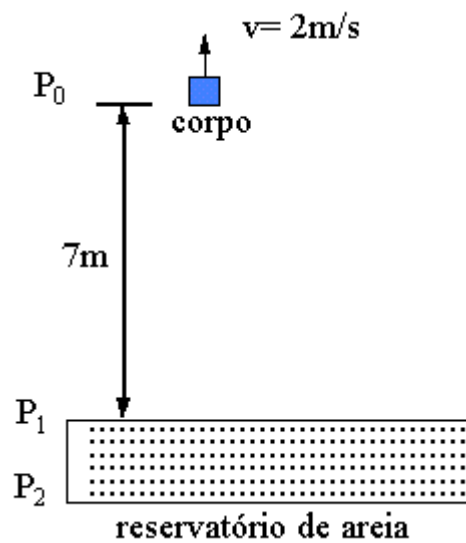


3^a Questão:

Valor : 1,0

Um corpo de 4 kg é puxado para cima por uma corda com velocidade constante igual a 2 m/s. Quando atinge a altura de 7 m em relação ao nível da areia de um reservatório, a corda se rompe, o corpo cai e penetra no reservatório de areia, que proporciona uma força constante de atrito igual a 50 N. É verificado que o corpo leva 4s dentro do reservatório até atingir o fundo. Faça um esboço gráfico da velocidade do corpo em função do tempo, desde o instante em que a corda se rompe (P_0) até atingir o fundo do reservatório (P_2), indicando os valores para os pontos P_0 , P_1 e P_2 , sendo P_1 o início do reservatório.

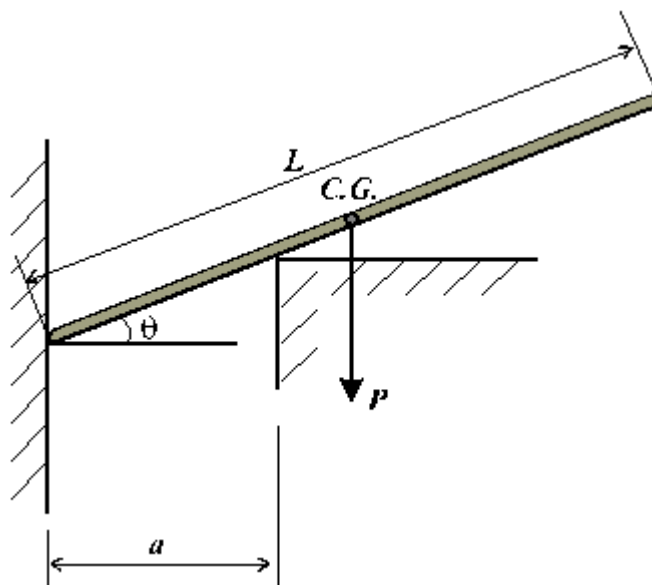
Dado: $g = 10 \text{ m/s}^2$



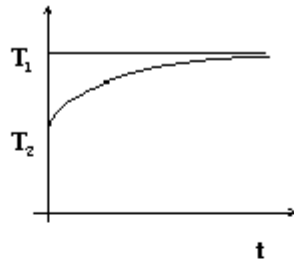
4ª Questão:

Valor : 1,0

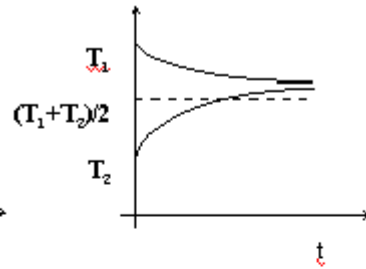
Uma barra uniforme e homogênea de peso P , tem seu centro de gravidade ($C.G.$) na posição indicada na figura abaixo. A única parede considerada com atrito é aquela na qual a extremidade esquerda da barra está apoiada. O módulo da força de atrito F_{at} é igual ao peso da barra. Determine o valor do ângulo na posição de equilíbrio, em função do comprimento da barra L e da distância entre as paredes a .



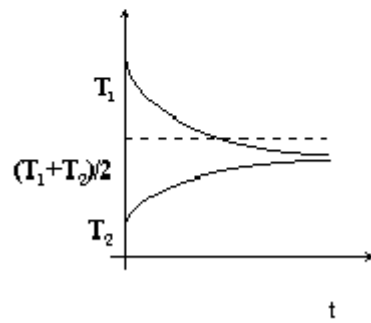
Dois corpos, cujas temperaturas iniciais valem T_1 e T_2 , interagem termicamente ao longo do tempo e algumas das possíveis evoluções são mostradas nos gráficos abaixo. Analise cada uma das situações e discorra a respeito da situação física apresentada, procurando, caso procedente, tecer comentários acerca dos conceitos de reservatório térmico e capacidade térmica. Fundamente, sempre que possível, suas afirmações na Primeira Lei da Termodinâmica.



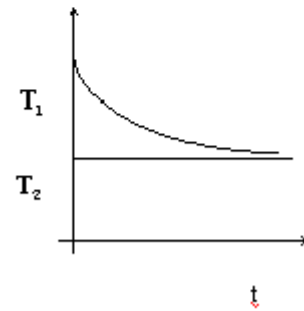
(a)



(b)



(c)



(d)

6ª Questão:

Valor : 1,0

Afinando um instrumento de cordas, um músico verificou que uma das cordas estava sujeita a uma força de tração de 80 N e que ao ser dedilhada, vibrava com uma frequência 20 Hz abaixo da ideal. Sabendo-se que a parte vibrante da corda tem 100 cm de comprimento, 0,5 g de massa e que deve ser afinada no primeiro harmônico, determine a força de tração necessária para afinar a corda.

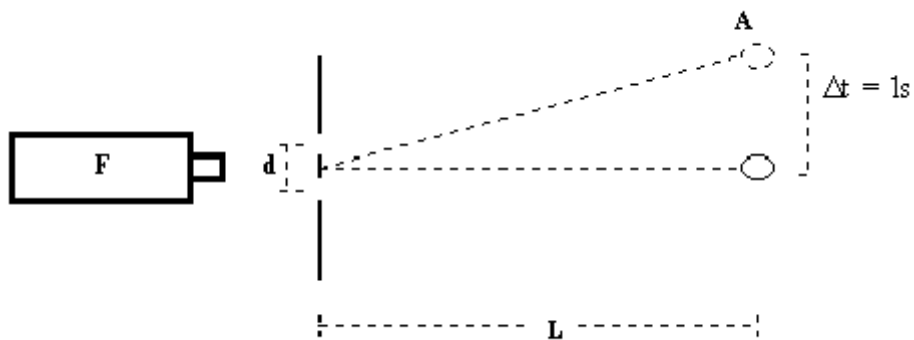
7ª Questão:

Valor : 1,0

Na figura abaixo, a partícula **A**, que se encontra em queda livre, passa pelo primeiro máximo de interferência com velocidade de 5 m/s e, após um segundo, atinge o máximo central. A fonte de luz **F** é monocromática com comprimento de onda de 5000 Angstroms e a distância **d** entre os centros da fenda dupla é igual a 10^{-6} m. Calcule a distância **L**.

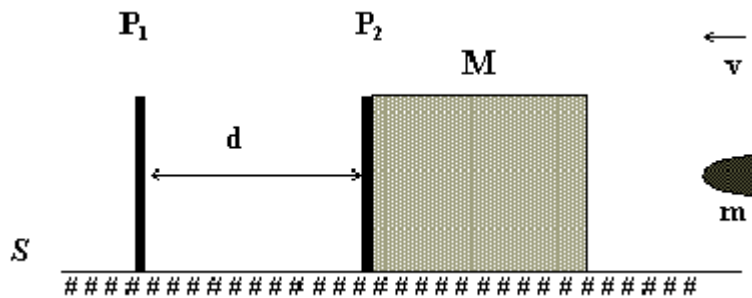
Dado :

aceleração da gravidade = $10 \text{ m} / \text{s}^2$.



Na figura abaixo, as placas metálicas P_1 e P_2 estão inicialmente separadas por uma distância $d = 12$ cm. A placa P_1 está fixada na superfície plana S e a placa P_2 está colocada na face de um cubo de madeira de massa M , que pode deslizar sem atrito sobre S . A capacitância entre as placas é de 6 F. Dispara-se um tiro contra o bloco de madeira com uma bala de massa m , ficando a bala encravada no bloco. Oito milissegundos após o impacto, a capacitância iguala-se a 9F. Determine a velocidade da bala antes do impacto. (Despreze a resistência do ar e a massa de P_2).

Dados: $M = 600$ g ; $m = 6$ g



9^a Questão:

Valor : 1,0

No circuito da figura abaixo, as chaves **CH1** e **CH2** estão abertas e o amperímetro **A** indica que existe passagem de corrente. Quando as duas chaves estão fechadas, a indicação do amperímetro **A** não se altera. Determinar:

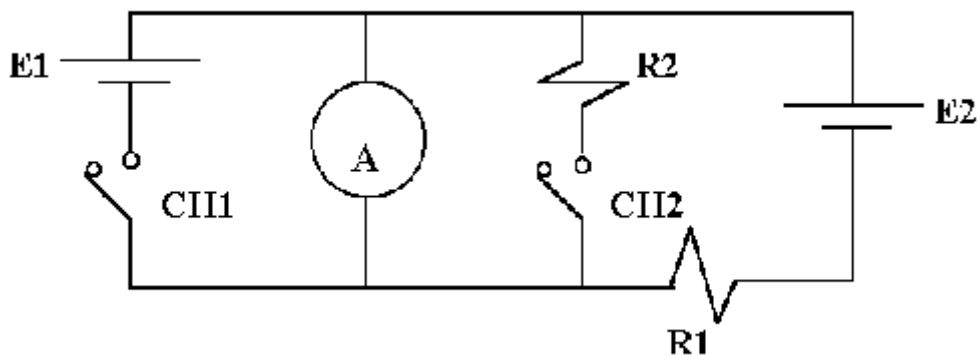
- o valor da resistência **R2** ;
- a potência dissipada por efeito Joule na resistência **R2** quando **CH1** e **CH2** estão fechadas.

Dados: Bateria 1: fem **E1** = 12 V; resistência interna **r₁** = 1;

Bateria 2: fem **E2** = 12 V; resistência interna **r₂** = 1;

Resistência do amperímetro **A**: **r₃** = 2;

R1 = 9.



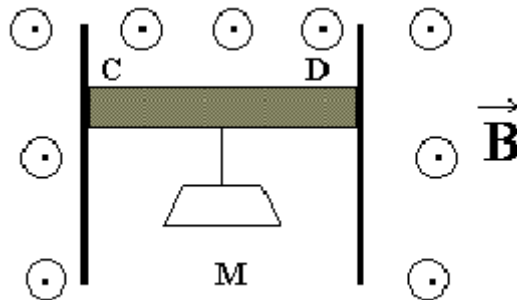
10^a Questão:

Valor : 1,0

Considere uma barra condutora reta (CD) com um corpo de massa **M** a ela ligada, imersa em uma região com um campo magnético uniforme **B**, podendo se mover apoiada em dois trilhos condutores verticais e fixos. O comprimento da barra é igual a 500 mm e o valor do campo é igual a 2 T. Determine a massa (conjunto corpo + barra) que permitirá o equilíbrio do sistema quando uma corrente igual a 60 A circular na barra.

Dados: Aceleração da gravidade $g = 10 \text{ m/s}^2$;

Despreze o atrito entre a barra e os trilhos.



IME – FÍSICA – 1997 (Resoluções)

01 - Suponha que a velocidade de propagação v de uma onda sonora dependa somente da pressão P e da massa específica do meio μ , de acordo com a expressão: $v = P^x \mu^y$. Use a equação dimensional para determinar a expressão da velocidade do som, sabendo-se que não existe constante adimensional entre estas grandezas.

Solução:- Equações dimensionais:

$$[v] = LT^{-1}; [P] = [F]/[A]] MLT^{-2}/L^2 = ML^{-1}T^{-2}; [\mu] = [m]/[V] = ML^{-3}.$$

$$\text{Para que } LT^{-1} = (ML^{-1}T^{-2})^x \cdot (ML^{-3})^y \text{ devemos ter: } M^{x+y} = M^0 \rightarrow x + y = 0 \text{ (1); } L^1 = L^{-x-3y} \rightarrow -x - 3y = 1 \text{ (2) e } T^{-1} = T^{-2x} \rightarrow 2x = 1 \text{ (3)}$$

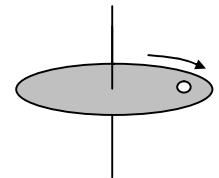
De (3), $x = 1/2$. Levando em (1), $y = -x = -1/2$.

Levando estes valores em (2) $-1/2 + 3/2 = 2/2 = 1$. O que confirma $x = 1/2$ e $y = -1/2$.

$$\text{Portanto. } v = P^{1/2} \cdot \mu^{-1/2} = (P/\mu)^{1/2} = \sqrt{P/\mu}$$

Resposta: $v = \sqrt{P/\mu}$

02 - Um disco rotativo paralelo ao solo é mostrado na figura. Um inseto de massa $m = 1,0$ g está pousado no disco a 12,5 cm do eixo de rotação. Sabendo-se que o coeficiente de atrito estático do inseto com a superfície do disco é $\mu_e = 0,8$, determine qual o valor mínimo da velocidade angular, em rpm (rotações por minuto), necessário para arremessar o inseto para fora do disco. Dado: $g = 10 \text{ m/s}^2$



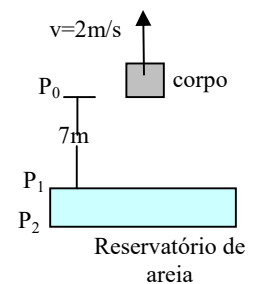
Solução:- Para manter o inseto na posição é necessário que a força centrípeta (mv^2/r) seja igual à força de atrito ($\mu_e P = \mu_e mg$). Tem-se ainda que $v = wr$, onde w é a velocidade angular.

$$\text{Desta forma: } \mu_e mg = m(wr)^2/r \rightarrow \mu_e g = w^2 r \rightarrow w^2 = \mu_e g/r = 0,8 \cdot 10/0,125 = 64 \rightarrow w = 8 \text{ rad/s}$$

$$\text{Sendo } w = 2\pi f, \text{ tem-se } f = w/2\pi \rightarrow f = 8/2\pi \text{ rotações por seg} = (8/2\pi) \cdot 60 \text{ rpm} = 76,4 \text{ rpm.}$$

Resposta: 76,4 rpm.

03 - Um corpo de 4kg é puxado para cima por uma corda com velocidade constante igual a 2 m/s. Quando atinge a altura de 7m em relação ao nível da areia de um reservatório, a corda se rompe, o corpo cai e penetra no reservatório de areia, que proporciona uma força constante de atrito igual a 50N. É verificado que o corpo leva 4s dentro do reservatório até atingir o fundo. Faça um esboço gráfico da velocidade do corpo em função do tempo, desde o instante em que a corda se rompe (P_0) até atingir o fundo do reservatório (P_2), indicando os valores para os pontos P_0 , P_1 e P_2 , sendo P_1 o início do reservatório.



Dado: $g = 10\text{m/s}^2$

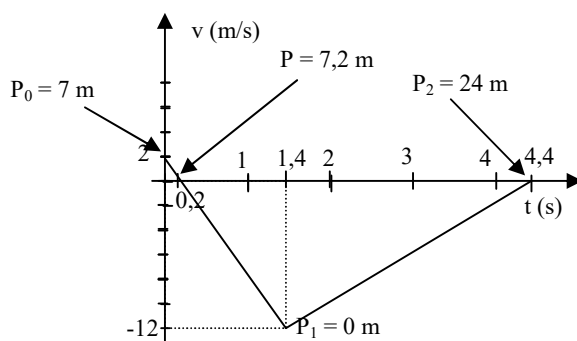
Solução:- A velocidade inicial é 2 m/s para cima. Isto implica em que no tempo $t = v/g = 2/10 = 0,2$ segundo sua velocidade será 0. Nesse tempo o corpo sobe $h' = v^2/2g = 2^2/2 \cdot 10 = 0,2$ m.

A partir desse tempo a velocidade aumenta para baixo, na razão de 10 m/s em cada segundo (aceleração da gravidade). Este é o tempo gasto para o corpo cair $7 + 0,2 = 7,2$ m. Portanto: $h = (1/2)gt^2 \rightarrow 7,2 = 5t^2 \rightarrow t^2 = 1,44 \rightarrow t = 1,2 \text{ s} \rightarrow v = gt = 10 \cdot 1,2 = 12 \text{ m/s.}$

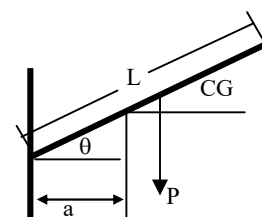
Como o corpo leva 4 s para parar, sua aceleração é: $a = (v - v_0)/t = (0 - 12)/4 = -3 \text{ m/s}^2$. Neste tempo, o espaço percorrido até parar é dado por $d = v_0 t + (1/2)at^2 = 12 \cdot 4 + (1/2) \cdot (-3) \cdot 4^2 = 48 - 24 = 24 \text{ m.}$

Observação: os dados são inconsistentes pois com a força de 50 N, teremos: $a = (P - F)/m = (4.10 - 50)/4 = -2,5 \text{ m/s}^2$.

Construindo o gráfico da velocidade em função do tempo, levando em conta a desaceleração de 3 m/s^2 ,



04 – Uma barra uniforme e homogênea de peso P , tem seu centro de gravidade ($C.G.$) na posição indicada na figura abaixo. A única parede considerada com atrito é aquela na qual a extremidade esquerda da barra está apoiada. O módulo da força de atrito F_{at} é igual ao peso da barra. Determine o valor do ângulo na posição de equilíbrio, em função do comprimento da barra L e da distância entre as paredes a .



Solução:- Como a barra é uniforme e homogênea, o CG coincide com o centro da barra.

As forças que atuam sobre a barra, além do peso, estão acrescentadas em azul na figura dada.

Resultante das componentes verticais: $P = F_{at} + N \cdot \sin \theta$ (1)

Resultante das componentes horizontais: $H = N \cdot \cos \theta$. (2)

O comprimento da barra compreendido entre os pontos de contato da barra com a parede é x , tal que $a/x = \cos \theta \rightarrow x = a/\cos \theta$.

Soma dos momentos em relação à extremidade esquerda da barra:

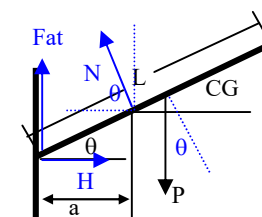
$N \cdot (a/\cos \theta) - P \cdot \cos \theta \cdot (L/2) = 0. \rightarrow N = P \cdot (L/2a) \cdot \cos^2 \theta$ (3).

Substituindo (3) em (1), $P = F_{at} + P \cdot (L/2a) \cdot \cos^2 \theta \cdot \sin \theta \rightarrow \cos^2 \theta \cdot \sin \theta = (P - F_{at}) / (PL/2a) \rightarrow$

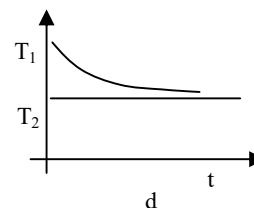
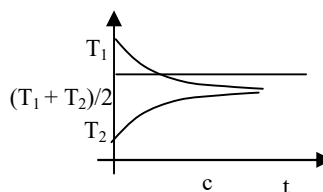
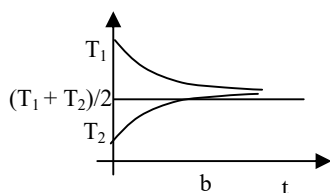
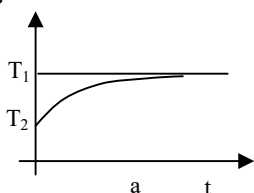
$\rightarrow \cos^2 \theta \cdot \sin \theta = 2a \cdot (P - F_{at}) / PL$.

Para que $F_{at} = P$, devemos ter $\cos \theta = 0 \rightarrow \theta = 90^\circ$, o que não é possível pois a barra estaria na vertical, ou $\sin \theta = 0 \rightarrow \theta = 0^\circ$.

Resposta: $\theta = 0^\circ$



05 - Dois corpos, cujas temperaturas iniciais valem T_1 e T_2 , interagem termicamente ao longo do tempo e algumas das possíveis evoluções são mostradas nos gráficos abaixo. Analise cada uma das situações e discorra a respeito da situação física apresentada, procurando, caso procedente, tecer comentários acerca dos conceitos de reservatório térmico e capacidade térmica. Fundamente, sempre que possível, suas afirmações na Primeira Lei da Termodinâmica



Resposta:

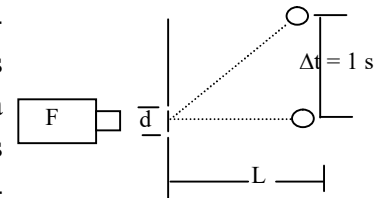
(a) O corpo de temperatura T_1 está recebendo calor à medida que cede para o corpo de temperatura T_2 .

(b) Como a temperatura de equilíbrio térmico é superior a $(T_1 + T_2)/2$, o corpo com temperatura inicial T_1 tem maior capacidade térmica que o de temperatura inicial T_2 . Pode também, o sistema estar recebendo calor do exterior.

(c) A temperatura de equilíbrio é menor que $(T_1 + T_2)/2$. Neste caso a capacidade térmica de (1) é menor que a de (2) ou o sistema está perdendo calor para o exterior.

(d) O corpo de temperatura T_2 é mantido em um sistema com temperatura constante. Ou seja T_2 está cedendo calor para o exterior ou realizando trabalho enquanto recebe calor do corpo 1.

06 - Na figura abaixo, a partícula A, que se encontra em queda livre, passa pelo primeiro máximo de interferência com velocidade de 5m/s e, após um segundo, atinge o máximo central. A fonte de luz F é monocromática com comprimento de onda de 5000 Angstroms e a distância d entre os centros da fenda dupla é igual a 10^{-6} m. Calcule a distância L. Dado: aceleração da gravidade = 10 m/s^2 .

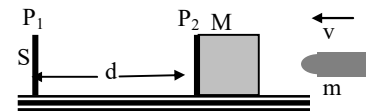


Solução:- A distância entre dois máximos é $\Delta x = v_0 t + (1/2)g.t^2 = 5.1 + (1/2).10.1^2 = 10 \text{ m}$

Como $\Delta x = L\lambda/d \rightarrow L = \Delta x.d/\lambda$ e $\lambda = 5000 \text{ \AA} = 5.10^{-7} \text{ m}$, $\rightarrow L = 10.10^{-6}/5.10^{-7} = 20 \text{ m}$.

Resposta: 20 m.

07 - Na figura abaixo, as placas metálicas P_1 e P_2 estão inicialmente separadas por uma distância $d = 12 \text{ cm}$. A placa P_1 está fixada na superfície plana S e a placa P_2 está colocada na face de um cubo de madeira de massa M, que pode deslizar sem atrito sobre S. A capacitância entre as placas é de 6 F.



Dispara-se um tiro contra o bloco de madeira com uma bala de massa m, ficando a bala encravada no bloco. Oito milisegundos após o impacto, a capacitância iguala-se a 9F. Determine a velocidade da bala antes do impacto. (Despreze a resistência do ar e a massa de P_2). Dados: $M = 600 \text{ g}$; $m = 6 \text{ g}$

Solução:- $C_0 = \epsilon_0 A/d$. Para $d = 12 \text{ cm} = 0,12 \text{ m}$, e $C_0 = 6 \text{ F}$, $\epsilon_0 A = 6.0,12 = 0,72$.

Para $C = 9 \text{ F}$, $9 = 0,72/d' \rightarrow d' = 0,72/9 = 0,08 \text{ m}$.

A distância percorrida pela bala, junto com o bloco é $v = (d - d')/t$, com $t = 8 \text{ ms} = 0,008 \text{ s} \rightarrow$

$\rightarrow v = (0,12 - 0,08)/0,008 = 0,04/0,008 = 5 \text{ m/s}$.

Pela conservação da quantidade de movimento: $mv_b = (M + m)v \rightarrow 6.v_b = (600 + 6).5 \rightarrow$

$\rightarrow v_b = 606.5/6 = 505 \text{ m/s}$.

Resposta: 505 m/s

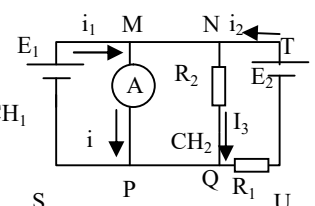
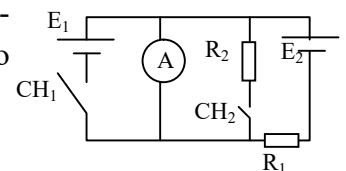
08 - No circuito da figura abaixo, as chaves CH_1 e CH_2 estão abertas e o amperímetro A indica que existe passagem de corrente. Quando as duas chaves estão fechadas, a indicação do amperímetro A não se altera. Determinar:

a) o valor da resistência R_2 ;

b) a potência dissipada por efeito Joule na resistência R_2 quando CH_1 e CH_2 estão fechadas.

Dados: Bateria 1: fem $E_1 = 12 \text{ V}$; resistência interna $r_1 = 1 \Omega$;

Bateria 2: fem $E_2 = 12 \text{ V}$; resistência interna $r_2 = 1 \Omega$; Resistência do amperímetro $r_3 = 2 \Omega$; $R_1 = 9 \Omega$



Solução:-

(a) Com as chaves abertas: $E_2 = (r_2 + R_1 + R_A)i \rightarrow 12 = (1 + 9 + 2)i \rightarrow 12 = 12i \rightarrow i = 1 \text{ A}$ (1)

Após fechada as chaves, temos o circuito abaixo sendo $V_M = V_N$ e $V_P = V_Q$.

Considerando as malhas:

(2) MNQP, $i \cdot R_A = R_2 i_3 \rightarrow 2i = R_2 \cdot i_3$

(3) RNQS, $E_1 = i_1 r_1 + R_2 i_3 = i_1 r_1 + R_A i \rightarrow 12 = i_1 + 2i$

(4) NTUQ: $E_2 = r_2 i_2 + R_2 i_3 + R_1 i_2 \rightarrow 12 = i_2 + 2i + 9i_2 \rightarrow 12 = 10i_2 + 2i$

(5) Nó M: $i_1 + i_2 = i + i_3$.

Substituindo o valor de i em (4), $12 = 10 \cdot i_2 + 2 \rightarrow i_2 = 1 \text{ A}$

Substituindo o valor de i em (3), $12 = i_1 + 2 \cdot 1 \rightarrow i_1 = 10 \text{ A}$.

Substituindo os valores de i , i_1 e i_2 em (5), $10 + 1 = 1 + i_3 \rightarrow i_3 = 10 \text{ A}$.

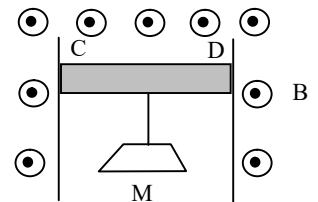
Levando os valores de i e i_3 em (2), $2 \cdot 1 = R_2 \cdot 10 \rightarrow R_2 = 0,2 \Omega$

(b) $P = R_2 i_3^2 = 0,2 \cdot 10^2 = 20 \text{ W}$.

Resposta: 20 W.

09 – Não disponível.

10 – Considere uma barra condutora reta (CD) com um corpo de massa M a ela ligada, imersa em uma região com um campo magnético uniforme B , podendo se mover apoiada em dois trilhos condutores verticais e fixos. O comprimento da barra é igual a 500mm e o valor do campo é igual a 2 T. Determine a massa (conjunto corpo + barra) que permitirá o equilíbrio do sistema quando uma corrente igual a 60A circular na barra. Dados: Aceleração da gravidade $g = 10\text{m/s}^2$ Despreze o atrito entre a barra e os trilhos.



Solução:- Para o equilíbrio, a força magnética (BiL) deve ser igual ao peso (mg) da barra somado ao peso (Mg) do corpo.

Sendo $L = 500 \text{ mm} = 0,5 \text{ m}$, $BiL = (m + M)g \rightarrow 2 \cdot 60 \cdot 0,5 = (m + M) \cdot 10 \rightarrow M + m = 60/10 = 6 \text{ kg}$.

Resposta: 60 kg.