


MINISTÉRIO DO EXÉRCITO  
DEP – CTE<sub>x</sub>  
INSTITUTO MILITAR DE ENGENHARIA



FÍSICA

1.º ANO

1982/ 1983



IME

COMISSÃO DE EXAME DE ESCOLARIDADE

*Quir*

1982/83

INSTRUÇÕES PARA A REALIZAÇÃO DA PROVA DE FÍSICA

1. NÃO ASSINE A PROVA.
2. Utilize a caneta esferográfica fornecida pelo Grupo de Aplicação e Fiscalização. As figuras julgadas necessárias deverão ser feitas a lápis preto. Não use lápis de outras cores.
3. O espaço destinado à solução de cada questão é suficiente para a solução da mesma, portanto, não será considerada resolução fora do local especificamente designado.
4. Não será fornecido material suplementar. A prova fornecida contém 5 (cinco) folhas de papel para rascunho, o qual poderá ser feito também no verso das folhas de questões. Note-se, no entanto, que o rascunho não será levado em conta para efeito de correção.
5. A interpretação das questões faz parte da resolução. São vedadas perguntas ao Grupo de Aplicação e Fiscalização.
6. A prova está sob a forma de caderno. Não é permitido destacar suas folhas. Ao entregar a prova devolva todo o material recebido.
7. Esta prova contém, além da capa e da presente folha de instruções, 20 (vinte) folhas numeradas de 1 (um) a 20 (vinte).
8. O tempo para a solução desta prova é 3 (três) horas.
9. Leia os enunciados com atenção. Resolva as questões na ordem que mais lhe convier. Seja sucinto, evitando divagações.

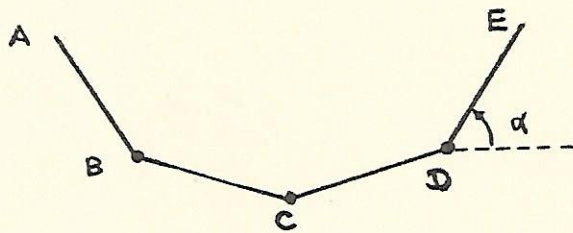
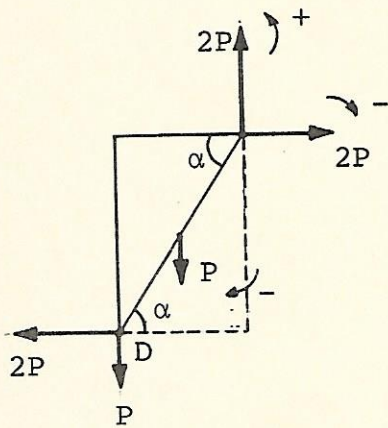
B O A S O R T E



Quatro barras homogêneas AB, BC, CD e DE, de peso P cada uma, estão articuladas entre si como indica a figura. Sustentam-se, com as mãos, os extremos A e E de forma que estejam sobre uma mesma reta horizontal e que, ao estabelecer-se o equilíbrio, a ação efetuada nos extremos, sobre cada mão, tenha um componente horizontal igual a 2P.

Admite-se que as barras AB e ED possam girar livremente ao redor dos extremos fixos A e E e que não haja atrito nas articulações.

Calcular o ângulo  $\alpha$  que a barra DE forma com a horizontal.

SOLUÇÃO

$$\sum \tau_D = 0$$

$$2l \cdot 2l \cos \alpha - l \cdot l \cos \alpha - 2l \cdot 2l \sin \alpha = 0$$

$$3 \cos \alpha = 4 \sin \alpha$$

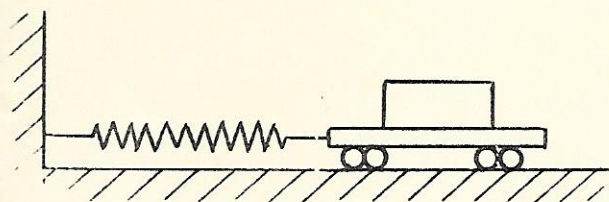
$$\operatorname{tg} \alpha = \frac{3}{4}$$

$$\alpha = \operatorname{arc} \operatorname{tg} \frac{3}{4}$$

## 2a. QUESTÃO

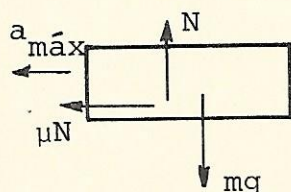
VALOR: 1,0

Da figura abaixo, sabem-se:



- (i) a mola tem constante elástica  $k = 1000 \text{ N/m}$ ;
- (ii) as massas do carrinho e do bloco são respectivamente  $1,0 \text{ kg}$  e  $9,0 \text{ kg}$ . A massa da mola é desprezível;
- (iii) o coeficiente de atrito entre o bloco e o carrinho vale  $0,5$  e os demais atritos são desprezíveis.

Determinar a maior amplitude de oscilação possível para o sistema sem que o bloco deslize sobre o carrinho.

SOLUÇÃO

$$\mu mg = m a_{\text{máx}}$$

$$a_{\text{máx}} = \mu g \quad (1)$$

$$a_{\text{máx}} = \omega^2 A$$

$$\omega^2 = \frac{k}{m}$$

$$a_{\text{máx}} = \frac{K}{M} A \quad (2)$$

$$\frac{K}{M} A = \mu g$$

$$A = \frac{\mu M g}{K}$$

$$A = \frac{0,5 \cdot 10 \cdot 9,8}{1\ 000} = 0,049 \text{ m}$$

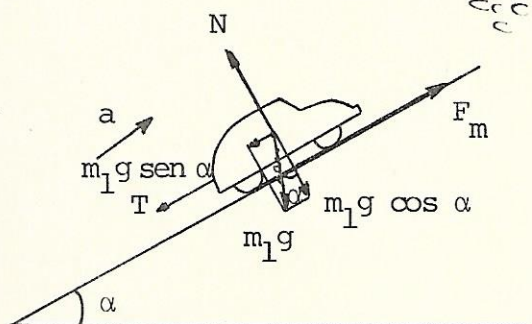
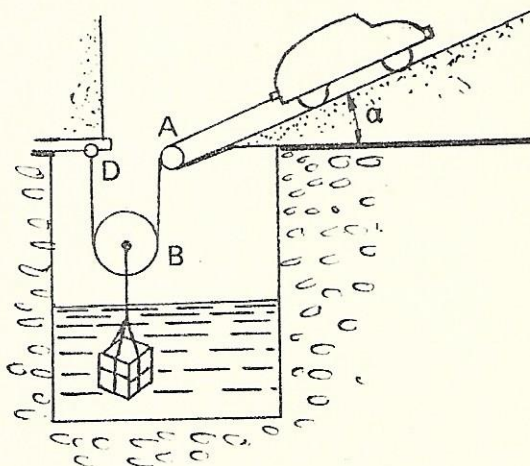
$$A \approx 0,05 \text{ m}$$



3a. QUESTÃO

VALOR: 1,0

O automóvel de massa  $m_1$ , representado na figura, está subindo a rampa de inclinação  $\alpha$  com uma aceleração constante. Preso ao automóvel existe um cabo de massa desprezível o qual passa por uma roldana fixa A e por uma roldana móvel B, ambas de massa desprezível, tendo finalmente a outra extremidade fixa em D. Ao eixo da roldana móvel, cujos fios são paralelos, está presa uma caixa cúbica de volume  $v$  e massa  $m_2$  imersa em um líquido de massa específica  $\rho$ . Sabendo-se que o automóvel, partindo do repouso, percorreu um espaço  $e$  em um intervalo de tempo  $t$  e que a caixa permaneceu inteiramente submersa neste período, calcular a força desenvolvida pelo conjunto motor do automóvel. Desprezar a resistência oferecida pelo líquido ao deslocamento da caixa.



SOLUÇÃO

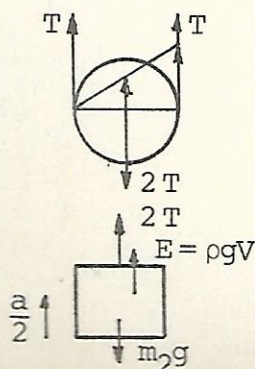
$$F_m = \frac{m_2 a}{4} + \frac{m_2 g}{2} - \frac{\rho g V}{2} + m_1 g \sin \alpha + m_1 a$$

$$e = \frac{1}{2} a t^2 \Rightarrow a = \frac{2e}{t^2}$$

$$F_m = \frac{2e}{t^2} \left( m_1 + \frac{m_2}{4} \right) + g \left( \frac{m_2}{2} + m_1 \sin \alpha \right) - \rho g \frac{V}{2}$$

$$F_m - T - m_1 g \sin \alpha = m_1 a$$

$$F_m = T + m_1 g \sin \alpha + m_1 a$$



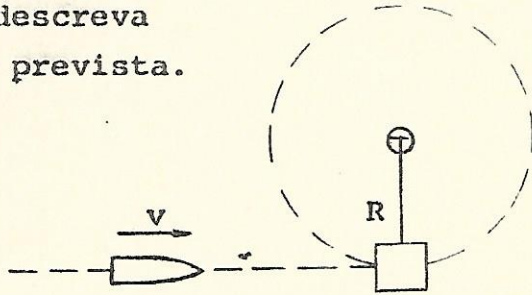
$$2 T + \rho g V - m_2 g = m_2 \frac{a}{2}$$

$$T = \frac{m_2 a}{4} - \rho g \frac{V}{2} - \frac{m_2 g}{2}$$

## 4a. QUESTÃO

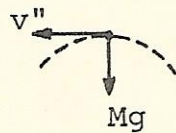
VALOR: 1,0

Um projétil de massa  $m$ , com velocidade  $v$ , choca-se com o bloco de massa  $M$ , suspenso por um fio de comprimento  $R$ , conforme mostra a figura. Depois da colisão, o projétil cai verticalmente e o bloco descreve uma circunferência completa, no plano vertical. Determinar a velocidade mínima do projétil, antes da colisão, em função de  $M$ ,  $m$ ,  $g$  e  $R$ , para que o bloco descreva a trajetória prevista.

SOLUÇÃO

$$mv = Mv'$$

$$v' = \frac{m}{M} v$$



$$Mg = M \frac{v''^2}{R}$$

$$v'' = \sqrt{gR}$$

$$\frac{1}{2} M \left( \frac{m}{M} v \right)^2 = Mg \cdot 2R + \frac{1}{2} MgR$$

$$\frac{m^2}{M^2} v^2 = 4gR + gR = 5gR$$

$$v = \frac{M}{m} \sqrt{5gR}$$

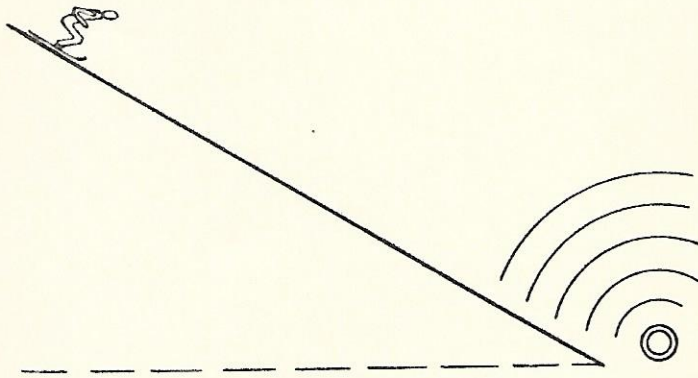


## 5a. QUESTÃO

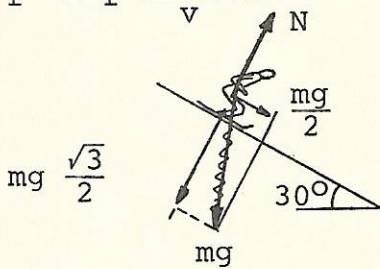
VALOR: 1,0

Um esquiador desce uma rampa inclinada de  $30^\circ$ , como na figura, enquanto ouve o som de uma sirene, colocada na base da rampa, que emite som puro de 400 Hz. Sabe-se, ainda, que a velocidade do som no ar vale 340 m/s,

que o esquiador parte do repouso e não usa os impulsores. Desprezar o atrito e a resistência do ar. Esta belecer a expressão da frequência do som ouvido pelo esquiador como uma função da distância deste ao ponto de partida.

SOLUÇÃO

$$f' = f \frac{v + v_o}{v}$$



$$\frac{mg}{2} = ma$$

$$a = \frac{g}{2}$$

$$v_o^2 = 2 a d$$

$$v_o = \sqrt{gd}$$

$$f' = 400 \frac{340 + \sqrt{9,8 d}}{340}$$

$$f' = 400 + 1,18 \cdot \sqrt{9,8 d} \sqrt{d}$$

$$f' = 400 + 3,69\sqrt{d}$$

## 6a. QUESTÃO

Em uma experiência, um mol de eteno a  $20^{\circ}\text{C}$  e 1 atm é misturado com a quantidade estequiométrica de ar de combustão ( $\text{O}_2 + 3,76\text{N}_2$ ) a  $100^{\circ}\text{C}$  e 1 atm.

Depois de haver sido atingida a temperatura de equilíbrio, a mistura eteno-ar é queimada, produzindo gás carbônico, água e nitrogênio.

Considerando que na condição de equilíbrio de temperatura, antes da combustão, a mistura eteno-ar pode ser considerada como gás perfeito, determinar:

- 1) a temperatura de equilíbrio da mistura eteno-ar;
- 2) o volume da mistura eteno-ar, após atingida a temperatura de equilíbrio, estando a pressão da mistura a 1 atm.

DADOS:

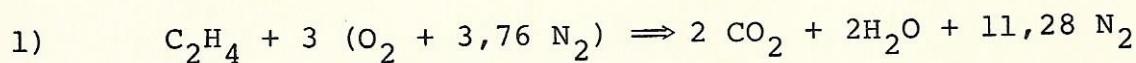
Massa molecular do ar ( $\text{O}_2 + 3,76\text{N}_2$ ) = 29

Massa molecular do eteno = 28

Calor específico do ar ( $\text{O}_2 + 3,76\text{N}_2$ ) =  $0,24 \text{ cal/g} \cdot ^{\circ}\text{C}$

Calor específico do eteno =  $0,36 \text{ cal/g} \cdot ^{\circ}\text{C}$

Constante universal dos gases =  $0,082 \text{ atm} \cdot \ell/\text{gmol} \cdot \text{K}$

SOLUÇÃO

$$Q_{\text{PERDIDO}} = Q_{\text{GANHO}}$$

AR                      ETENO

$$3 \cdot 29 \cdot 0,24(100 - \theta) = 1 \cdot 28 \cdot 0,36(\theta - 20)$$

$$2.088 - 20,88 \theta = 10,08 \theta - 201,6$$

$$30,96 \theta = 2.289,6$$

$$\theta \cong 74^{\circ}\text{C}$$

$$2) \quad pV = nRT$$

$$1 \times V = 15,28 \cdot 0,082 \cdot 347$$

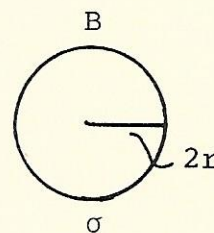
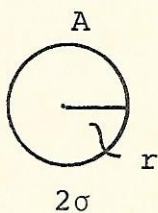
$$V = 434,8 \ell$$



## 7a. QUESTÃO

VALOR: 1,0

Duas esferas condutoras A e B de raios  $r$  e  $2r$ , respectivamente, estão isoladas e muito distantes uma da outra. As cargas das duas esferas são de mesmo sinal e a densidade superficial de carga da primeira é igual ao dobro da segunda. As duas esferas são interligadas por um fio condutor. Dizer se uma corrente elétrica se estabelece no fio e, em caso afirmativo, qual o sentido da corrente. Justificar a resposta, em qualquer caso.

SOLUÇÃO

$$\left. \begin{array}{l} V = K_0 \frac{Q}{R} \\ Q = 4\pi R^2 \sigma \end{array} \right\} V = 4\pi R^2 \sigma \frac{K_0}{R} \Rightarrow V = 4\pi K_0 \sigma R$$

$$V_A = 4\pi K_0 2\sigma r = 8\pi K_0 \sigma r$$

$$V_B = 4\pi K_0 \sigma 2r = 8\pi K_0 \sigma r$$

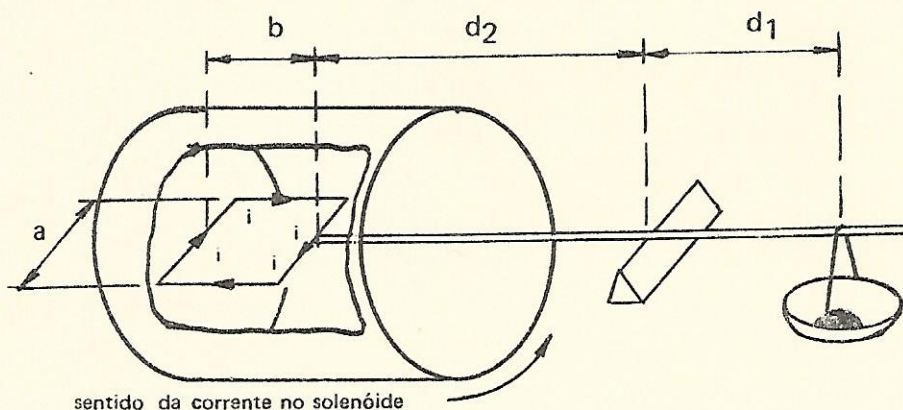
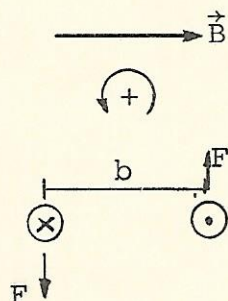
$$V_A = V_B \Rightarrow \text{NÃO HAVERÁ CORRENTE.}$$



## 8a. QUESTÃO

VALOR: 1,0

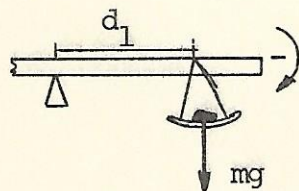
No interior de um solenóide longo, onde existe um campo de indução magnética  $B$  uniforme e axial, coloca-se uma espira retangular de largura  $a$  e comprimento  $b$ , em posição horizontal, ligada rigidamente a uma balança de braços  $d_1$  e  $d_2$ . Quando não circula corrente na espira, a balança está em equilíbrio. Ao fazer-se passar pela espira uma corrente  $i$ , obtem-se o equilíbrio da balança, colocando-se no prato a massa  $m$ . Determinar o campo de indução magnética  $B$  no interior do solenóide.

SOLUÇÃO

$$\vec{F} = i\vec{a} \times \vec{B}$$

$$F = iaB$$

$$\tau_{\text{BIN}} = iabB$$



$$\tau_{\text{PESO}} = mgd_1$$

$$\tau_{\text{BIN}} - \tau_{\text{PESO}} = 0$$

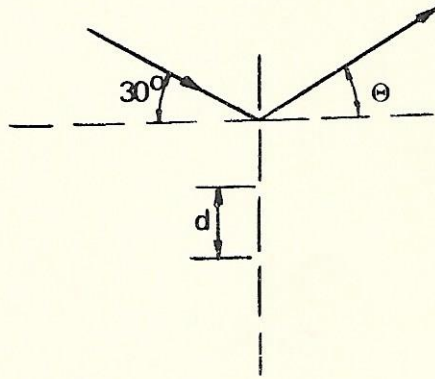
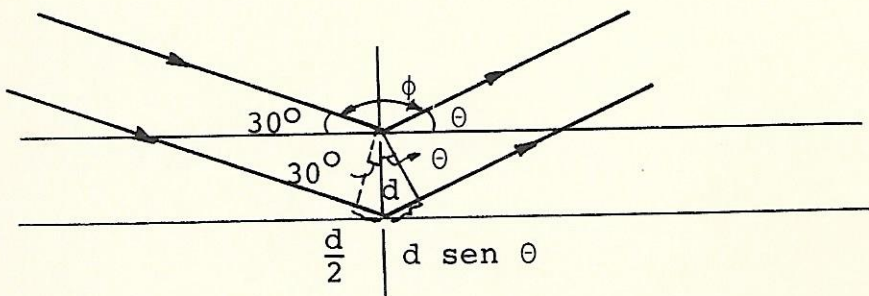
$$iabB = mgd_1$$

$$B = \frac{mgd_1}{iab}$$



## 9a. QUESTÃO

Numa rede de difração, que tem 500 fendas por milímetro, incide uma onda plana monocromática de comprimento de onda igual a  $5 \times 10^{-7}$  m. Determinar a maior ordem do espectro K que poderá ser observado pela incidência de raios, conforme mostra a figura abaixo.

SOLUÇÃO

$$d \sin \theta + \frac{d}{2} = m\lambda$$

$$\phi_{\min} = 90^\circ \Rightarrow \theta_{\max} = 60^\circ$$

$$d \frac{(\sqrt{3} + 1)}{2} = m\lambda \Rightarrow m = \frac{d}{2\lambda} (\sqrt{3} + 1)$$

$$m = \frac{10^{-3}}{500} \cdot 2,73 \Rightarrow m = \frac{2 \cdot 10^{-6} \cdot 2,73}{10^{-6}} = 5,46$$

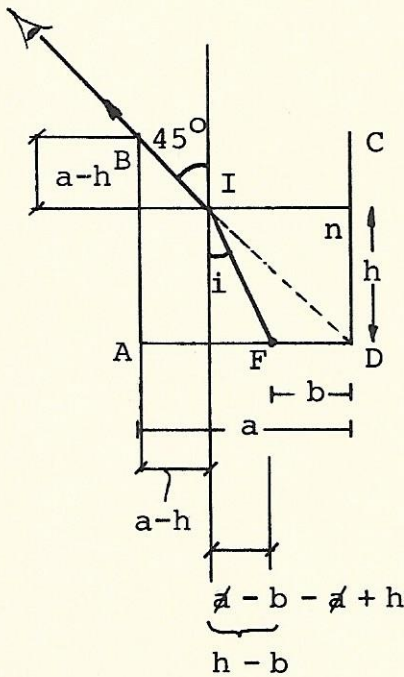
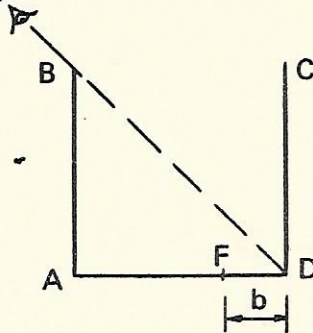
$m = 5$



## 10a. QUESTÃO

VALOR: 1,0

Um recipiente cúbico, com paredes opacas, é colocado de tal modo que o olho de um observador não vê seu fundo, mas vê integralmente a parede CD, conforme a figura abaixo. Determinar o volume de água que é necessário colocar no recipiente, para que um observador possa ver um objeto F que se encontra a uma distância  $b$  do vértice D. A aresta do cubo é  $a$  e o índice de refração da água é  $n$ . Dar a resposta em função de  $b$ ,  $a$ ,  $n$  e  $\text{sen } i$ , sendo  $i$  o ângulo de incidência.

SOLUÇÃO

$$\text{tg } i = \frac{h - b}{h}$$

$$\text{tg } i = \frac{\text{sen } i}{\sqrt{1 - \text{sen}^2 i}}$$

$$\frac{h - b}{h} = \frac{\text{sen } i}{\sqrt{1 - \text{sen}^2 i}}$$

$$h \text{ sen } i = h \sqrt{1 - \text{sen}^2 i} - b \sqrt{1 - \text{sen}^2 i}$$

$$b \sqrt{1 - \text{sen}^2 i} = h (\sqrt{1 - \text{sen}^2 i} - \text{sen } i)$$

$$h = \frac{b \sqrt{1 - \text{sen}^2 i}}{\sqrt{1 - \text{sen}^2 i} - \text{sen } i}$$

$$V = \frac{a^2 b \sqrt{1 - \text{sen}^2 i}}{\sqrt{1 - \text{sen}^2 i} - \text{sen } i}$$

Como  $\frac{\text{sen } i}{\text{sen } 45} = \frac{1}{n} = \frac{\sqrt{2}}{2n}$

$$V = \frac{a^2 b \sqrt{1 - 1/2n^2}}{\sqrt{1 - 1/2n^2} - \sqrt{2}/2n} \Rightarrow$$

$$V = \frac{a^2 b \sqrt{2n^2 - 1}}{\sqrt{2n^2 - 1} - 1}$$



SOMA

1	2	3	4	5

6	7	8	9	10

11	12	13	14	15

16	17	18	19	20

21	22	23	24	25

TOTAL:
