

1ª QUESTÃO:

ITEM ÚNICO

Valor: 0,5'

ENUNCIADO: O eletrônvolt (eV) é uma unidade de energia muito útil para fins teóricos. Um eV é a energia adquirida por um elétron que se desloca através de uma diferença de potencial de um volt, ou seja, $1 \text{ eV} = 1,6 \times 10^{-19}$ joules.

a) Suponha que fosse escolhido um sistema de unidades que tivesse:

- o eV como unidade de energia;
- o comprimento de onda Compton do elétron, λ , como unidade de comprimento; sabe-se que $\lambda = \frac{h}{c \cdot m_e}$, onde h é a constante de Planck ($6,63 \times 10^{-34}$ J.s), c é a velocidade da luz no vácuo (3×10^8 m/s) e m_e a massa do elétron ($9,1 \times 10^{-31}$ kg);
- a massa m_e do elétron como unidade de massa.

Quais seriam os valores, em termos de unidades do Sistema Internacional, das unidades de tempo, velocidade e força no novo sistema?

b) Se se adotasse a carga do elétron ($1,6 \times 10^{-19}$ C) como unidade de carga, qual seria, no sistema do item anterior, o valor da constante K da Lei de Coulomb?

SOLUÇÃO

$$\lambda = \frac{h}{c \cdot m_e} = \frac{6,63 \times 10^{-34}}{3 \times 10^8 \times 9,1 \times 10^{-31}} = 2,4 \times 10^{-12} \text{ m}$$

$$a) [W] = [M][L]^2[T]^{-2} \Rightarrow [T] = [L][M]^{\frac{1}{2}} \cdot [W]^{-\frac{1}{2}}$$

$$\text{Unidade de tempo: } 1(\text{uT}) = 1\lambda \sqrt{\frac{1 \cdot m_e}{1 \text{ eV}}} = 2,4 \times 10^{-12} \sqrt{\frac{9,1 \times 10^{-31}}{1,6 \times 10^{-19}}} = 5,74 \times 10^{-18} \text{ s}$$

$$[v] = [L][T]^{-1}$$

$$\text{Unidade de velocidade: } 1(\text{uv}) = \frac{1\lambda}{1(\text{uT})} = \frac{2,4 \times 10^{-12}}{5,74 \times 10^{-18}} = 4,2 \times 10^5 \text{ m/s}$$

$$[W] = [F][L] \Rightarrow [F] = [W][L]^{-1}$$

$$\text{Unidade de força: } 1(\text{uF}) = \frac{1 \text{ eV}}{1\lambda} = \frac{1,6 \times 10^{-19}}{2,4 \times 10^{-12}} = 6,7 \times 10^{-8} \text{ N}$$

$$b) K = 9 \times 10^9 \frac{\text{Nm}^2}{\text{C}^2} = 9 \times 10^9 \frac{1}{\frac{1}{6,7 \times 10^{-8}} \cdot \left(\frac{1}{2,4 \times 10^{-12}}\right)^2} = \frac{9 \times 10^9 \times 2,56 \times 10^{-38}}{6,7 \times 10^{-8} \times 5,76 \times 10^{-24}}$$

$$K = 600 \frac{(\text{uF}) \lambda^2}{e^2}$$

2ª QUESTÃO:

ITEM ÚNICO

Valor: 0,5

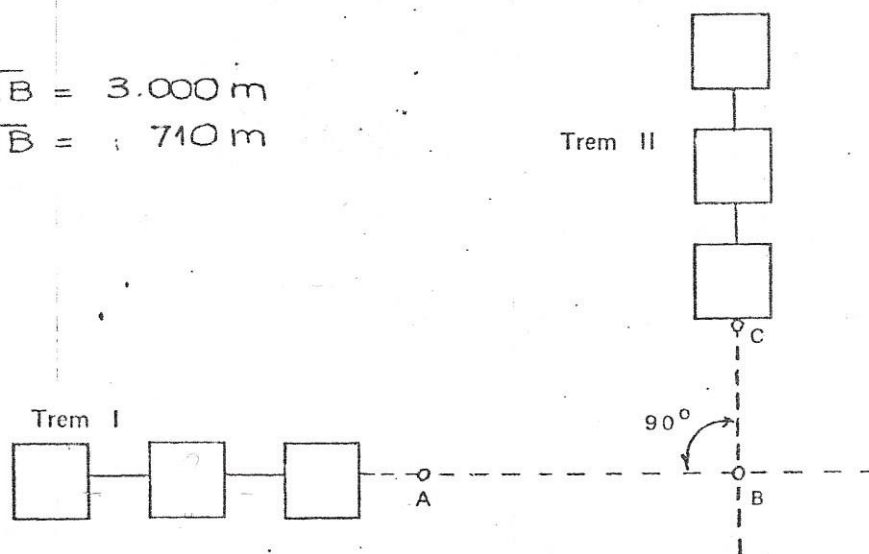
ENUNCIADO: O trem I desloca-se em linha reta, com velocidade constante de 54 km/h, aproximando-se do ponto B, como mostra a figura. Determine ^{em} quanto tempo, após a locomotiva do trem I atingir o ponto A, deve o trem II partir do repouso em C, com aceleração constante de $0,2 \text{ m/s}^2$, de forma que, 10 segundos após terminar a sua passagem pelo ponto B, o trem I inicie a passagem pelo mesmo ponto.

NOTAS:

- 1) Ambos os trens medem 100 metros de comprimento, incluindo suas locomotivas, que viajam à frente.
- 2) As distâncias ao ponto B são:

$$\overline{AB} = 3.000 \text{ m}$$

$$\overline{CB} = 710 \text{ m}$$

SOLUÇÃO

$$v_I = \frac{54}{3,6} = 15 \text{ m/s}$$

- 1) Tempo de viagem, de A a B, do trem I, $(\Delta t)_I$:

$$(\Delta t)_I = \frac{3000}{15} = 200 \text{ s}$$

- 2) Tempo de viagem de II:

$$(\Delta t)_{II}^2 = \frac{2(710+100)}{0,2} = 8100 \Rightarrow (\Delta t)_{II} = \pm 90 \text{ s}$$

- 3) Trem I em A em $t=0$

Trem II parte de C em $t=t_0$

$$(\Delta t)_I = t_0 + (\Delta t)_{II} + 10$$

$$t_0 = 200 \mp 90 - 10 \quad \begin{cases} t_0 = \cancel{280} \text{ s } [t < (\Delta t)_I] \\ t_0 = 100 \text{ s} \end{cases}$$

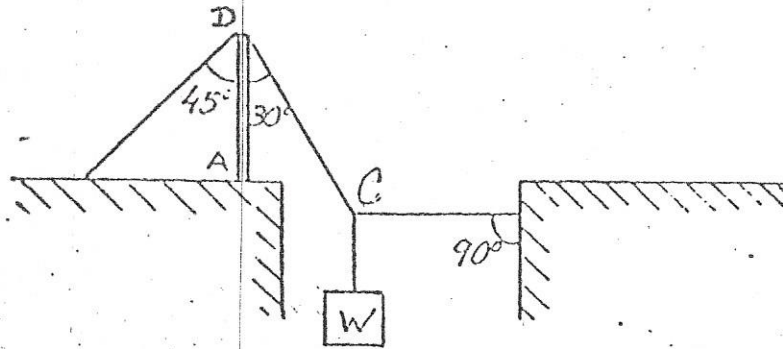
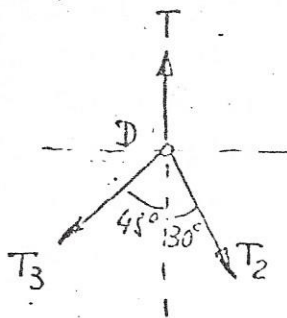
$$t_0 = 100 \text{ s}$$

3ª QUESTÃO:

ITEM ÚNICO

Valor: 0,5

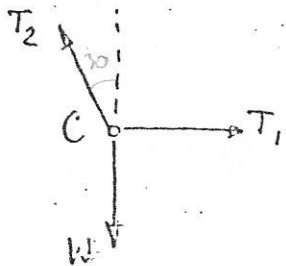
ENUNCIADO: Considerando a figura, determine a expressão, em função do peso W , da força vertical exercida pelo solo sobre a barra AD.

SOLUÇÃO

$$W = T_2 \cos 30^\circ = \frac{T_2 \sqrt{3}}{2} \quad \text{-----} \quad (1)$$

$$T - T_2 \cos 30^\circ - T_3 \cos 45^\circ = 0 \quad \text{-----} \quad (2)$$

$$T_2 \sin 30^\circ - T_3 \sin 45^\circ = 0 \quad \text{-----} \quad (3)$$



$$1 \rightarrow T_2 = \frac{2W}{\sqrt{3}}$$

$$2 \text{ --- } T - W - \frac{T_3 \sqrt{2}}{2} = 0 \quad \text{-----} \quad (4)$$

$$3 \text{ --- } \frac{2W}{\sqrt{3}} \cdot \frac{1}{2} - \frac{T_3 \sqrt{2}}{2} = 0 \quad \text{-----} \quad (5)$$

$$4 \text{ --- } 5 \text{ ----- } T - W - \frac{W\sqrt{3}}{3} = 0$$

$$T = W \left(1 + \frac{\sqrt{3}}{3} \right)$$

4ª QUESTÃO:

ITEM ÚNICO

Valor: 0,5

ENUNCIADO: Uma bola de aço, com massa de 0,02 kg, colide verticalmente contra um bloco de aço, fixo ao solo, atingindo-o com velocidade de 20 m/s. Sendo 0,8 o coeficiente de restituição, calcule a altura atingida pela bola após a colisão.

Use $g = 10 \text{ m/s}^2$.

SOLUÇÃO

Como o bloco não se move, chamando de v_1 e v_2 as velocidades da bola antes e depois da colisão:

$$e = \frac{v_2}{v_1} \rightarrow v_2 = e v_1$$

$$v_2 = 0,8 \times 20 = 16 \text{ m/s}$$

$$v_2^2 = 2gh$$

$$h = \frac{v_2^2}{2g} = \frac{256}{2 \times 10}$$

$$h = 12,8 \text{ m}$$

5ª QUESTÃO:

ITEM ÚNICO

Valor: 0,5

ENUNCIADO: Um corpo com 10 kg de massa desloca-se em linha reta sobre um plano horizontal, sem atrito, com velocidade de 10 m/s. Uma força constante, com direção e sentido iguais aos do movimento, é, então, aplicada ao corpo durante 4 segundos, fazendo com que o momento linear do corpo aumente de 100 m.kg/s. Determine o módulo da força.

SOLUÇÃO

Como F é constante,

$$\vec{F} \cdot \Delta t = \Delta p$$

$$F = \frac{\Delta p}{\Delta t} = \frac{100}{4} = 25$$

$$F = 25 \text{ N}$$

6ª QUESTÃO:

ITEM ÚNICO

Valor: 0,5

ENUNCIADO: Um tanque cúbico, com 2 metros de aresta, tem, em sua face superior, um orifício por onde sai uma tubulação vertical de 100 cm² de seção reta, com extremidade aberta. Introduce-se água até encher completamente o tanque e, ainda, atingir altura de 3 metros na tubulação. Calcule, em kgf, a parcela, devida à pressão manométrica, da força exercida sobre a superfície interna de cada face do tanque.

SOLUÇÃOFundo:

$$F_1 = p_1 \cdot A = \gamma h_1 \cdot A = 10^3 (3+2) 2^2 = 2 \times 10^4 \text{ kgf}$$

Superior:

$$F_2 = p_2 \cdot A = \gamma h_2 \cdot A = 10^3 \times 3 \times 2^2 = 1,2 \times 10^4 \text{ kgf}$$

Qualquer lateral:

$$F_3 = \frac{p_1 + p_2}{2} \cdot A = \frac{p_1 A + p_2 A}{2} = \frac{F_1 + F_2}{2} = 1,6 \times 10^4 \text{ kgf}$$

7ª QUESTÃO:

ITEM ÚNICO

Valor: 0,5

ENUNCIADO: Uma corda metálica com 120 gramas de massa mede 30 cm. Calcule o valor da tensão a ser estabelecida nesta corda a fim de afiná-la para o dó médio (262 Hz).

SOLUÇÃO

$$v = \sqrt{\frac{F}{\mu}} \Rightarrow F = \mu v^2$$

$$\mu = \frac{m}{\ell}$$

$$v = \lambda f$$

Na frequência fundamental de oscilação,

$$\ell = \frac{\lambda}{2} \quad \text{ou} \quad \lambda = 2 \ell$$

$$v = 2 \ell f$$

$$F = \frac{m}{\ell} \cdot 4 \ell^2 f^2 \quad \text{ou} \quad F = 4 m \ell f^2$$

$$f = \frac{mv}{2\ell}$$

$$f = \frac{v}{2\ell}$$

$$\ell = \frac{v}{2f}$$

CGS:

$$F = 4 \times 120 \times 30 \times 262^2 = 9,88 \times 10^8 \text{ dyna}$$

MKS:

$$F = 4 \times 0,12 \times 0,3 \times 262^2 = 9,88 \times 10^3 \text{ N}$$

8ª QUESTÃO:

ITEM ÚNICO

Valor: 0,5

ENUNCIADO: 200 m³ de um gás considerado perfeito, cuja razão de calores específicos a pressão constante e a volume constante é 1,4, é aquecido, à pressão constante de 10⁵ N/m², de 20°C até 300°C. Sendo Cr\$ 0,50 o preço do kwh e admitindo que todo o calor produzido seja aproveitado no processo, calcule o custo do aquecimento.

SOLUÇÃO

$$Q = n C_p \Delta T$$

$$n = n^\circ \text{ de moles}$$

$$C_p = \text{calor específico molar}$$

$$\Delta T = \text{variação de temperatura}$$

$$pV = n RT \quad R = 8,31 \text{ J/mol.K}$$

Das condições iniciais:

$$n = \frac{10^5 \times 2 \times 10^2}{8,31 \times 293} = 8,2 \times 10^3 \text{ moles}$$

$$C_p = C_v + R \rightarrow C_p = \frac{C_p}{1,4} + R$$

$$C_p = 29,1 \text{ J/mol.K}$$

$$Q = 8,2 \times 10^3 \times 29,1 \times 280 = 66,8 \times 10^6 \text{ J}$$

$$1 \text{ kWh} = 10^3 \times 3600 \text{ J} = 3,6 \times 10^6 \text{ J}$$

$$Q = \frac{66,8 \times 10^6}{3,6 \times 10^6} = 18,7 \text{ kWh}$$

$$\text{Custo} = 0,5 \times 18,7 = 9,35$$

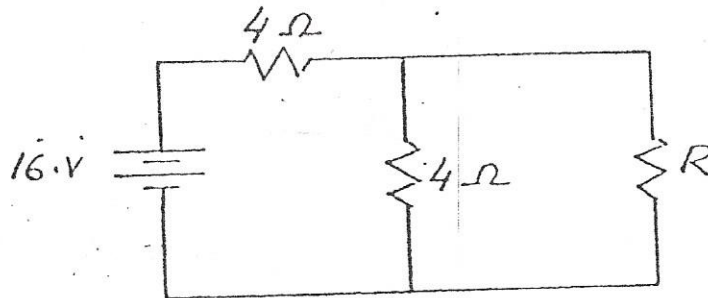
$$\text{Custo} = \text{Cr\$ } 9,35$$

9ª QUESTÃO:

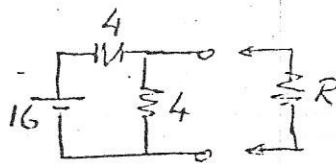
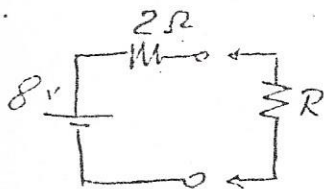
ITEM ÚNICO

Valor: 0,5

ENUNCIADO: No circuito da figura, determine a resistência do resistor R para que a potência nele consumida seja máxima.



1ª Solução: Thévenin:



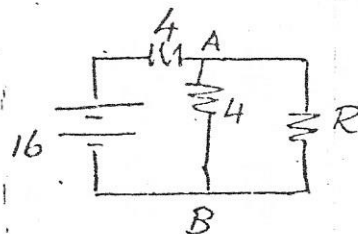
$$V_{Th} = \frac{4}{4+4} \cdot 16 = 8 \text{ V}$$

$$R_{Th} = \frac{4+4}{4+4} = 2\Omega$$

Máxima potência em R →

$$R = 2\Omega$$

2ª Solução:



$$V_{AB} = \frac{4R}{4+R} \cdot \frac{16}{4 + \frac{4R}{4+R}} = \frac{4R}{4+R} \cdot \frac{16(4+R)}{16+8R} = \frac{8R}{R+2}$$

$$P = \frac{V_{AB}^2}{R} = \frac{1}{R} \cdot \frac{64R^2}{(R+2)^2} = \frac{64R}{R^2+4R+4}$$

$$\frac{dP}{dR} = \frac{(R^2+4R+4) \times 64 - 64R(2R+4)}{(R^2+4R+4)^2} = 64 \cdot \frac{4 - R^2}{(R^2+4R+4)^2}$$

$$\frac{dP}{dR} = 0 \quad \rightarrow \quad R^2 = 4 \quad \text{ou} \quad R = \pm 2$$

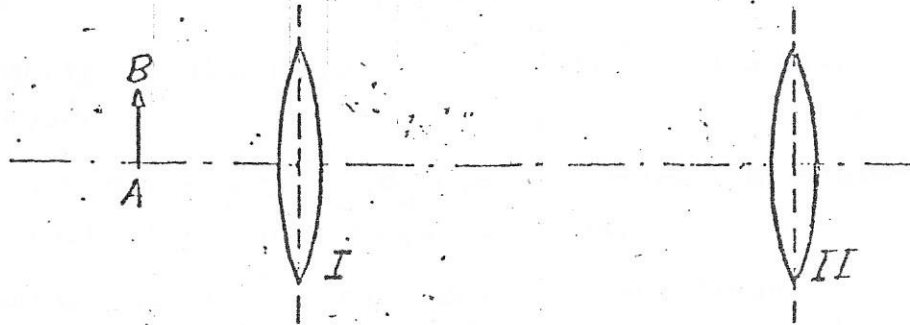
$$R = 2\Omega$$

10ª QUESTÃO:

ITEM ÚNICO

Valor: 0,5

ENUNCIADO: Um sistema óptico é formado de duas lentes positivas I e II, de distâncias focais 10 cm e 15 cm, com eixos óticos coincidentes e separadas de 60 cm. Determine a localização da imagem final de um objeto AB colocado a 20 cm da lente I e a amplificação total do sistema.

SOLUÇÃO

$$1) \quad \frac{1}{f} = \frac{1}{s} + \frac{1}{s'}$$

$$\frac{1}{10} = \frac{1}{20} + \frac{1}{s'_1} \rightarrow s'_1 = 20 \text{ cm}$$

$$s_2 = 60 - 20 = 40 \text{ cm}$$

$$\frac{1}{15} = \frac{1}{40} + \frac{1}{s'_2} \rightarrow s'_2 = 24 \text{ cm}$$

$$2) \quad A = A_1 \cdot A_2 \quad A_1 = \frac{s'_1}{s_1} = \frac{20}{20} = 1$$

$$A_2 = \frac{s'_2}{s_2} = \frac{24}{40} = 0,6$$

$$A = 1 \times 0,6 = 0,6$$

$$A = 0,6$$