

MINISTÉRIO DA MARINHA  
 ESCOLA NAVAL  
 SUPERINTENDÊNCIA DE ENSINO

CONCURSO DE ADMISSÃO - 1990/1991

PROVA DE MATEMÁTICA

INSTRUÇÕES

- 1 - Este Caderno de Prova é composto de 25 questões, todas de igual valor.
- 2 - Além deste Caderno de Prova, cada candidato receberá um CARTÃO DE RESPOSTAS com tarja vermelha, para ser processado em computador.
- 3 - É proibido ter em seu poder livros, cadernos, papéis, bolsas, calculadoras eletrônicas, relógio com calculadora e régua de cálculo, durante a realização da prova.
- 4 - Só comece a responder às questões ao ser dada ordem para iniciar a prova.
- 5 - O tempo disponível para a resolução das questões e perfuração do CARTÃO DE RESPOSTAS é de 3 horas. Após decorridos 30 minutos do início da prova, o candidato que terminar poderá retirar-se.
- 6 - O candidato deverá ter o máximo cuidado para não cometer erros na perfuração do CARTÃO DE RESPOSTAS. Mais de uma resposta perfurada num mesmo item o tornará inválido.
- 7 - Recomenda-se ao candidato que NÃO DOBRE ou DANIFIQUE O CARTÃO DE RESPOSTAS para que não seja rejeitado por ocasião da correção no computador.
- 8 - Escreva seu nome (legível), assine, coloque o número de inscrição e perfure-o no CARTÃO DE RESPOSTAS, conforme o modelo abaixo.

0 0 6 4 1 6						NOME <u>JOSE SILVA SILVEIRA</u>																									
INSCRIÇÃO						QUESTÕES																									
						1	2	3	4	5	6	7	8	9	10	11	12	13	14	15	16	17	18	19	20	21	22	23	24	25	
						A	A	A	A	A	A	A	A	A	A	A	A	A	A	A	A	A	A	A	A	A	A	A	A	A	A
						B	B	B	B	B	B	B	B	B	B	B	B	B	B	B	B	B	B	B	B	B	B	B	B	B	B
						C	C	C	C	C	C	C	C	C	C	C	C	C	C	C	C	C	C	C	C	C	C	C	C	C	C
						D	D	D	D	D	D	D	D	D	D	D	D	D	D	D	D	D	D	D	D	D	D	D	D	D	D
						E	E	E	E	E	E	E	E	E	E	E	E	E	E	E	E	E	E	E	E	E	E	E	E	E	
						A	A	A	A	A	A	A	A	A	A	A	A	A	A	A	A	A	A	A	A	A	A	A	A	A	A
						B	B	B	B	B	B	B	B	B	B	B	B	B	B	B	B	B	B	B	B	B	B	B	B	B	B
						C	C	C	C	C	C	C	C	C	C	C	C	C	C	C	C	C	C	C	C	C	C	C	C	C	C
						D	D	D	D	D	D	D	D	D	D	D	D	D	D	D	D	D	D	D	D	D	D	D	D	D	D
						E	E	E	E	E	E	E	E	E	E	E	E	E	E	E	E	E	E	E	E	E	E	E	E	E	E

MINISTÉRIO DA MARINHA

Assinatura: *Jose Silva Silveira*

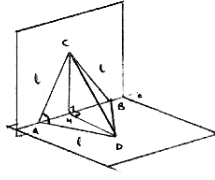
1. Se  $\sin x + \cos x = \frac{1}{2}$  então  $\sin 2x$  é igual a:

- (A)  $\frac{-1 - \sqrt{7}}{4}$   $(\sin x + \cos x)^2 = \frac{1}{4}$   
 (B)  $\frac{1 - \sqrt{7}}{2}$   $\sin^2 x + 2\sin x \cos x + \cos^2 x = \frac{1}{4}$   
 (C)  $\frac{-1 + \sqrt{7}}{2}$   $\sin 2x = \frac{1}{4} - 1$   
 (D)  $\frac{1 + \sqrt{7}}{4}$   $\sin 2x = \frac{-3}{4}$   
 (E)  $\frac{-3}{4}$

2. A equação  $\sec^3 x - 2 \operatorname{tg}^2 x = 2$ , no intervalo  $[0, 2\pi]$ :

- (A) não possui solução.  $\sec^2 x = 2 + 2 \operatorname{tg}^2 x$   
 (B) possui uma solução.  $= 2(1 + \operatorname{tg}^2 x) = 2 \sec^2 x$   
 (C) possui duas soluções.  $\frac{1}{\cos^2 x} = 2 \quad \cos x = \frac{1}{\sqrt{2}} \Rightarrow \left\{ \frac{\pi}{4}, \frac{3\pi}{4} \right\}$   
 (D) possui três soluções.  
 (E) possui quatro soluções.

3. Os triângulos ABC e ABD são equiláteros e estão situados em planos perpendiculares. O  $\cos \widehat{CAD}$  é igual a:

- (A)  $\frac{1}{2}$   
 (B)  $\frac{1}{4}$   
 (C)  $\frac{1}{6}$   
 (D)  $\frac{1}{8}$   
 (E)  $\frac{1}{\sqrt{6}}$
- 
- $CM = DM = \frac{\sqrt{3}}{2}$   
 $CD = \frac{\sqrt{3}}{2} \cdot \sqrt{2} = \frac{\sqrt{6}}{2}$   
 $\left(\frac{\sqrt{6}}{2}\right)^2 = \left(\frac{\sqrt{3}}{2}\right)^2 + \left(\frac{\sqrt{3}}{2}\right)^2 - 2 \cdot \frac{\sqrt{3}}{2} \cdot \frac{\sqrt{3}}{2} \cdot \cos \theta$   
 $2 \cos \theta = 2 - \frac{6}{4} = \frac{1}{2}$   
 $\cos \theta = \frac{1}{4}$

4. Escrevem-se os inteiros positivos em ordem crescente 12345678910111213..... O 1991º algarismo escrito é:

- (A) 0  
 (B) 1  
 (C) 3  
 (D) 4  
 (E) 5

Nº de 1 algarismo: 9

usam-se 9 algs → restam 1892

Nº de 2 algarismos: 90

usam-se 180 algs → restam 1802

Nº de 3 algarismos: 900

usam-se 2700 algs

1802 = 3 × 600 + 2 → n₁ = 100 + 600 = 700

5. O valor de m para o qual 1 é raiz dupla do polinômio  $P(x) = x^{10} - mx^5 + m - 1$  é:

- (A) 1  $P(1) = 1 - m + m - 1 = 0 \quad (\forall m, m \in \mathbb{R})$   
 (B) 2  $P'(x) = 10x^9 - 5$   
 (C) 3  
 (D) 4  
 (E) 5  $P'(1) = 10 - 5m = 0 \quad m = 2$

6. O lugar geométrico das imagens do complexo  $z^2$  quando o complexo  $z = x + yi$  ( $x$  e  $y$  reais) descreve a reta  $x = 2$  é:

- (A) a reta  $x = 4$ .  $z = x + yi \quad z^2 = 4 - y^2$   
 (B) um círculo.  $x = 2 \quad \beta = 4y \rightarrow y = \frac{\beta}{4}$   
 (C) uma elipse.  $z = 2 + yi \quad \alpha = 4 - \frac{\beta^2}{16} \quad z^2 = \alpha + \beta i \quad z^2 \in P: y^2 = -16(x-4)$   
 (D) uma hipérbole.  $z^2 = 4 - 4y^2 + yi^2 \quad z^2 = 4 - 4y^2 - y^2 = 4 - 5y^2$   
 (E) uma parábola.  $z^2 = 4 - y^2 + 4yi = \alpha + \beta i \quad \beta^2 = -16(\alpha - 4)$

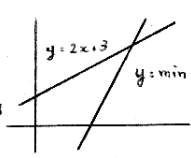
7. Lançam-se simultaneamente cinco dados honestos. Qual a probabilidade de serem obtidos nesta jogada, uma trinca e um par (isto é, um resultado do tipo AAABB com  $B \neq A$ )?

- (A)  $\frac{5}{1296}$  escolha da trinca = 6  
 do par = 5  
 ordenação  $P_5^{3,2} = C_5^2 = 10$   
 (B)  $\frac{25}{648}$   $P = \frac{6 \times 5 \times 10}{6^5} = \frac{25}{648}$   
 (C)  $\frac{125}{324}$   
 (D)  $\frac{125}{648}$   
 (E)  $\frac{125}{648}$

8. Representemos por  $\min(a,b)$  o menor dos números  $a$  e  $b$ , isto é,

$$\min(a,b) = \begin{cases} a, & \text{se } a \leq b \\ b, & \text{se } a > b \end{cases}$$

A solução da inequação  $\min(2x+3, 3x-5) < 4$  é:

- (A)  $x < \frac{1}{2}$  1ª Solução  $y = 2x+3 \rightarrow -2x+3 \leq 3x-5 \rightarrow x \geq 8$
- (B)  $x < 3$    $y = \min(2x+3, 3x-5) \rightarrow x \geq 8$
- (C)  $\frac{1}{2} < x < 3$   $2x+3 < 4 \rightarrow x < \frac{1}{2}$
- (D)  $x > \frac{1}{2}$   $y = 3x-5 \rightarrow 3x-5 < 4 \rightarrow x < 3$
- (E)  $x > 3$   $-3x-5 < 2x+5 \rightarrow x < 5$   $S_1 = \emptyset$   $S_2 = x < 3$   $S = S_1 \cup S_2 \rightarrow x < 3$

9. O coeficiente de  $x^{18}$  no desenvolvimento de  $(x+1)^{20}$  é:

- (A) 380  
(B) 190  
(C) 95  
(D) 20  
(E) 1
- coef.  $18 = C_{20}^{18} \cdot 1^2 = 190$

10. O mínimo valor de  $\frac{x^4+x^2+5}{(x^2+1)^2}$ ,  $x$  real, é:

- (A) 0,50  
(B) 0,80  
(C) 0,85  
(D) 0,95  
(E) 1
- $y = \frac{(4x^3+2x)(x^2+1)^2 - (x^4+x^2+5) \cdot 2(x^2+1) \cdot 2x}{(x^2+1)^4}$   
 $y' = 2x \cdot \frac{(2x^2+1)(x^2+1) - 2(x^4+x^2+5)}{(x^2+1)^3}$

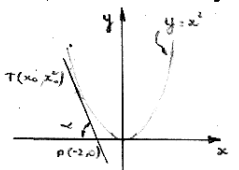
11. Calcule  $\lim_{x \rightarrow 0^+} x e^{1/x} \cdot \lim_{x \rightarrow 0^+} \frac{e^{1/x}}{\frac{1}{x}} \quad y = \frac{1}{x} \rightarrow \infty$

- (A) 0  
(B) 1  
(C)  $\sqrt{e}$   
(D) e  
(E)  $\infty$
- $= \lim_{y \rightarrow \infty} \frac{e^y}{y} \quad \lim_{y \rightarrow \infty} e^y = \infty$

12. Se  $f(x) = \ln \sin^2 x$  determine  $f'(\frac{\pi}{4})$

- (A)  $-\ln 2$   $f(x) = 2 \ln \sin x$   
(B) 1  $f'(x) = \frac{2 \cos x}{\sin x} \quad f'(x) = 2 \operatorname{ctg} x$   
(C)  $\frac{\pi}{4}$   $f'(\frac{\pi}{4}) = 2$   
(D) 2  
(E)  $2\sqrt{2}$

13. As tangentes à curva de equação  $y = x^2$  que passam pelo ponto  $P(-2,0)$  formam ângulo  $\alpha$ . Determine  $\operatorname{tg} \alpha$ .

- (A) 1  
(B) 2  
(C) 4  
(D) 6  
(E) 8
-   $y = x^2 \rightarrow y' = 2x$   
 $t: y - x_0^2 = 2x_0(x - x_0)$   
 $P \in t \rightarrow x_0^2 = 2x_0(-2+x_0)$   
 $x_0 = 0 \rightarrow x_0^2 = -4$   
 $x_0^2 = 4+2x_0^2 \quad \operatorname{tg} \alpha = \frac{|m_1 - m_2|}{|1 + m_1 m_2|} = 1$

14. Determine a excentricidade da elipse de equação  $4x^2 + 9y^2 = 2$ .

- (A)  $\frac{\sqrt{5}}{3}$   $c = \frac{a^2}{2} + \frac{b^2}{9} = 1$   
(B)  $\frac{\sqrt{5}}{4}$   $a^2 = \frac{1}{2} \quad b^2 = \frac{2}{9} \quad c^2 = \frac{5}{18}$   
(C)  $\frac{\sqrt{5}}{6}$   $c^2 = \frac{c^2}{a^2} \quad e^2 = \frac{5}{9} \quad e = \frac{\sqrt{5}}{3}$   
(D)  $\frac{\sqrt{5}}{9}$   
(E)  $\frac{\sqrt{5}}{18}$

2ª Solução

$$\min(a,b) = \frac{a+b - |a-b|}{2}$$

$$\rightarrow \frac{2x+3+3x-5 - |2x+3-3x+5|}{2} = \frac{5x-2 - |-x+8|}{2} < 4$$

$x \geq 8 \quad x < 8$   
 $-6x-2 - (x-8) < 8 \quad -5x-2 - (x-8) < 8$   
 $4x+6 < 8 \rightarrow x < \frac{1}{2} \quad 6x-10 < 8 \rightarrow x < 3$   
 $\rightarrow$  Impossível

$$= \frac{2x[2x^4+3x^2+1-2x^4-2x^2-10]}{(x^2+1)^2} = y' = \frac{2x(x^2-9)}{(x^2+1)^2}$$

$$y' = \begin{cases} x = -3 \rightarrow \text{mínimo} \\ x = 0 \rightarrow \text{maximo} \\ x = 3 \rightarrow \text{mínimo} \end{cases} \quad y_{\min} = x = \pm 3 \rightarrow x^2 = 9$$

$$y_{\min} = \frac{81+9+5}{(9+1)^2} = \frac{95}{100} = 0,95$$

2ª Solução

$$y(x^2+2x+1) = x^4+x^2+5$$

$$(y-1)x^4 + (2y-1)x^2 = 0$$

$$\Delta \geq 0 \rightarrow (2y-1)^2 - 4(y-1)(y-5) \geq 0$$

$$\rightarrow 4y^2 - 4y + 1 - 4y^2 + 24y - 20 \geq 0$$

$$20y - 19 \geq 0 \rightarrow y \geq \frac{19}{20} \quad y \geq 0,95$$

15. A equação da bissetriz do ângulo agudo formado pelas retas  $3x + 4y + 1 = 0$  e  $5x - 12y + 3 = 0$  é:
- (A)  $2x - 2y + 1 = 0$   $\beta = \frac{|3x+4y+1|}{5} = \frac{|5x-12y+3|}{13}$
- (B)  $x - 8y + 1 = 0$
- (C)  $x + 6y = 0$   $|39x + 52y + 13| = |25x - 60y + 15|$
- (D)  $7x + 56y - 1 = 0$   $-39x + 52y + 13 = 25x - 60y + 15$
- (E)  $16x - 2y + 7 = 0$   $14x + 12y - 2 = 3, 7x + 36y - 1 = 0$

$$39x + 52y + 13 = -25x + 60y - 15$$

$$-64x - 8y + 28 = 0 \rightarrow \beta_2: 16x - 2y + 7 = 0 \rightarrow m = 8$$

$$\text{tg } \theta_2 = \left| \frac{8 - \frac{1}{8}}{1 + 8 \cdot \left(-\frac{1}{8}\right)} \right| = \frac{\frac{63}{8}}{5} = \frac{7}{4} > 1$$

16. O vetor projeção de  $\vec{u} = 2\vec{i} + 3\vec{j} - \vec{k}$  sobre  $\vec{v} = 2\vec{i} - 2\vec{j} + \vec{k}$  é:
- (A)  $2\vec{i} - 2\vec{j} + \vec{k}$   $u_{\vec{v}} = |\vec{u}| \cos \theta = \frac{\vec{u} \cdot \vec{v}}{|\vec{v}|}$   $\vec{u}_{\vec{v}} = u_{\vec{v}} \cdot \frac{\vec{v}}{|\vec{v}|}$
- (B)  $\frac{2\vec{i}}{3} - \frac{2\vec{j}}{3} + \frac{1\vec{k}}{3}$   $\frac{\vec{u} \cdot \vec{v}}{|\vec{v}|} \cdot \frac{\vec{v}}{|\vec{v}|} = \frac{\vec{u} \cdot \vec{v}}{|\vec{v}|^2} \cdot \vec{v}$
- (C)  $-2\vec{i} + 2\vec{j} - \vec{k}$   $\vec{u}_{\vec{v}} = \frac{4 - 6 - 1}{4 + 4 + 1} (2\vec{i} - 2\vec{j} + \vec{k})$
- (D)  $-\frac{2\vec{i}}{3} + \frac{2\vec{j}}{3} - \frac{1\vec{k}}{3}$   $-\frac{2}{3}\vec{i} + \frac{2}{3}\vec{j} - \frac{1}{3}\vec{k}$
- (E)  $-6\vec{i} + 6\vec{j} - 3\vec{k}$

17.  $\vec{u}$  e  $\vec{v}$  são vetores unitários tais que  $|\vec{u} + 2\vec{v}| = |\vec{u} - \vec{v}|$ . O ângulo entre  $\vec{u}$  e  $\vec{v}$  mede:
- (A)  $30^\circ$   $(\vec{u} + 2\vec{v}) \cdot (\vec{u} + 2\vec{v}) = (\vec{u} - \vec{v}) \cdot (\vec{u} - \vec{v})$
- (B)  $45^\circ$   $\vec{u} \cdot \vec{u} + 4\vec{u} \cdot \vec{v} + 4\vec{v} \cdot \vec{v} = \vec{u} \cdot \vec{u} - 2\vec{u} \cdot \vec{v} + \vec{v} \cdot \vec{v}$
- (C)  $60^\circ$   $-6\vec{u} \cdot \vec{v} = -3$
- (D)  $90^\circ$   $\frac{|\vec{u}| |\vec{v}| \cos \theta = -\frac{3}{6} = -\frac{1}{2}}$
- (E)  $120^\circ$   $\cos \theta = -\frac{1}{2} \rightarrow \theta = 120^\circ$

18. Sejam A, B e C conjuntos. A condição necessária e suficiente para que  $A \cup (B \cap C) = (A \cup B) \cap C$  é:
- (A)  $A = B = C$   $(A \cup B) \cap (A \cup C) = (A \cup B) \cap C$
- (B)  $A \cap C = \emptyset$   $A \cup C = C \rightarrow A \subset C \rightarrow A \cap C \neq \emptyset$
- (C)  $A = C = \emptyset$   $A \cup C = \emptyset \rightarrow A \cup (B \cap C) = \emptyset = (A \cup B) \cap C$
- (D)  $A = \emptyset$   $A \cup (B \cap C) = B \cap C = (A \cup B) \cap C$
- (E)  $A \cup C = B$

19. Se  $f(x) = \frac{1}{1+e^x}$ , determine  $f^{-1}(x)$ .
- (A)  $\ln(x-1)$   $y = f(x) \Rightarrow x = f^{-1}(y)$
- (B)  $\ln \frac{1}{x}$   $1 + e^x = \frac{1}{y} \Rightarrow e^x = \frac{1}{y} - 1 = \frac{1-y}{y}$
- (C)  $\ln \frac{1-x}{x}$   $x = \ln \frac{1-y}{y} = f^{-1}(y)$
- (D)  $\ln \frac{x}{1-x}$
- (E)  $1 + e^x$

20. Determine o conjunto-imagem da função (fog) para
- $$f(x) = \begin{cases} 0 & \text{se } x < 0 \\ 2x & \text{se } 0 \leq x \leq 1 \\ 0 & \text{se } x > 1 \end{cases} \quad g(x) = \begin{cases} 1 & \text{se } x < 0 \\ x/2 & \text{se } 0 \leq x \leq 1 \\ 1 & \text{se } x > 1. \end{cases}$$
- (A)  $[0, 1] \cup \{2\}$   $f \circ g(x) = f(1) = 2$
- (B)  $(-\infty, +\infty)$   $0 \leq x \leq 1 \rightarrow g(x) = \frac{x}{2} = y$
- (C)  $[0, 1]$
- (D)  $[0, +\infty)$   $0 \leq y \leq \frac{1}{2} \rightarrow f \circ g(x) = f(1) = 2$
- (E)  $\{1\}$   $\text{Im } f \circ g = \{0, 1\} \cup \{2\}$

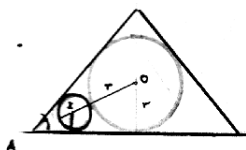
21. Quando as diagonais de um paralelogramo são também bissetrizes dos seus ângulos internos?
- (A) Só se dois ângulos internos e consecutivos forem complementares.
- (B) Só se o paralelogramo for um quadrado.
- (C) Só se o paralelogramo for um retângulo.
- (D) Só se o paralelogramo for um losango.
- (E) Só se a soma dos ângulos internos for  $360^\circ$ .



$\alpha = \beta \rightarrow \Delta ABC$  é isósceles  
 $AB = BC$   
 $ABCD$  é losango

22. Um triângulo equilátero está circunscrito a um círculo de raio  $r$ . O raio do círculo que é tangente ao círculo de raio  $r$  e a dois lados do triângulo é:

- (A)  $\frac{r}{4}$
- (B)  $\frac{r}{3}$
- (C)  $\frac{r}{2}$
- (D)  $\frac{2r}{5}$
- (E)  $\frac{r\sqrt{3}}{3}$



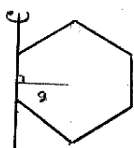
$$AO = 2r'$$

$$2r = 2r' + r' + r$$

$$3r' = r \quad r' = \frac{r}{3}$$

23. O volume gerado pela revolução de um hexágono regular de lado  $a$  em torno de um de seus lados é igual a:

- (A)  $\frac{9\pi}{2} a^3$
- (B)  $\frac{7\pi}{2} a^3$
- (C)  $\frac{5\pi}{2} a^3$
- (D)  $\frac{3\pi}{2} a^3$
- (E)  $3\pi a^3$



$$V = 2\pi Sg$$

$$2\pi \left( \frac{a^2 \sqrt{3}}{2} \right) \left( \frac{a\sqrt{3}}{2} \right)$$

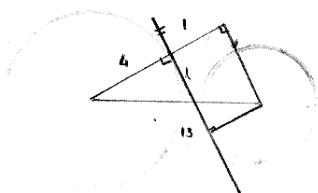
$$\frac{9\pi}{2} a^3$$

24. Se  $\alpha$  é um plano e  $P$  é um ponto não pertencente a  $\alpha$ , quantos planos e quantas retas, respectivamente, contêm  $P$  e são perpendiculares a  $\alpha$ ?

- (A) 1 e 1
- (B) infinitos e zero
- (C) infinitos e 1
- (D) zero e 1
- (E) infinitos e infinitas

25. Os centros de dois círculos de raios 1 e 4 distam 13 entre si. O segmento da tangente comum interna compreendido entre os pontos de tangência mede:

- (A) 12
- (B) 11
- (C) 10
- (D) 9
- (E) 8



$$l = \sqrt{13^2 - 3^2} = 12$$