



## EN - ESCOLA NAVAL

1983

### 1.<sup>a</sup> PARTE: ORGANIZAÇÃO SOCIAL E POLÍTICA DO BRASIL

- Pela Constituição brasileira, é da competência das Forças Armadas:
  - a formulação e execução da política de segurança nacional;
  - o estabelecimento dos objetivos nacionais permanentes;
  - a responsabilidade exclusiva pela segurança nacional;
  - a indicação das áreas indispensáveis à segurança nacional;
  - a defesa da Pátria e a garantia dos poderes constituídos, da lei e da ordem.
- O Presidente da República é escolhido no Brasil:
  - pelo voto direto;
  - pelo Congresso Nacional;
  - pelo Presidente em exercício;
  - pelo Colégio Eleitoral, composto do Congresso Nacional e representantes das Assembleias Legislativas Estaduais;
  - pelo Poder Executivo.
- Os seguintes assuntos são da competência exclusiva do Congresso Nacional, segundo a atual Constituição brasileira, EXCETO UM. Assinale-o:
  - julgar as contas do Presidente da República;
  - autorizar o Presidente da República a declarar guerra, quando esta ocorrer durante o período normal da legislatura parlamentar;
  - aprovar a nomeação dos Prefeitos dos Municípios declarados de interesse da segurança nacional;
  - resolver definitivamente sobre os tratados, convenções e atos internacionais celebrados pelo Presidente da República;
  - aprovar ou suspender a intervenção federal ou o estado de sítio.

- A transferência da capital do Brasil para o interior do país, concretizada quando o Governo Federal instalou-se em Brasília, foi determinada pela Constituição brasileira de:
  - 1824
  - 1891
  - 1934
  - 1937
  - 1946
- Defesa Nacional não é sinônimo de Segurança Nacional porque:
  - a Defesa só é utilizada em caso de guerra declarada;
  - a Defesa tornou-se desnecessária no mundo moderno;
  - a Segurança não envolve atividades militares;
  - a Defesa é parte integrante da responsabilidade de cada cidadão;
  - a Segurança existe apenas após rompimentos diplomáticos com o intuito de impedir um estado de guerra.
- Em relação aos sistemas de governo adotados até hoje no Brasil, identifique a afirmativa CORRETA:
  - o sistema parlamentarista nunca foi adotado no Brasil;
  - na República vigorou sempre o presidencialismo;
  - o parlamentarismo foi adotado uma única vez no Império e uma única vez na República;
  - o sistema parlamentarista foi adotado uma única vez: na fase final do Império (1847-1889);
  - os sistemas presidencialista e parlamentarista têm sido adotados, alternadamente, conforme as circunstâncias.
- O mais alto tribunal do Brasil e supremo intérprete da Constituição é o:
  - Superior Tribunal Militar;
  - Ministério da Justiça;
  - Tribunal de Contas da União;
  - Supremo Tribunal Federal;
  - Tribunal Federal de Recursos.

8. A atual política educacional brasileira, cujas diretrizes se encontram expressas na Lei nº 5692/71, é conhecida como a "Reforma do Ensino". Algumas de suas características são abaixo relacionadas, com EXCEÇÃO DE UMA. Assinale-a:

- (A) estabelece um núcleo comum nos currículos de 1ª e 2ª graus, obrigatório em âmbito nacional, e uma parte diversificada para atender às peculiaridades locais;
- (B) define o objetivo do ensino superior como a pesquisa, o desenvolvimento das ciências, letras e artes, e a formação de profissionais de nível universitário;
- (C) prevê a possibilidade das habilitações profissionais serem realizadas em regime de cooperação com as empresas;
- (D) estabelece como obrigatória em todos os estabelecimentos a orientação educacional e o aconselhamento vocacional;
- (E) permite aos estabelecimentos de ensino de 2ª grau o regime de matrícula por disciplina, podendo o aluno concluir o 2ª grau no mínimo em dois anos e no máximo em cinco anos.

9. A população economicamente ativa brasileira, de acordo com o censo realizado em 1980, está distribuída por setores econômicos, na seguinte ordem decrescente:

- (A) primário - secundário - terciário;
- (B) secundário - primário - terciário;
- (C) terciário - primário - secundário;
- (D) secundário - terciário - primário;
- (E) primário - terciário - secundário.

10. O chamado "milagre brasileiro" ocorreu no período de 1968 - 1973, caracterizado pelos seguintes fatos marcantes:

- (A) crescimento das exportações e decréscimo das dívidas;
- (B) crescimento econômico e aumento do poder aquisitivo;
- (C) crescimento das exportações e aumento da inflação;
- (D) crescimento econômico elevado e decréscimo da inflação;
- (E) crescimento da agricultura junto com a indústria.

11. O Programa Nacional do Alcool - PROÁLCOOL - foi instituído pelo Governo brasileiro no final de 1975, como o primeiro passo concreto para a utilização energética de recursos renováveis da biomassa. Em relação ao PROÁLCOOL, podemos fazer as seguintes afirmativas, EXCETO UMA. Assinale-a.

- (A) a produtividade da cultura canavieira brasileira é bastante razoável, proporcionando a matéria-prima necessária ao desenvolvimento do projeto;
- (B) a Petrobrás está desenvolvendo na Usina de Curvelo (MG) um processo de obtenção de álcool a partir da mandioca, pioneiro em todo o mundo;
- (C) nos veículos, o álcool é considerado melhor antidetonante que a gasolina;
- (D) a principal utilização do álcool, prevista para 1985, é ser usado como combustível automotivo, substitutivo da gasolina;
- (E) a substituição do petróleo pelo álcool reduz os índices de poluição das cidades.

12. Das atividades desenvolvidas pelo projeto JARI, a que está dando os maiores lucros, até o momento, é a:

- (A) produção de arroz;
- (B) exploração de bauxita;
- (C) exportação de madeira;
- (D) produção de celulose;
- (E) exploração de caulim.

13. Com a crise energética provocada pela alta do preço do petróleo no mercado internacional, várias tentativas têm sido feitas no sentido de serem criadas e incrementadas outras fontes alternativas para a produção de energia no nosso país.

Leia as afirmativas abaixo e identifique aquelas que demonstram corretamente a importância que cada unidade da Federação poderá ter como fornecedora de energia.

I- Rondônia, graças à possibilidade de crescimento da produção de cassiterita e de expansão do extrativismo da borracha.



II- O Maranhão, pela importante alternativa que o extrativismo vegetal poderá fornecer à produção energética, principalmente em função da ocorrência do babaçu.

III- A Bahia, graças à possibilidade de aumento da produção de petróleo e à dinamização da exploração do sal.

IV- O Rio de Janeiro, pela variedade de opções, entre as quais estão o petróleo e a cana-de-açúcar.

V- Santa Catarina, por poder contar com uma grande expansão da mineração de carvão e pela possibilidade de serem ampliadas as lavouras de açúcar.

Assinale:

- (A) se somente as afirmativas I e III estão corretas;
- (B) se somente as afirmativas II e IV estão corretas;
- (C) se somente as afirmativas I, II e V estão corretas;
- (D) se somente as afirmativas I, III, IV e V estão corretas;
- (E) se somente as afirmativas II, III, IV e V estão corretas.

14. Esta questão apresenta duas colunas que deverão ser correlacionadas. Uma relaciona Presidentes da República do Brasil e outra, os planos globais de atividades do Governo Federal adotados nos diversos períodos presidenciais. Dois itens da primeira coluna NÃO se correlacionam com os itens da segunda coluna.

- ( I ) GETÓLIO VARGAS
- ( II ) EURICO DUTRA
- ( III ) JUSCELINO KUBITSCHK
- ( IV ) JOÃO GOULART
- ( V ) JÂNIO QUADROS
- ( VI ) CASTELO BRANCO
- ( VII ) COSTA E SILVA
- (VIII ) EMÍLIO MÉDICI
- ( IX ) ERNESTO GEISEL

- ( ) Plano de Metas
- ( ) PAEG (Plano de Ação Econômica do Governo)
- ( ) Plano Trienal
- ( ) Plano SALTE

( ) I PND (Plano Nacional de Desenvolvimento)

( ) Plano LAFER

( ) PED (Plano Econômico de Desenvolvimento)

Assinale:

- (A) se os itens forem I e V;
- (B) se os itens forem II e VI;
- (C) se os itens forem III e VII;
- (D) se os itens forem IV e VIII;
- (E) se os itens forem V e IX.

15. No início dos anos 70, vários projetos foram implementados pelo Governo Federal, como parte de uma política de integração nacional. Esta questão apresenta duas colunas que deverão ser correlacionadas. DOIS itens da primeira coluna NÃO se correlacionam com os itens da segunda coluna.

- ( I ) PROTERRA
- ( II ) POLONORDESTE
- ( III ) PIN
- ( IV ) PROVALE
- ( V ) PRORURAL
- ( VI ) POLAMAZÔNICA
- ( VII ) POLOCENTRO
- (VIII) PIS

( ) específico para o Norte e o Nordeste, visa a integração nacional na base de grandes rodovias e colonização.

( ) objetiva promover a integração dos trabalhadores na vida das empresas, constituindo para eles um patrimônio.

( ) estende aos homens do campo os benefícios já usufruídos pelos trabalhadores urbanos.

( ) visa facilitar o acesso do homem à propriedade da terra e fomentar a agroindústria no Norte e no Nordeste.

( ) programa de desenvolvimento dos Cerrados.

( ) objetiva o desenvolvimento econômico e social do vale do São Francisco.

Assinale:

- (A) se os itens forem I e V;
- (B) se os itens forem II e VI;
- (C) se os itens forem III e VI;
- (D) se os itens forem III e VII;
- (E) se os itens forem IV e VIII.

16. Esta questão apresenta duas colunas que de verão ser correlacionadas. Uma relaciona algumas importantes hidrelétricas brasileiras e outra, os rios nos quais estão localizadas. DOIS itens da primeira coluna NÃO se correlacionam com os itens da segunda coluna.

- ( ) ILHA SOLTEIRA
- ( ) PAULO AFONSO IV
- ( ) ITAIPU
- ( ) SOBRADINHO
- ( ) TUCURUÍ
- ( ) SÃO FELIX
- ( ) SALTO SANTIAGO

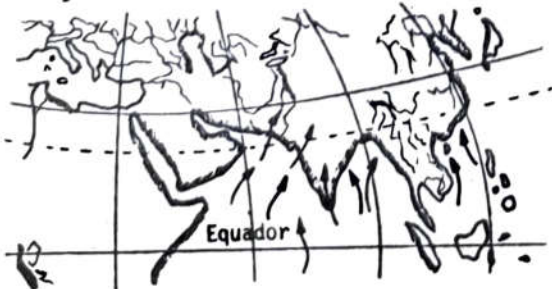
- ( I) PARANAÍBA
- ( II) TOCANTINS
- ( III) SÃO FRANCISCO
- ( IV) GRANDE
- ( V) PARANÁ
- ( VI) IGUAÇU

Assinale:

- (A) se os itens forem I e IV;
- (B) se os itens forem I e VI;
- (C) se os itens forem II e IV;
- (D) se os itens forem III e VI;
- (E) se os itens forem IV e V.

## 2ª PARTE: GEOGRAFIA

17. Com base no mapa abaixo, indique o clima típico caracterizado pelos ventos, cujas direções estão identificadas, e que refletem um mecanismo que controla o ritmo climático e influi em grande parte de uma vasta região do continente asiático:

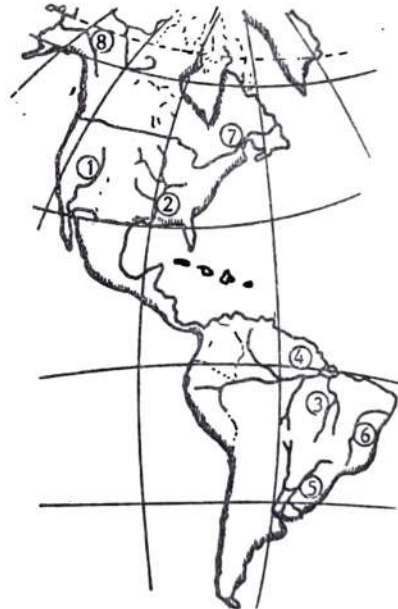


- (A) ventos equatoriais de leste;
- (B) monções de verão;
- (C) alísios de nordeste;
- (D) alísios de sudeste;
- (E) monções de inverno.

18. As grandes cordilheiras atuais ou dobramentos modernos como por exemplo os Andes, os Alpes, o Himalaia, as Rochosas, são resultantes do(a):

- (A) vulcanismo;
- (B) abalo sísmico;
- (C) epirogênese;
- (D) tectonismo horizontal;
- (E) diastrofismo.

19. No mapa a seguir, os números correspondem, em ordem crescente, respectivamente aos rios:

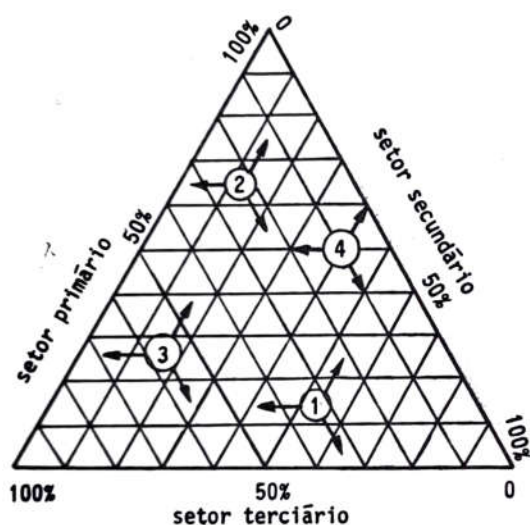


- (A) Colorado, Mississippi, Araguaia, Amazonas, Paraná, São Francisco, São Lourenço, Yukon;
- (B) Colorado, Mississippi, Yukon, Paraná, São Francisco, Araguaia, São Lourenço, Amazonas;
- (C) Missouri, Colorado, São Francisco, Amazonas, Araguaia, Mississippi, Yukon;
- (D) Rio Grande, Mississippi, Xingu, Amazonas, Paraguai, São Francisco, Colorado, Orenoco;
- (E) Colorado, Rio Grande, Xingu, Amazonas, Paraná, Rio Doce, Yukon, São Lourenço.



20. No gráfico abaixo, que mostra a relação existente entre a população e setores de atividades econômicas, enumere as características relacionadas na questão seguinte e assinale a seqüência CORRETA.

- ( ) país subdesenvolvido
- ( ) país desenvolvido
- ( ) país de atividade agrícola predominante
- ( ) país altamente industrializado
- ( ) país de atividades turísticas com grande importância



- (A) 2, 1, 2, 1, 3
- (B) 2, 3, 1, 2, 1
- (C) 3, 1, 2, 4, 2
- (D) 1, 2, 3, 2, 3
- (E) 1, 2, 1, 3, 4

21. Assinale a alternativa que identifica em que condições o êxodo rural pode ser intensificado nos países subdesenvolvidos:

- (A) se houver um rápido crescimento vegetativo da população no meio urbano;
- (B) se houver maior concentração das propriedades rurais e paralelamente uma exploração em larga escala do solo;
- (C) se houver uma divisão e redistribuição das grandes propriedades rurais;
- (D) se as áreas ocupadas com pastagens forem transformadas em áreas agrícolas;
- (E) se houver aplicação de insumos e mecanização na zona rural, com concomitante expansão das áreas de exploração.

22. A Europa Ocidental, após a 2ª Guerra, para a reconstrução da economia estabeleceu:

- (A) a implantação de uma economia liberal cuja característica principal foi a não intervenção dos governos nas atividades econômicas;
- (B) barreiras à livre movimentação de capital e mão-de-obra, para manter a auto-suficiência das economias nacionais;
- (C) a proibição de intercâmbio com os E.U.A. e União Soviética, para manter a independência político-econômica dos países;
- (D) políticas particulares em relação ao comércio com outros países desenvolvidos, atendendo aos interesses regionais;
- (E) uniões supranacionais, como Benelux e Mercado Comum Europeu, com a finalidade de ampliar o comércio e a indústria, desenvolvendo as economias regionais.

23. A área abaixo representada tem sido alvo das atenções mundiais nos últimos anos. Dentre os fatores que justificam essa atenção, podemos citar:



- I- as lutas entre os grupos nômades habitantes dos desertos, que provocam crises econômicas locais e mesmo internacionais;
- II- a instabilidade política de muitos países, que resulta, quase sempre, de um passado de dominação externa ou do neocolonialismo europeu;
- III- o rápido desenvolvimento tecnológico nessa região, associando política e melhorias sociais conquistadas recentemente;

IV- os conflitos que ocorrem nessas áreas, como o caso entre o Iraque e Irã, que podem ter reflexos extra-regionais;

V- a grande parte do petróleo consumido no mundo proveniente dessa área, que exporta quase a totalidade de sua produção.

Assinale:

- (A) se somente as alternativas I, II, III e IV forem corretas;
- (B) se somente as alternativas II, III e IV forem corretas;
- (C) se somente as alternativas II, IV e V forem corretas;
- (D) se somente as alternativas II, III, IV e V forem corretas;
- (E) se somente as alternativas I, II e III forem corretas.

24. Assinale qual das alternativas abaixo possui apenas áreas oceânicas de grande importância na pesca marítima:

- (A) mar do Japão, mar do Norte e Báltico, costa Pacífica do Canadá e EUA;
- (B) mar Vermelho, mar da China, mar da Mancha, costa Atlântica dos EUA e Canadá;
- (C) mar de Mármara, mar Mediterrâneo, mar do Japão, mar do Norte;
- (D) mar da China, mar do Norte, mar da Mancha, mar Mediterrâneo;
- (E) costa Pacífica do Canadá e EUA, costa do Peru e Chile, mar do Japão, mar Cáspio, mar Mediterrâneo.

25. Indique a região cuja atividade do setor primário é predominante e está caracterizada a seguir.

"Estendendo-se do Mississippi ao Atlântico, ao sul dos Grandes Lagos, aparece uma zona em que a atividade dominante, abrangendo pequenos e médios proprietários, leva a intensificação das técnicas para um melhor rendimento. Os estados de New York, New Jersey e Pennsylvania, nessa região, contribuem com aproximadamente 20% da produção total do país."

- (A) Corn belt - Cinturão do milho.
- (B) Cotton belt - Cinturão do algodão.
- (C) Wheat belt - Cinturão do trigo.
- (D) Dairy belt - Cinturão do leite.
- (E) Culturas subtropicais.

26. Sobre a América Latina, assinale a afirmativa ERRADA:

- (A) a estrutura agrária é caracterizada pelo predomínio dos latifúndios, embora tenham sido tentadas várias reformas agrárias;
- (B) o desenvolvimento industrial apoiado na substituição de importações tem sido feito às custas do capital estrangeiro;
- (C) a industrialização em curso tem contribuído para diminuir as desigualdades econômicas existentes entre as diversas nações latino-americanas;
- (D) os principais produtos exportados atualmente são praticamente os mesmos que constituíam a pauta das exportações na fase pré-industrial;
- (E) a importação de produtos manufaturados e de tecnologia continua a ocorrer, inclusive nos países que já possuem um parque industrial diversificado.

27. Quanto à África ao Sul do Saara são feitas as afirmativas:

- I- É uma área pouco importante, sob o ponto de vista econômico, em recursos naturais.
- II- A plantation contribui para uma importante posição de seus países no cenário da agricultura tropical.
- III- É genericamente chamada África Negra, embora no extremo-sul existam descendentes de colonos europeus.
- IV- Foi uma área rudemente marcada pelo colonialismo.
- V- Sua agricultura é do tipo mediterrâneo, sendo as principais culturas: oliveiras, vinhas e frutas cítricas.

São ERRADOS os itens:

- (A) I, III, IV;
- (B) I, V;
- (C) III, IV;
- (D) I, III, IV; V;
- (E) II, IV, V.

28. Assinale a afirmativa INCORRETA:

- (A) a bacia do rio Paranã possui o maior potencial hidrelétrico do Brasil;



- (B) a escassez de petróleo e a baixa qualidade do carvão nacional são compensados pelo potencial hidrelétrico do País, que é considerado um dos maiores do globo;
- (C) a região brasileira que dispõe de melhor infraestrutura no setor hidrelétrico é a Sudeste;
- (D) Jupiá e Ilha Solteira são as duas usinas que constituem o Complexo Hidrelétrico do Urubupungá;
- (E) apesar do nosso potencial hidrelétrico, a maior parte da produção de eletricidade é a fonte térmica.

29. Relacione os principais produtos que passam pelos terminais marítimos descritos abaixo e assinale a seqüência correta sendo que DOIS itens da primeira coluna NÃO se correlacionam com os itens da segunda coluna:

- 1 - manganês
- 2 - minério de ferro
- 3 - trigo
- 4 - sal
- 5 - petróleo e derivados
- 6 - açúcar e melão
- 7 - borracha
- 8 - madeira

- ( ) Recife  
( ) Cotrijuf  
( ) Ilha Redonda e Ilha Comprida  
( ) Macapá  
( ) Areia Branca  
( ) Tubarão

- (A) 6, 2, 7, 5, 4, 3  
(B) 5, 4, 2, 3, 1, 8  
(C) 5, 3, 8, 4, 7, 6  
(D) 6, 3, 5, 1, 4, 2  
(E) 4, 6, 5, 1, 3, 2

30. Numere os parênteses, associando-os às indústrias abaixo relacionadas:

- 1 - indústria cerâmica
- 2 - indústrias alimentícias
- 3 - indústria siderúrgica
- 4 - indústria madeireira
- 5 - indústria química
- 6 - indústria automobilística
- 7 - indústria têxtil

- ( ) Ocupa o maior número de empregados; a maior produção provém de São Paulo, Minas Gerais e Rio de Janeiro;
- ( ) Indústria de base em grande expansão no Brasil, tem nos pólos de São Paulo e da Bahia as principais áreas produtoras;
- ( ) As maiores indústrias encontram-se em Minas Gerais (Vale do Rio Doce), Rio de Janeiro (Volta Redonda) e São Paulo (Cubatão);
- ( ) Constitui o grupo mais importante da indústria brasileira pelo valor da produção, encontra-se dispersa pelo território, mas sua importância é maior nas regiões Sul e Sudeste;
- ( ) Coloca-se entre as dez maiores do mundo e concentra-se quase totalmente em São Paulo, parte da produção é exportada, principalmente para a América Latina.

- (A) 7, 5, 3, 2, 6 (B) 5, 1, 6, 4, 2  
(C) 7, 2, 6, 3, 4 (D) 3, 6, 2, 1, 2  
(E) 5, 3, 4, 2, 3

31. À exceção do Sudeste, a Região Sul apresenta condições econômicas e sociais em geral superiores à média brasileira. Esse maior desenvolvimento tem suas origens históricas ligadas sobretudo:

- (A) ao fato de ser a região de povoamento mais antigo do país;
- (B) ao sucesso das grandes lavouras tropicais que dominam a região;
- (C) ao predomínio da exploração da terra e da policultura associada à criação;
- (D) à grande influência do imigrante asiático;
- (E) aos grandes recursos da região.

32. Com base no quadro abaixo, assinale a afirmativa CORRETA:

TAXA MÉDIA GEOMÉTRICA DE CRESCIMENTO ANUAL DA POPULAÇÃO RURAL POR GRANDES REGIÕES NOS PERÍODOS INTERCENSITÁRIOS

GRANDES REGIÕES	Taxas médias geométricas de crescimento anual (%)			
	1940/50	1950/60	1960/70	1970/80
BRASIL	1,60	1,55	0,57	-0,61
Região Norte...	1,80	2,37	2,11	3,71
Região Nordeste	1,84	1,02	1,10	0,55
Região Sudeste.	0,64	1,06	-1,88	-1,99
Região Sul.....	2,97	2,90	2,20	-2,47
Região Centro-Oeste.....	2,98	3,89	3,14	-0,78

FONTE: Sinopse preliminar do Censo Demográfico - IX Recenseamento Geral do Brasil-1980 - FIBGE - 1981.

- (A) a população rural da Região Sudeste tem apresentado crescimento negativo, nas duas últimas décadas, devido principalmente à queda da taxa de crescimento vegetativo;
- (B) a Região Sul apresentou crescimento negativo na última década exclusivamente em função da ida de população rural para as cidades da região;
- (C) a Região Centro-Oeste na última década perdeu população rural para as cidades da Região Sudeste;
- (D) a Região Norte apresentou crescimento expressivo, tendo concorrido para o fato a implantação de colonos oriundos do Sul do País;
- (E) o crescimento da população rural no Nordeste brasileiro identifica o retorno daqueles que tinham ido para as cidades, principalmente no Centro-Sul do País.

33. Feitas as afirmativas abaixo:

- I- A hidroeletricidade é bastante versátil em termos de localização espacial.
- II- A hidroeletricidade exige para a sua implantação investimentos bastante baixos.
- III- A hidroeletricidade é uma fonte de energia inesgotável, ao contrário do petróleo e do carvão mineral.

IV- A hidroeletricidade, comparando com o petróleo e o carvão mineral, é uma fonte de energia menos poluente.

Assinale:

- (A) se as afirmações I e IV forem corretas;
- (B) se as afirmações I e II forem corretas;
- (C) se as afirmações I, II e III forem corretas;
- (D) se as afirmações II, III e IV forem corretas;
- (E) se as afirmações III e IV forem corretas.

### 3ª PARTE - HISTÓRIA

34. O Rio Nilo marcou profundamente a civilização egípcia, porque:

- (A) suas cheias e vazantes caracterizavam a fertilidade do solo;
- (B) suas águas piscosas garantiam a base da economia daquele povo;
- (C) ele dividia o reino em duas importantes unidades políticas, a ocidente e a oriente;
- (D) seu delta navegável fez do povo egípcio a principal comunidade marítima antiga;
- (E) era um rio inteiramente navegável.

35. A segunda guerra púnica teve como principal região de operações militares:

- (A) a Sicília;
- (B) o Norte da África;
- (C) a Espanha;
- (D) a Península Ibérica;
- (E) a Gália Transalpina.

36. A grande extensão do Império Romano acarretou sua divisão. A capital do Império Romano do Oriente chamava-se, então:

- (A) Alexandria;
- (B) Constantinopla;
- (C) Bizâncio;
- (D) Damasco;
- (E) Istambul.





37. Deu-se o nome de Reconquista:
- (A) ao esforço romano para reaver territórios perdidos para os bárbaros;
  - (B) à luta dos cristãos para expulsar os árabes da Península Ibérica;
  - (C) ao movimento de recuperação dos valores da Antigüidade Clássica;
  - (D) à reação dos espanhóis contra os astecas, no México;
  - (E) à recuperação dos lugares santos, nas Cruzadas, que haviam caído em mãos dos sarracenos.
38. A vitória dos reis contra a nobreza feudal, obtida com o apoio da burguesia, acabou por estabelecer:
- (A) o despotismo esclarecido;
  - (B) o iluminismo;
  - (C) o capitalismo;
  - (D) a Revolução Comercial;
  - (E) os Estados Nacionais.
39. O movimento religioso, destinado a combater as heresias do momento, surgido no século XVI, de que foi expoente a Companhia de Jesus, chamou-se:
- (A) monofisismo;
  - (B) Reforma;
  - (C) Calvinismo;
  - (D) Jansenismo;
  - (E) Contra-Reforma.
40. O mercantilismo e o comercialismo foram aspectos de uma prática econômica dos séculos XVI e XVII, que se chamou:
- (A) Mercantilismo;
  - (B) Colonialismo;
  - (C) Capitalismo;
  - (D) Fisiocracia;
  - (E) Monetarismo.
41. A forma de organização política predominante nas sociedades liberais do século XIX, na Europa, foi:
- (A) República democrática;
  - (B) Monarquia absoluta;
  - (C) Monarquia parlamentarista;
  - (D) República censitária;
  - (E) Oligarquia.
42. Foi componente ideológico importante na Corrida Colonial do século XIX:
- (A) Fascismo;
  - (B) Nacionalismo;
  - (C) Racionalismo;
  - (D) Racismo;
  - (E) Integrismo.
43. Chamou-se Questão do Oriente:
- (A) à conquista, pelo Japão, de territórios continentais;
  - (B) ao desmembramento do Império Otomano;
  - (C) à exploração da China, pelos europeus;
  - (D) à rivalidade sino-japonesa;
  - (E) à rivalidade sino-russa.
44. Um resultado concreto da Grande-Guerra 1914-18, na Europa, foi:
- (A) a hegemonia da Rússia no Leste europeu;
  - (B) o crescimento da Grã-Bretanha no concerto das nações;
  - (C) o intervencionismo americano nos negócios europeus;
  - (D) novo surto colonialista;
  - (E) o desmembramento do Império Austro-Húngaro.
45. A eclosão da II Guerra Mundial, na Europa, teve como primeiro passo a invasão da:
- (A) Etiópia pela Itália;
  - (B) Holanda pela Alemanha;
  - (C) Polônia pela Alemanha;
  - (D) França pela Itália;
  - (E) França pela Alemanha.
46. O quadriênio de Hermes da Fonseca marcou uma das muitas crises da República, que ficou conhecida como:
- (A) Tenentismo;
  - (B) Encilhamento;
  - (C) Salvacionismo;
  - (D) Intentona Comunista;
  - (E) Dezoito do Forte.

47. A criação da Casa da Índia, por D.Manuel I, em Portugal, significava:
- (A) o estabelecimento do monopólio do Estado no comércio das especiarias;
  - (B) uma providência objetiva para incentivar a participação burguesa no comércio oriental;
  - (C) a abertura de um organismo financeiro aberto ao público consumidor das especiarias;
  - (D) a abolição do monopólio régio no comércio das especiarias;
  - (E) um golpe fatal no comércio flamengo.
48. A ocupação holandesa do Nordeste, no século XVII, visava principalmente a:
- (A) intervir diretamente na produção açucareira;
  - (B) resguardar interesses financeiros e comerciais;
  - (C) expandir a colonização holandesa no mundo;
  - (D) auxiliar os aliados portugueses contra a ocupação espanhola (união ibérica);
  - (E) aprender o cultivo da cana-de-açúcar.
49. A transição do primeiro para o segundo reinado, assim como marca o fim do processo de Independência, consolida no poder um importante segmento da sociedade brasileira, que foi:
- (A) a burguesia cafeeira de São Paulo;
  - (B) a aristocracia rural decadente;
  - (C) a burguesia urbana do Rio de Janeiro;
  - (D) o grupo de proprietários rurais;
  - (E) o grupo militar.
50. Uma das mais expressivas manifestações do Tenentismo, que, começando no Brasil veio a terminar na Bolívia, foi:
- (A) a luta de Canudos;
  - (B) a Intentona de 1935;
  - (C) a revolta dos Dezoito do Forte;
  - (D) a revolta da Chibata;
  - (E) a Coluna Prestes.